

2025 年度 大妻中野中学校 第5回アドバンスト入試

(2月4日午前 問題用紙)

社 会

受験上の注意

- (1) この問題用紙は表紙を含めて13ページあります。
- (2) 試験開始後ただちにページ数を確認してください。
- (3) 問題用紙・解答用紙それぞれに受験番号と座席番号と氏名を忘れずに記入してください。

受験番号と座席番号は算用数字で記入してください。

- (4) 試験時間は30分です。
- (5) 解答は全て解答用紙に記入してください。
- (6) この試験は50点満点です。

受験 番号					番	氏名	
座席 番号	/				番		

1 次の文章をよく読んで、後の各問いに答えなさい。

Aさん、Bさん、Cさんの3人は、それぞれ別の県に住む小学6年生です。3人は、2024年（令和6年）の夏休みに「私が通う学校の給食自慢」というテーマで、1分間スピーチをしました。以下がその内容です。

Aさん：私の自慢の給食は、7月1日の特別メニューです。昔は「①鰯の海」と呼ばれていた湖で獲れた魚を使った料理をいただきます。この日は、メイン料理である小鮎のフライの横に、県の特産品である赤こんにゃくを細く切ってかつお節とあえた料理が並びます。「鰯」はカイツブリという②水鳥の一種で、県鳥となっています。現在の名称が知られるようになったのは約320年前からで、湖の形がある楽器の形に似ていることに由来していると言われています。③この日は、県内全域で湖岸を清掃するなど、湖への思いをみんなで共有して、環境を守る取り組みをおこなう大切な日となっています。私の住む甲賀市はその湖に面してはいませんが、この大切な日に特別な給食をいただくことが、湖の文化や伝統、水質問題に興味を持ち、湖のために自分に何ができるかを考えるきっかけとなっています。

Bさん：私の自慢の給食は、秋の特別メニューです。射水市内の小学6年生が新湊産の海産物をなんと丸ごと味わえます。食べ方が難しいので、初めて食べる人のために、漁業協同組合の方が食べ方を教えてください。市長はこの取り組みについて、「こんなおいしい海産物があることを市外や県外の知り合いに伝えてもらうことで、射水市のファンを増やしてほしい。」と、話されています。ただ、心配なことは、昨年に比べて水揚げ量が激減していることです。今年の元日に④隣（西側）の県の半島で起きた地震によって海底で地滑りが起きて、海産物が埋まって死んだり、逃げたりしてしまったそうです。私たちの自慢の秋の特別メニューがなくなってしまうのはとても悲しいことなので、どうしたらもとの海に戻るのかを考えていきたいと思います。

Cさん：私の自慢の給食は、お正月や入学式、卒業式などのお祝いにでる特別メニューです。これらの行事がおこなわれる日には、給食にイナムドゥチという汁物が登場します。「イナ」は「猪」、「ムドゥチ」は「もどき」という意味があります。昔は猪の肉が使われていましたが、手に入りにくくなったことから現在は豚肉が使われているので、イナムドゥチ（猪もどき）と呼ばれるようになった伝統料理です。その他に、シブイ（冬瓜）のそぼろ煮、ゴーヤーのあげ煮、ドラゴンフルーツのゼリーなど、県ならではの食材を使った料理が並びます。ゼリーだけは丸いプラスチック容器に入っていますが、その他の料理は、普段のお皿ではなく⑤伝統工芸品である漆器でいただくので、なおいっそういつもとは違う特別な気持ちになります。

問1 次の写真は、Aさん、Bさん、Cさんの自慢の給食です。Aさんの給食はどれですか。下から1つ選んで、記号で答えなさい。

(ア)



(イ)



(ウ)



(農林水産省公式ホームページより引用)

問2 次の地図は、Aさん、Bさん、Cさんが住んでいる都道府県をあらわしています。この中で、Bさんが住んでいる都道府県はどれですか。下から1つ選んで、記号で答えなさい。※地図の縮尺は一定ではありません。

(ア)



(イ)



(ウ)



問3 下線部①について、この湖の現在の名前は何ですか。答えなさい。

問4 下線部②について、水鳥が休んだり、えさをとったりするのに重要な湿地を保護するために、国際的な取り組みがおこなわれています。現在172か国が、「特に水鳥の生息地として国際的に重要な湿地に関する条約」を結んでいて、登録湿地数は約2500か所にのびります。この条約は、結ばれた場所の名称から何と呼ばれていますか。答えなさい。

問5 下線部③について、「この日」が大切な理由は、1980年(昭和55年)に「湖の富栄養化の防止に関する条例」ができて1周年を記念して、県が「この日」(7月1日)を「湖の日」と定めたからです。富栄養化とは、湖に栄養が増えすぎてしまうことで、アオコや赤潮が発生しやすくなります。富栄養化を引き起こす原因となった合成洗剤に含まれる物質は何ですか。下から1つ選んで、記号で答えなさい。

(ア) カドミウム

(イ) 有機水銀

(ウ) リン

(エ) 亜硫酸ガス

問6 下線部④について、この県には国が指定した伝統工芸品が10品目あります。10品目に入っていないものはどれですか。下から1つ選んで、記号で答えなさい。

(ア) 西陣織 (イ) 加賀友禅 (ウ) 輪島塗 (エ) 九谷焼

問7 下線部⑤について、次の文章を読んで、後の問いに答えなさい。

【2024年5月28日に都内で開催された伝統的工芸品産業の振興に関する
法律制定50周年記念式典での岸田総理大臣の挨拶の一部】

来年のX万博においても、伝統工芸品を、それらが育まれてきた日本文化と一体的にPRするとともに、Y現代の生活や海外のニーズにもマッチした新たな価値や魅力、これを発信していきたいと思ひます。伝統的工芸品産業振興協会、そして伝統工芸士の皆様、ぜひ、次の50年に向けて共に歩んでまいりたいと思ひます。(首相官邸公式ホームページより引用)

(1) 下線部Xについて、2025年の万博開催地はどこですか。開催都市と人工島の組み合わせとして正しいものを、下から1つ選んで、記号で答えなさい。

(ア) 神戸市ーポートアイランド (イ) 神戸市ー夢洲

(ウ) 大阪市ーポートアイランド (エ) 大阪市ー夢洲

(2) 下線部Yについて、盛岡の南部鉄器の会社では、これまで「黒」が常識とされていた急須を、フランスの紅茶屋さんからの要望によりカラフルにしたところ、ヨーロッパ、アメリカ、アジア各国で人気となりました。今では、輸出額が売り上げの約半分を占めるようになりました。これは、海外の需要にあった新たな価値や魅力の発信が成功した例といえます。

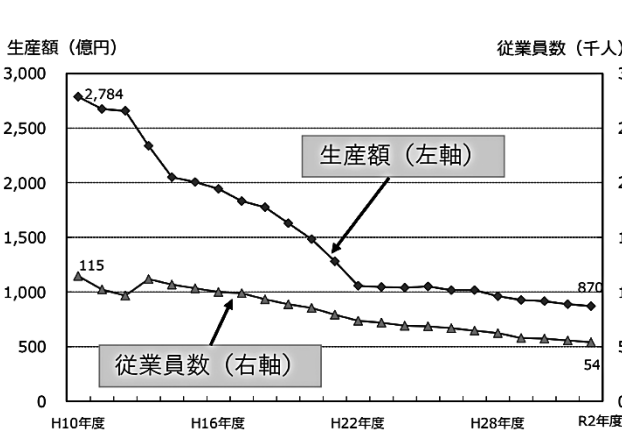
このように、今までの常識にとらわれず新しい発想で、売り上げを伸ばしたいと考えている京都の伝統工芸品の会社があります。この会社が売り上げを伸ばすには、どのような商品をつくれればよいですか。あなたの考えを述べなさい。その際、次の会社情報を参考にすること。

- 創業から約460年
- 京友禅を取り扱う会社
- 京友禅とは…鮮やかな色で、花や動物の模様を手染めした絹織物
- 絹の特徴…軽くて柔らかい、静電気が起きにくくホコリをよせつけない
- 現在作っている商品…着物

問 8 下線部⑤について、次の（ア）～（エ）の文章は、下の3つの資料に関して述べたものです。その内容として、正しくないものはどれですか。下から1つ選んで、記号で答えなさい。

- （ア）伝統的工芸品の生産額は平成 28 年度に 1000 億円を下回って以降、徐々に減少している。また、現役職人数・従業員数も減少傾向である。
- （イ）陶磁器食卓用品を輸出している上位 8 つの国や地域の中で、2017 年から 2021 年にかけて、輸出金額が毎年増加している国は 2 つだけである。
- （ウ）女性伝統工芸士数の割合は増加傾向にあるが、伝統工芸士の現役職人数は減少している。つまり、女性伝統工芸士の人数は毎年、確実に減少しているということである。
- （エ）伝統工芸士の高齢化が問題になっていることは、どのグラフからも読み取ることはできない。

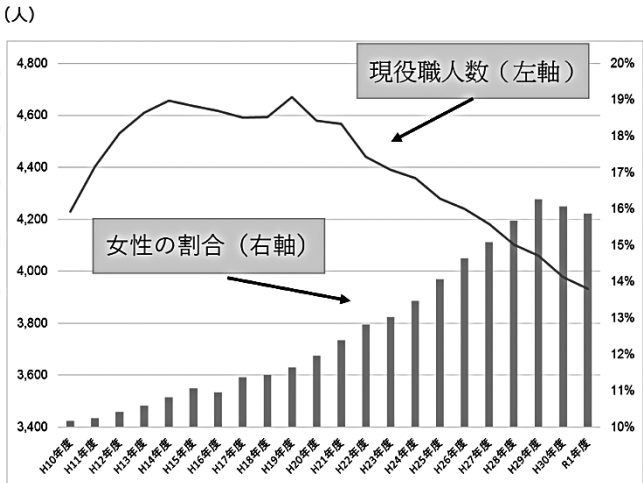
【伝統的工芸品の生産額・従業員数の推移】



出典：一般財団法人伝統的工芸品産業振興協会

(文化庁公式ホームページより引用)

【伝統工芸士数の推移】



(文化庁公式ホームページより引用)

【国・地域別陶磁器食卓用品輸出金額の推移】

単位：百万円	2017 年	2018 年	2019 年	2020 年	2021 年
中華人民共和国	670	783	1169	3092	5398
台湾	355	379	334	307	483
タイ	95	89	81	81	91
フィリピン	82	72	74	58	242
カンボジア	141	101	110	155	113
アメリカ合衆国	1099	1137	986	749	1080
大韓民国	223	290	260	222	256
オランダ	108	112	129	152	223

(財務省貿易統計より作成)

2 次の文章をよく読んで、後の問いに答えなさい。

これまで紙幣の肖像になった人物に関するできごとを以下にまとめました。

- A 幼いころから詩歌に並外れた才能を発揮し、11歳で初めて漢詩を読み、18歳で文章博士^{もんじょう}となりました。当時権勢をふるっていた①藤原氏一族におとしいれられ、(1)太宰府^{さいぜん}に左遷されました。
- B (2)大和国高市郡^{やまとのくにたかいちぐん}生まれで、中臣氏の一族でした。蘇我氏を倒し、②大化の改新を推し進めた中心人物です。亡くなる時に天智天皇から大織冠^{たいしよつかん}という当時の朝廷最高の冠位と藤原の姓を賜^{たまわ}りました。
- C 長州藩出身で、16歳のときに松下村塾に入門しました。その後、岩倉使節団の副使として欧米をみてまわりました。内閣制度をつくり、憲法を制定するなどの活躍^{かつやく}もありますが、貨幣の創設にもかかわりました。
- D 17歳の時に父が事業に失敗し亡くなるなど厳しい状況が続きました。そのような中で、『たけくらべ』や『にごりえ』といった貧しい女性の悲哀^{ひあい}を、同性の視点から細やかに描きました。24歳の時に肺結核で亡くなりました。
- E (3)相模国足柄郡栢山村^{さがみのくにあしがらぐん かやま}の農家の子として生まれました。昼間に薪^{まき}を背負って歩きながら本を読んで勉学^{べんがく}に励みました。小田原をはじめとして、関東各地から荒廃^{こうはい}した③農村の復興を依頼され、600以上の農村を立て直しました。

紙幣の肖像となった人物について調べてみると、肖像画が残っていないこともあったようです。新しい紙幣の導入を考えていた明治政府は、キヨッソーネというイタリア人銅版画家にデザインを頼みました。彼は和氣清麻呂^{わけのきよまろ}という人物のモデルに④木戸孝允を使うなど、当時の政治家を紙幣の肖像画のモデルとしました。

紙幣のデザインが変わったことをきっかけにこのように調べてみると、⑤たくさんの発見に出会えます。気になったことから学びを広げてみてください。

問1 A～Dの人物の組み合わせとして正しいものはどれですか。下から1つ選んで、記号で答えなさい。

(ア) A 菅原道真 B 藤原道長 C 板垣退助 D 樋口一葉

(イ) A 菅原道真 B 藤原鎌足 C 伊藤博文 D 樋口一葉

(ウ) A 小野妹子 B 藤原不比等 C 福沢諭吉 D 津田梅子

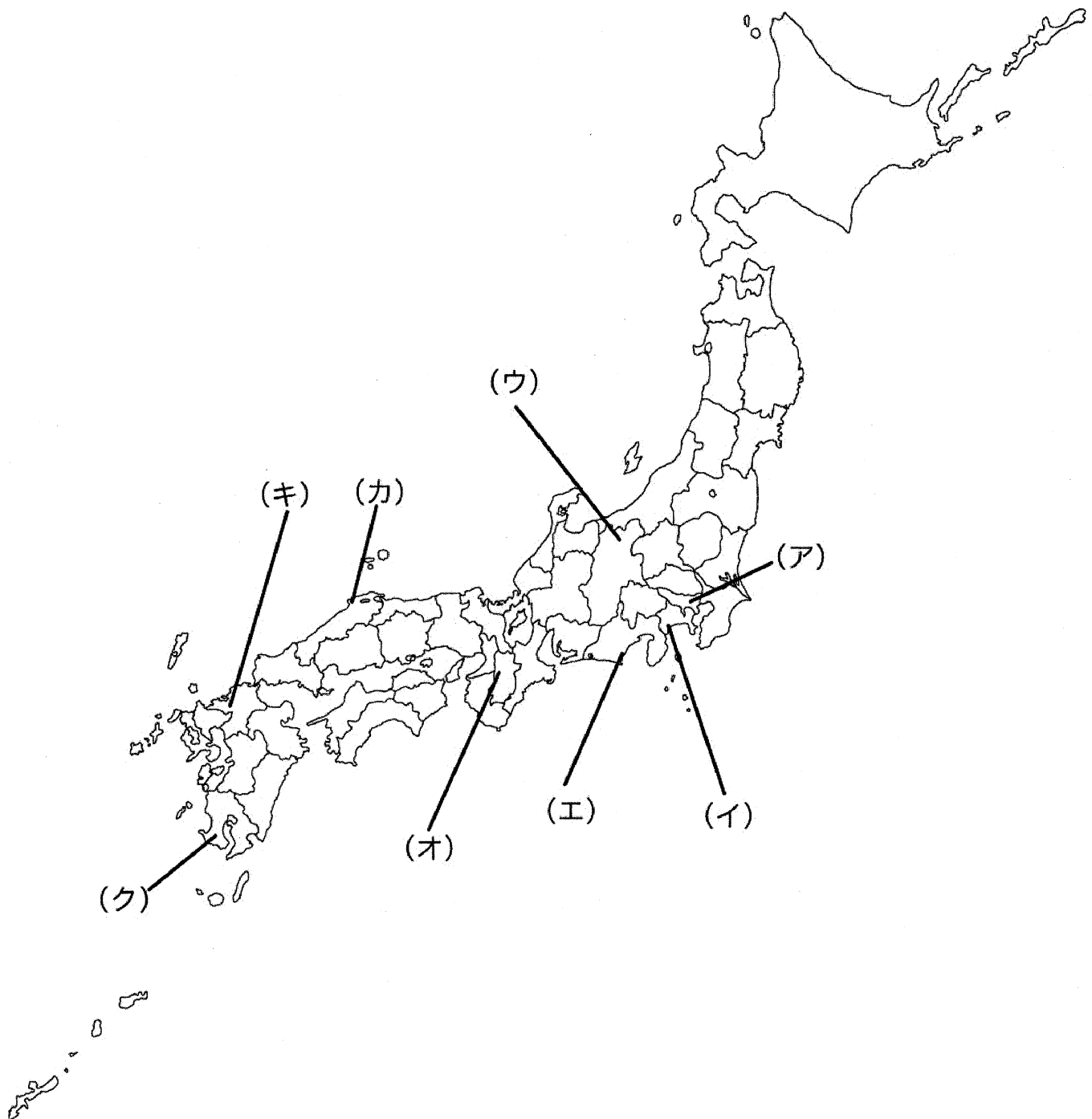
(エ) A 小野妹子 B 藤原道長 C 福沢諭吉 D 津田梅子

(オ) A 阿倍仲麻呂 B 藤原鎌足 C 板垣退助 D 樋口一葉

(カ) A 阿倍仲麻呂 B 藤原不比等 C 伊藤博文 D 津田梅子

問2 波線部(1)～(3)の地名がある場所は地図中のどこですか。地図中の(ア)～(ク)の中から1つずつ選んで、記号で答えなさい。なお、地図には現在の都道府県の境界線が描かれています。また、(1)～(3)の特徴を下にまとめています。

(1)	古代には九州の政治や外交の中心地として栄え、市の花はウメである。
(2)	歴史的風土保存の対象に指定されていて、飛鳥時代の名称の由来となっている。
(3)	箱根の山々と相模湾に囲まれており、みかんやかまぼこなどの名産品がある。



問3 下線部①について、藤原氏のある人物は宇治の別荘を寺に改めました。阿弥陀堂である「鳳凰堂」には阿弥陀如来像が安置されていて、現在の10円硬貨にも描かれています。この平等院鳳凰堂を建てた人物は誰ですか。答えなさい。

問4 下線部②について、大化の改新について述べた文として正しくないものはどれですか。下から1つ選んで、記号で答えなさい。

(ア) 中国にならって、「大化」という年号が定められた。

(イ) 豪族が私有していた土地や人民は国のものとなり、天皇中心の国づくりが目指された。

(ウ) 新政権では中大兄皇子が、天皇を補佐する体制となった。

(エ) 日本で初めての本格的な都である藤原京が造られた。

問5 下線部③に関連して、寛政の改革において困り米などをおこなって飢きん対策に励んだ老中は誰ですか。漢字で答えなさい。


問6 下線部④について、木戸孝允は廃藩置県における中心人物としても知られています。廃藩置県の際、知藩事（もと藩主）たちは予想に反して、大きく反発することはありませんでした。なぜ反発しなかったのでしょうか。ある藩ならびに明治政府の財政状況を参考にして説明しなさい。

【弘前藩の財政状況】 (1854年)

	収入	支出	収支の差
米方	137,592 石	186,353 石	-48,761 石
金方	16,173 両	28,581 両	-12,408 両

弘前市立弘前図書館 新編弘前市史より作成

【明治政府の財政状況(歳出)】 (1877年) (単位：%)



読売新聞社『日本の歴史⑩』より作成

問7 下線部⑤について、コタカさんは硬貨について詳しく調べてみました。このことについて以下の問いに答えなさい。

(1) これまででもっとも硬貨の製造枚数が多かった年は1974年(昭和49年)でした。その理由について述べた文として正しいものはどれですか。下から1つ選んで、記号で答えなさい。

(ア) 朝鮮戦争による特需景気によって硬貨が多く必要となったため。

(イ) 高度経済成長とともに硬貨の需要枚数が年々増えたため。

(ウ) 1回目の東京オリンピックが開催されることで、訪日外国人旅行者が使用することを想定していたため。

(エ) 阪神淡路大震災が起こったことで、公衆電話で多くの硬貨を使用する必要があったため。

(2) 硬貨の発行枚数は、経済の動向や当時の政策などによって異なります。そこでコタカさんはある時期の硬貨の発行枚数に関してまとめてみました。下の表の年代にはどのような政策が取られたのでしょうか。その政策と硬貨の発行枚数の関係について説明しなさい。

年別貨幣製造枚数

	1円玉	5円玉	50円玉	100円玉
1988年	1,269,042	396,120	109,112	363,112
1989年	2,483,080	1,027,992	245,000	369,000
1990年	2,768,953	520,953	274,953	444,953

単位：千枚 造幣局HPより作成

このページは空白です。問題は次のページにも続いています。

3 次の会話文をよく読んで、後の問いに答えなさい。

- A子： 昨日、電車に乗った時に、車いす用の①昇降機を使っているのを初めて見たわ。
- B男： 階段についているリフトだね。昇降機は係員の介助が必要なので、最近では自分で移動できるようにエレベーターを設置している駅が増えているよ。
- A子： 障害を持った方が自分で移動することができるのは生活の自立につながるわね。
- B男： ホームや歩道には目の不自由な人のための点字ブロックが敷かれているね。
- A子： ②高齢者や障がい者が暮らしやすい工夫が生活の中で色々なされているということね。
- B男： そういえばこの前、東京都の合計特殊出生率が1を切ったとのニュースを見たよ。
- A子： ノーマライゼーションという考え方が叫ばれているけど、少子高齢化や障がい者に関する話をC先生に聞きに行きましょう。
- B男： 先生、こんにちは。質問があるのですが、今お時間よろしいですか。
- C先生： どうぞ。質問は大歓迎ですよ。
- A子： 先生、昨年、（ あ ）五輪が開かれました。それと同時に障がい者の五輪も開かれましたよね。障がい者が参加するオリンピックの名前が思い出せなくて。先生、障がい者のオリンピックは何と呼ばれていましたか。教えてください。
- C先生： はい、それは（ い ）という名称です。今年は世界の③聴覚障がい者が各種目で競い合う、デフリンピックもおこなわれます。A子さんとB男さんの話を聞いていると福祉に興味があるようですね。福祉というのはみんなが安心して生活できるようにするための仕組みや制度のことです。例えば、お金が足りなくて困っている人や、お年寄り、身体が不自由な障がい者など助けが必要な人たちを支援することが福祉の役割になります。日本には福祉のための法律や政策があります。例えば、最低限の生活ができない人々に対して、法律に基づいて生活費や教育費などを支給する「（ う ）」という制度があります。福祉制度があることで、困っている人が一人で孤立することがないように支援することが求められています。
- B男： けがや病気、失業などで働けなくなる可能性は誰にでもありますよね。そのために「社会保険」があると授業で習いました。社会保険には病気などの治療費を部分的に負担する「（ え ）保険」も入りますよね。
- C先生： はい。日本では公衆衛生など4つの柱にもとづいて福祉の支援を行っています。
- A子： 少子高齢化はどうでしょうか。東京の合計特殊出生率が1を切ったとは1人の女性が一生のうちに産む赤ちゃんの数が1人を切ったということですよね。そうになると、極端かもしれませんが、人口が減り続けて日本がなくなってしまうのではないのでしょうか。
- C先生： 全国では1.20（2023年）なので、いきなり、日本がなくなることはないと思いますが、このままでは、学校や会社、お店などを支える人が少なくなると④経済活動などにも多大な影響を及ぼすということになりますね。
- B男： だから、内閣を代表する総理大臣や⑤各都道府県知事が少子化対策を政策の中心にすえているわけですね。
- C先生： そうです。それで選挙の時の公約の項目に少子高齢化が挙げられることがここ最近の選挙立候補者で増えているわけです。これからもさまざまなことに興味を持って探究してくださいね。
- A子・B男： よく分かりました。先生、お時間をとっていただきありがとうございました。

問1 文章中の空欄（あ）～（え）にあてはまる語句は何ですか。答えなさい。

問2 下線部①について、エレベーターを設置する駅が増えてきたことは本文から分かります。これはバリアフリーの例ですが、最近ではユニバーサルデザインという考え方も広がりつつあります。ではユニバーサルデザインの例にあたらないものはどれですか。下から1つ選んで、記号で答えなさい。

（ア）音声案内で視覚障がい者に情報を伝えること。

（イ）東京オリンピックの時に使われた男女のトイレを示す絵文字（ピクトグラム）。

（ウ）自動販売機の料金の投入口が大きいこと。

（エ）シャンプーとリンスを見分けるためについている凹凸。

問3 下線部②について、昇降機、駅エレベーター、点字ブロック以外にどのような工夫が見られますか。具体的な例を挙げて簡潔に説明しなさい。

問4 下線部③について、聴覚障がい者のコミュニケーション手段は、手話以外に何がありますか。その方法を答えなさい。

問5 下線部④について、経済活動を担う経済の3主体に当てはまらないものはどれですか。下から1つ選んで、記号で答えなさい。

（ア）家計 （イ）企業 （ウ）政府 （エ）日本銀行

問6 下線部⑤について、次の文章中の下線部が正しければ○を、間違っている場合は、正しい語句を解答欄に書き入れなさい。

（1）知事選挙の選挙権は30歳以上になっている。

（2）知事は住民の直接選挙で選ぶ。

以上

