

2025 年度 大妻中野中学校 第 1 回アドバンスト入試

( 2 月 1 日午前 問題用紙 )

社 会

受験上の注意

- ( 1 ) この問題用紙は表紙を含めて 10 ページあります。
- ( 2 ) 試験開始後ただちにページ数を確認してください。
- ( 3 ) 問題用紙・解答用紙それぞれに受験番号と座席番号と氏名を忘れずに記入してください。  
受験番号と座席番号は算用数字で記入してください。
- ( 4 ) 試験時間は 30 分です。
- ( 5 ) 解答は全て解答用紙に記入してください。
- ( 6 ) この試験は 50 点満点です。

|          |   |  |  |  |   |    |  |
|----------|---|--|--|--|---|----|--|
| 受験<br>番号 |   |  |  |  | 番 | 氏名 |  |
| 座席<br>番号 | / |  |  |  | 番 |    |  |

- ① 佐藤さんと鈴木さんは、白地図を見ながら都道府県や庁所在地の名前を解答する小テストに向けて学習しています。2人の会話文をよく読んで、後の問いに答えなさい。

佐藤さん：私はいつも鳥取県と島根県の名前と位置の組合せを間違えてしまうのよね。

鈴木さん：島根県といえば、庁所在地の都市名についても、別の都道府県に似たような都市名があって間違いやすいよね。

佐藤さん：それはきっと（ あ ）の庁所在地だね。どちらも同じ漢字から始まる都市名だから間違いやすいかもしれないね。

鈴木さん：ただ、私たちは関東地方に住んでいて、中国・四国地方にあまり行ったことがないから間違いやすいのかもしれないけれど、中国・四国地方の人々からすると、関東地方の（ い ）と（ う ）は間違いやすいのかもしれないよ。

佐藤さん：確かに、2つの県は東西に隣り<sup>とな</sup>あっていて、どちらも海に面していないし、面積も同じぐらいで、形も少し似ているかも。こうして日本地図をよく見ると、似たような形をしているところが結構あるよね。

鈴木さん：① 2つ並んだ半島をよく見るような気がするわ。私の祖父母は2つ並んだ半島の一方にある庁所在地に住んでいるのだけれど、東京では見ない「克灰袋」というゴミ袋が使われていたよ。

佐藤さん：偶然だね。私の祖父母の家も2つ並んだ半島の近くにあるよ。私の祖父母の家の方ではホタテの貝がらが大量に<sup>はいき</sup>廃棄されて問題だったみたいだけれど、今は肥料などへのリサイクルが進んでいるらしいよ。

鈴木さん：そういえば、私の祖父母の住んでいる地域にも私が生まれた頃に新幹線が走るようになったけれど、佐藤さんの祖父母の皆さんが住んでいる地域でも、ここ10年間で新幹線の線路がどんどん<sup>のび</sup>延びて、さらにもっと先まで延びる予定だよね。

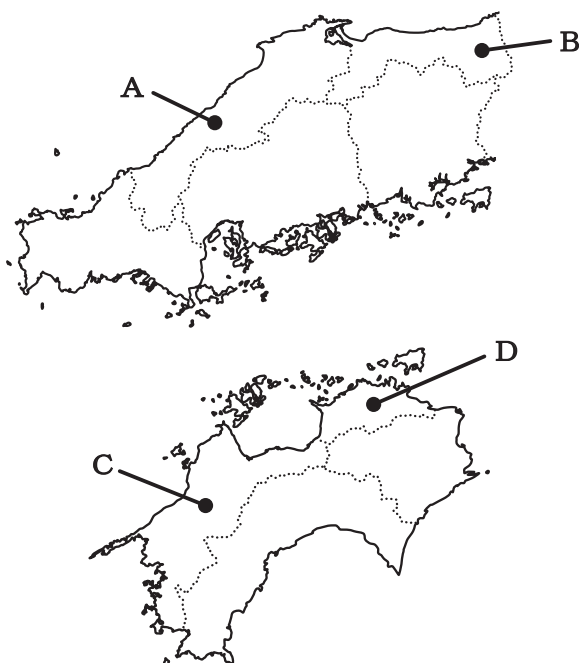
佐藤さん：そうだね。② 2人とも新幹線が開業したら、延びた先に遊びに行くのが楽しみだと言っていたわ。

鈴木さん：ところで話を戻すけれど、鳥取県が「鳥取県と聞いて思い出すもの」というテーマで全国の男女5000人以上にインターネットでアンケート調査をおこなったところ、8割以上の人が「砂丘」と回答したらしいよ。

佐藤さん：確かに印象的だけれど、③ 砂丘は砂漠と何が違うんだろうね。島根県にも「島根県といえばこれ」というものがあるのかな。

鈴木さん：島根県というと、出雲大社や石見銀山などが有名だよね。あ、もしかすると、私たちがさっきまで話していた様々なことから都道府県のイメージをふくらませていくと、都道府県の位置や形も覚えやすいのかもしれないね。

問1 下の地図は中国地方と四国地方の白地図です（問題の都合上、一部を省略し、2つの地方の位置関係や縮尺は実際のものとは異なります）。問題文中の空欄（あ）にあてはまる都道府県の位置と島根県の位置との組み合わせとして正しいものはどれですか。白地図の右にある（ア）～（ク）から1つ選んで、記号で答えなさい。



（ア）空欄あ：A 島根県：C

（イ）空欄あ：A 島根県：D

（ウ）空欄あ：B 島根県：C

（エ）空欄あ：B 島根県：D

（オ）空欄あ：C 島根県：A

（カ）空欄あ：C 島根県：B

（キ）空欄あ：D 島根県：A

（ク）空欄あ：D 島根県：B

問2 問題文中の空欄（い）と（う）について、（い）を西側の都道府県、（う）を東側の都道府県と考えた場合、これらの都道府県の説明として誤った内容を含むものはどれですか。下から1つ選んで、記号で答えなさい。

（ア）（い）の西部にある婦恋村では、昼夜の寒暖差を利用したキャベツ栽培が主に夏から秋にかけておこなわれます。県全体のキャベツの生産量は、愛知県に次いで全国第2位をほこっています。

（イ）（い）では「上毛かるた」の1つに「<sup>らい</sup>雷と<sup>からつかぜ</sup>空風 義理人情」とよまれているように、日本海側から越後山脈をこえてくる乾いた強い風が冬に吹きおろします。

（ウ）（う）では、都道府県名を由来とする名前のイチゴのブランド化に成功し、その他にも様々な品種が栽培されるようになっていきます。県全体のイチゴの生産量は、福岡県をおさえて全国第1位をほこっています。

（エ）（う）の北部は島海火山帯に属し、活火山もあります。火山の地下のマグマだまりを熱源とする温泉地もあり、草津温泉や鬼怒川<sup>きぬがわ</sup>温泉などが有名です。

問3 下線部①について、2つの半島が並んでいる地域を切り取った白地図（ア）～（エ）について、下の（1）～（3）の各問いに答えなさい。なお、問題の都合上、地図の縮尺は一定ではありません。

（1）鈴木さんの祖父母が暮らす半島を示している地図はどれですか。下から1つ選んで、記号で答えなさい。

（ア）



（イ）



（ウ）

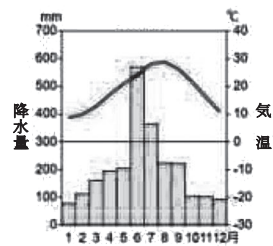


（エ）

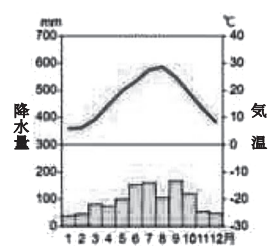


（2）鈴木さんの祖父母が暮らす地域の気候を表した雨温図はどれですか。下から1つ選んで、記号で答えなさい。

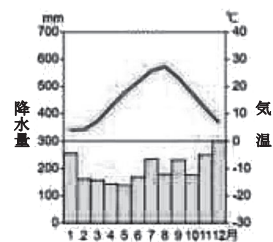
（ア）



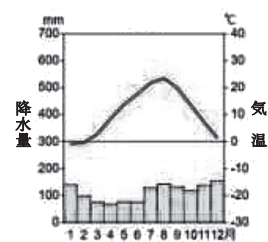
（イ）



（ウ）



（エ）



（3）（1）にある半島の地図4枚を、緯度の高い方から順番に並べるとどうなりますか。（ア）から（エ）の記号を緯度の高い方から順番に並べなさい。

問4 下線部②について、

(1) 2030 年度末に開業予定の新幹線は、どこまで延びる予定ですか。解答欄に合うように、駅名を漢字で答えなさい。

(2) 佐藤さんの祖父母が遊びに行こうとしている地域について述べた文として正しいものはどれですか。下から1つ選んで、記号で答えなさい。

(ア) この地域にはクラーク博士が開いた農学校の中央講堂が「時計台」として残っています。近隣の湾には国内最大規模の洋上風力発電所があり、多くの電力がつくられています。

(イ) この地域には江戸時代の鎖国中にも海外との交流が続いていた都市があり、異国情緒あふれる街並みが人気です。近隣の海では海苔の養殖がさかんにおこなわれています。

(ウ) この地域では恐竜の化石が出土することが比較的多いです。近隣の湾にある日本三景の1つは、神様が天と地上を結ぶために使っていた橋が倒れて砂浜になったものだと言われています。

(エ) この地域ではチューリップの栽培がさかんにおこなわれています。近隣の湾では蟹気楼が見えることがあり、海底には埋没林や海底林が広がっています。

問5 下線部③について、砂丘とは風で運ばれた砂が作る高まりのことであり、表面は乾いていても掘るとすぐに湿った砂が出てきます。そのため、鳥取砂丘ではたくさんの生き物がくらし、草原化も進んでいますが、県や市は除草活動が続けています。砂漠であれば緑化は望ましいですが、なぜ鳥取砂丘では草原化を止めようとしているのでしょうか。説明しなさい。

2 次の文章をよく読んで、後の問いに答えなさい。

2024 年 7 月 3 日、新紙幣が発行されました。①一万円札には渋沢栄一、五千円札には津田梅子、千円札には北里柴三郎がそれぞれ肖像として描かれています。( あ ) 化が進んでいる昨今、今回のような大規模な紙幣の変更は最後となるかもしれないと言われています。②2004 年以來 20 年ぶりのデザイン変更となったので、肖像となった人にゆかりのある地域ではセレモニーなども開かれました。その様子はニュースに取り上げられていました。③過去の紙幣の肖像になった人たちも調べたりすると勉強になりますね。

新紙幣が発行されても、過去に使用されていた紙幣が使えなくなるわけではありません。明治時代に日本銀行が発行した紙幣は、一円札であれば一円として、現在でも使用できます。しかし④1946 年に新しい紙幣が発行された際に、それ以前の高額な紙幣は使用不可となったため、一円札よりも高額の紙幣はすべて使えなくなりました。また、古い一円札は一円よりも少額の硬貨とともに 1953 年の小額通貨整理法の規定により発行は終わっていきます。あなたの家にも古い紙幣や十銭や一厘といった硬貨があるかもしれませんね。

現代と同じような紙幣や硬貨が使われる以前の日本はどうだったのでしょうか。縄文時代や弥生時代では、⑤矢の先につける加工しやすい石やたくさん実った稲が物々交換の対象であったり、富を示すものであったりしました。このような物々交換から貨幣を用いようとする社会が生まれると、日本でも東アジアの中心であった中国の仕組みを取り入れて貨幣をつくるようになりました。その後貨幣を発行していた天皇の権力が弱まると、⑥中国の貨幣をそのまま使用する時代がしばらく続きました。日本を統一した豊臣秀吉や徳川家康によって、再び日本独自の貨幣がつくられるようになったのです。そして明治時代には円・銭・厘の単位を決め、紙幣や硬貨をつくる近代的な貨幣制度が生まれたのです。

問 1 問題文中の空欄 (あ) にあてはまる語句は何ですか。答えなさい。

問 2 下線部①について、千円札の裏側には『富嶽三十六景』の中の 1 枚が使われています。この作品を描いた浮世絵師は誰ですか。下から 1 人選んで、記号で答えなさい。

(ア) 本阿弥光悦      (イ) 葛飾北斎      (ウ) 俵屋宗達      (エ) 東洲斎写楽

問 3 下線部②について、2004 年に発行された千円札の肖像には、今回の新紙幣の肖像となった北里柴三郎の弟子が使われました。黄熱病の研究で知られる人物です。この人物は誰ですか。答えなさい。



問4 下線部③について、歴代の紙幣の肖像として最も多く採用されたのは、聖徳太子（厩戸王）でした。この人物の説明として、明らかに誤っているものはどれですか。下から1つ選んで、記号で答えなさい。

（ア）推古天皇のおじで、日本初の摂政として活躍したといわれる。

（イ）十七条の憲法を制定し、天皇中心の国をめざしたといわれる。

（ウ）冠位十二階の制を制定し、優秀な人材を登用したといわれる。

（エ）奈良の法隆寺を建立し、仏教を信仰したといわれる。

問5 下線部④について、

（1）1946年に高額紙幣を使えなくした理由の1つはインフレです。インフレの原因は、復員や引き揚げによる人口の爆発的な増加による品不足でした。そのため、品物を手に入れたい人は、闇市で品物を手に入れたそうです。右の資料は闇市で売られていた商品の項目です。資料の（い）にあてはまるものは、料理に欠かせない調味料の1つです。敗戦により台湾の領有権を失い、日本国内の生産設備も破壊されていたため、品不足となっていました。それは何ですか。答えなさい。

|           | 基準の価格  | 闇市の価格 | 倍率    |
|-----------|--------|-------|-------|
| 米1升       | 53銭    | 70円   | 約132倍 |
| （い）1貫目    | 3円75銭  | 1000円 | 約267倍 |
| しょう油2リットル | 8円     | 350円  | 約44倍  |
| みそ1貫目     | 2円     | 40円   | 約20倍  |
| 塩1貫目      | 2円     | 40円   | 約20倍  |
| なたね油1斗    | 26円80銭 | 2000円 | 約75倍  |

（2）1953年以後、今と同じような一万円札、五千円札、千円札などの紙幣が広く使われるようになりました。その背景にはどのようなことが考えられますか。右の年表を参考に、その背景を説明しなさい。

| 年     | その年のできごと              |
|-------|-----------------------|
| 1948年 | GHQ、経済安定九原則を発表        |
| 1950年 | 朝鮮戦争開戦により、軍需物資の需要が増える |
| 1951年 | サンフランシスコ平和条約を結び独立回復   |
| 1952年 | 国際通貨基金・世界銀行に加盟        |
| 1954年 | 自衛隊発足                 |
| 1956年 | 経済白書に「もはや戦後ではない」と書かれる |

問6 下線部⑤について、この加工しやすい石は、火山の活動によって生じたもので、交易の品物として火山活動が活発でない地域にも運ばれました。この石を何といいますか。答えなさい。

問7 下線部⑥について、永楽銭などの明銭が大量に日本に入ってくることになったのは、日明貿易が始まったからです。中国と日本の中で、貿易船であることを確認するために使われたものの名をとって〇〇貿易と呼びます。〇〇にあてはまる漢字2字は何ですか。答えなさい。

3 次の文章をよく読んで、後の問いに答えなさい。

最近「①物価が上昇している」というフレーズを耳にする機会が増えています。②消費者物価指数※の推移を調べてみると、2022 年ごろから日本の物価は上昇し始め、それが今後も続くと予想されています。物価は形のある商品や（ あ ）の価格をまとめて平均値として出したもので、その上下は社会にも影響を与えます。ところで、商品の価格はどのようにして決まるのでしょうか。

商品の価格は、基本的に③商品が流通する過程において、さまざまな要素が合わさって決まります。価格はさらに商品の需要（買い手の量）と供給（売り手の量）のバランスによって上下します。これが一般的な価格の決め方です。

一方で④公共料金や独占価格など、需要と供給のバランスに関係なく決まる価格も存在します。ただし独占価格においては、その形成が消費者に不利益をもたらすため、日本の⑤独占禁止法をはじめとして、多くの国で対策がとられています。独占禁止法は⑥第二次世界大戦後の民主化政策において制定されました。

※物価の変動を把握するための目安となる指数

問 1 下線部①について、「物価の上昇」に関連する文章として誤っているものはどれですか。下から 1 つ選んで、記号で答えなさい。

（ア）物価が上昇し続けることをインフレーションという。

（イ）生産された商品が大量に余った場合、物価は上昇する。

（ウ）物価の上昇に所得の増加が追いつかないと、国民の生活は苦しくなる。

（エ）企業にとって物価の上昇が利益の増加につながる場合もある。

問 2 下線部②について、消費者物価指数はある省庁が作成・発表をしています。この省庁は地方自治の支援、選挙管理、マイナンバーの制度の運営など、日本の行政の効率化と国民生活の向上のために、様々な業務をおこなっています。その省庁として正しいものはどれですか。下から 1 つ選んで、記号で答えなさい。

（ア）総務省

（イ）財務省

（ウ）経済産業省

（エ）厚生労働省

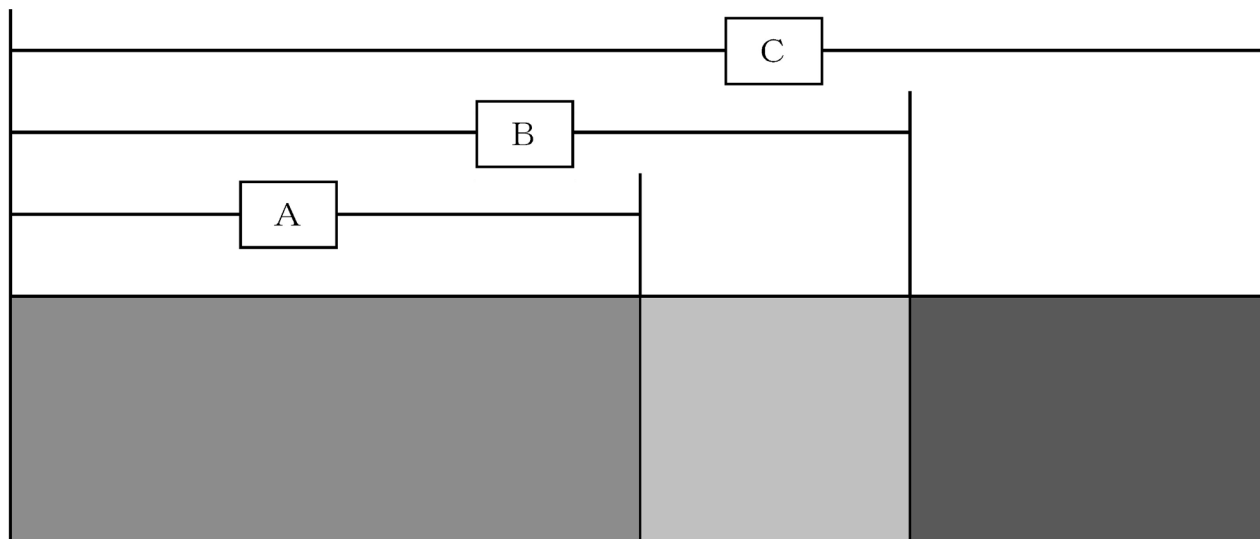
問 3 問題文中の空欄（あ）には、医療や福祉などに代表される「形はないが人間に必要な商品」を意味する語句が入ります。その語句とは何ですか。カタカナで答えなさい。



問4 下線部③について、下の【図1】にある空欄A～Cには生産価格・卸売価格・小売価格のいずれかが入ります。その組み合わせとして正しいのはどれですか。【図1】  
【図2】を参考にして（ア）～（エ）から1つ選んで、記号で答えなさい。

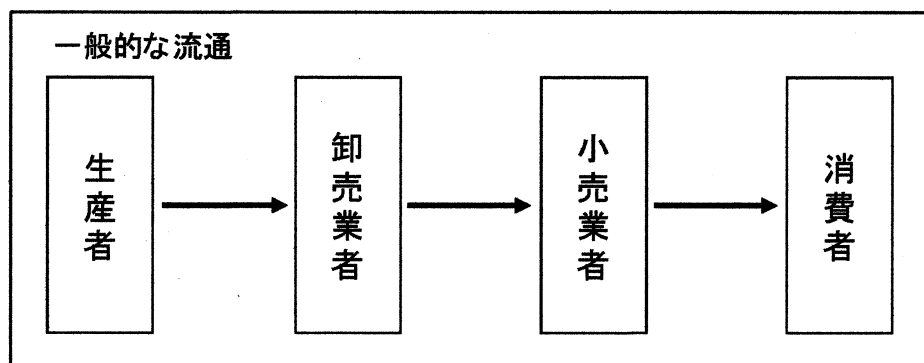
【図1】

### 商品の価格とそのうちわけ



※幅の大きさは金額を示している。

【図2】



- |            |        |        |
|------------|--------|--------|
| （ア） A－生産価格 | B－小売価格 | C－卸売価格 |
| （イ） A－卸売価格 | B－生産価格 | C－小売価格 |
| （ウ） A－小売価格 | B－生産価格 | C－卸売価格 |
| （エ） A－生産価格 | B－卸売価格 | C－小売価格 |

問5 下線部④について、

(1) 公共料金の説明として正しいものはどれですか。下から2つ選んで、記号で答えなさい。

(ア) 公共料金は、商品の生産や市場を一部の企業のみが支配している際に決定される。

(イ) 需要と供給のバランスが一致した際に決定される。

(ウ) 公共料金の例として、水道料金や郵便料金があげられる。

(エ) 公共料金が上昇すると、生活や産業に大きな影響をおよぼす。

(2) 公共料金には鉄道の運賃も含まれ、各鉄道会社が法律の定める範囲内で金額を決めています。2022年、小田急電鉄は子どものIC (Suica や PASMO など) 運賃を、区間に関係なく50円に引き下げることと決定し、大きな話題を呼びました。小田急電鉄はこの引き下げによって、利益の増加が見込まれると説明しています。運賃自体は安くなるのにも関わらず、利益の増加が見込まれるのはなぜですか。説明しなさい。

問6 下線部⑤について、独占禁止法を運用するために設置された機関を何といいますか。漢字7字で答えなさい。

問7 下線部⑥について、第二次世界大戦後の民主化政策の説明として誤っているものはどれですか。下から1つ選んで、記号で答えなさい。

(ア) 女性の参政権が認められ、戦後最初の総選挙では初の女性議員が誕生した。

(イ) 労働者を守るため、労働組合法・労働関係調整法・労働基準法の労働三法が制定された。

(ウ) 農地改革を行い、経済力のある農民に土地を集めて生産力を向上させた。

(エ) 国民主権・基本的人権の尊重・平和主義を基本原則とする日本国憲法が、公布・施行された。

以上



