

2024 年度 大妻中野中学校 第 4 回アドバンスト入試

( 2 月 3 日 午前 問題用紙 )

# 社 会

## 受験上の注意

- ( 1 ) この問題用紙は表紙を含めて 11 ページあります。
- ( 2 ) 試験開始後ただちにページ数を確認してください。
- ( 3 ) 問題用紙・解答用紙それぞれに受験番号と座席番号と氏名を忘れずに記入してください。  
受験番号と座席番号は算用数字で記入してください。
- ( 4 ) 試験時間は 30 分です。
- ( 5 ) 解答は全て解答用紙に記入してください。
- ( 6 ) この試験は 50 点満点です。

受験 番号					番	氏名	
座席 番号					番		

1 次の文章をよく読んで、後の問いに答えなさい。

【 Oさんの発表 】

私は歴史を勉強していて、①佐賀県の唐津市に築かれていた名護屋城というお城のことを知りました。「なごやじょう」という読み方を聞くと、②金のしゃちほこで有名な愛知県にある名古屋城を思い浮かべる人も多いのではないのでしょうか。

佐賀県の名護屋城は、豊臣秀吉の朝鮮出兵の拠点として玄界灘を望む丘に築かれ、当時では大坂城に次ぐ規模を誇っていたそうです。さらに出兵のために 150 名以上の大名が集まったこともあり、その城下町は一時、商人や宣教師など③20 万人を超える人々が集まる大都市に発展しました。しかし、豊臣秀吉が亡くなったことで遠征が中止になると、名護屋城の資材は他のお城を築く時に転用されました。また、④島原・天草一揆を起こした人々が廃城を活用したため、さらなる反乱が起きないよう、江戸幕府が名護屋城やその石垣を破壊してしまいました。跡地には様々な名残がありますので、想像することもできますが、⑤城や町がどれだけ大きなものであったか、実際に見てみたかったです。

【 Oさんの発表を聞いたNさんの感想 】

私の祖母は⑥沖縄県の名護市に暮らしています。Oさんの発表を聞くまで意識したことがなかったのですが、佐賀県の名護屋城と「名護」が共通しています。地名の由来を調べてみると諸説あり、また、⑦他にも「ナゴ」や「ナゴヤ」と読む地名が、全国に結構あることを知りました。Oさんの発表を聞いて、地名について以前よりも意識するようになりました。

私は昨年、家族旅行で北海道に行ってきました。その時に、プロ野球チームの新しい本拠地で野球観戦をしたのですが、思い出してみると、その球場があったのは⑧北広島市でした。北海道なのになぜ広島なのだろうと調べてみたところ、広島県出身の方が移住・開拓したことに由来するそうです。行く先々で地名について考えてみると、思わぬルーツを知ることができそうで今後少し気にしてみようと思います。

問1 下線部①について、

- (1) 名護屋城が築かれていた場所はどのあたりだと考えられますか。右の地図中から1つ選んで、記号で答えなさい。



(2) 名護屋城が築かれていた唐津市では、同じ県内の有田町や伊万里市とともに、伝統工芸品の生産がさかんです。これらの市町村で主に生産されている伝統工芸品はどれですか。下から1つ選んで、記号で答えなさい。

(ア) 陶磁器                      (イ) 絹織物                      (ウ) 和紙                      (エ) 漆器

問2 下線部②について、愛知県の名古屋城のシンボルである金のしゃちほこは、1612年に尾張徳川家の権威を示すためにつくられました。尾張徳川家は、現在の和歌山県を中心とする紀州徳川家と、現在の茨城県を中心とする水戸徳川家と合わせて「徳川御三家」と呼ばれます。これらの藩では江戸時代に、現在の農業発展につながる政策が行われました。下の表は果実・野菜の主産地と収穫量の全国シェアを表したもので、表中の(ア)～(エ)には都道府県名が入ります。表中の(ア)～(エ)のうち、愛知県・和歌山県・茨城県のいずれも当てはまらないものはどれですか。下の表から1つ選んで、記号で答えなさい。

メロンの主産地		みかんの主産地		キャベツの主産地		トマトの主産地	
(ア)	24.3%	(ウ)	19.7%	群馬県	19.7%	(イ)	18.3%
(イ)	16.9%	愛媛県	17.1%	(エ)	18.0%	北海道	9.0%
北海道	13.6%	静岡県	13.3%	千葉県	8.1%	(エ)	6.8%
山形県	6.9%	(イ)	12.0%	(ア)	7.4%	(ア)	6.6%
青森県	6.4%	長崎県	6.9%	長野県	4.9%	千葉県	4.5%

[矢野恒太記念会編『日本国勢図会 2023/24年版（日本がわかるデータブック）』より作成]

問3 下線部③について、現在の日本では20万人以上の都市のうち要件を満たすと、都道府県の一部の業務を市独自で行うことができる「中核市」に指定されます。次の「中核市」の中で、庁所在地ではない都市はどれですか。下から1つ選んで、記号で答えなさい。

(ア) 鳥取市                      (イ) 松江市                      (ウ) 八戸市                      (エ) 甲府市

問4 下線部④について、島原・天草一揆が主に起こった長崎県と、隣接<sup>りんせつ</sup>している佐賀県を結ぶ新幹線が、一昨年に開業しました。この新幹線を何といいますか。県名を用いない名称で答えなさい。

問5 下線部⑤について、現存していない建造物や当時の様子を観光客に知ってもらうために、観光地では様々な取り組みが行われています。あなたがもし観光業務を担当している現地の人であれば、Oさんのように当時の城や町がどれだけ大きなものであったか見てみたかった観光客に対して、どのようなサービスを提供しますか。考えて説明しなさい。

問 6 下線部⑥について、

- (1) 日本の国土の1%にも満たない面積の沖縄県に、日本にある米軍基地の70%以上があり、名護市の土地も10%以上が米軍基地の敷地とくちとなっています。そのようななか、名護市のある場所に米軍基地を移設する計画があり、その計画をめぐって国と沖縄県が裁判で争いました。この場所はどこですか。答えなさい。
- (2) 沖縄県では昨年の8月から9月にかけて男子バスケットボールのワールドカップが開催されました。この大会で日本はアジアの出場国の中で1位の成績を収め、パリオリンピックへの出場権を獲得しました。下の国の中でアジアに属さない国はどこですか。下から1つ選んで、記号で答えなさい。

(ア) フィリピン      (イ) イラン      (ウ) ヨルダン      (エ) ベネズエラ

問 7 下線部⑦について、「ナゴヤ」という地名は大分県佐伯市、高知県土佐市、新潟県佐渡市、千葉県成田市などにもあります。これらの地域について述べた文として正しくないものはどれですか。下から1つ選んで、記号で答えなさい。

- (ア) 大分県南部に位置する佐伯市では水産業がさかんであり、愛媛県との間に広がる豊後水道で一本釣りされるアジは「関アジ」としてブランド化されている。
- (イ) 美しい青色で有名な仁淀川の下流に位置する高知県土佐市では、かつおの一本釣りがさかんに行われ、かつお節などの水産加工品も生産されている。
- (ウ) 世界文化遺産の国内推薦すいせんが決定した新潟県佐渡市では、訪問客増加の一方で、地域住民の生活や自然環境などに悪影響を及ぼすオーバーツーリズムが心配されている。
- (エ) 千葉県成田市には日本一の利用客数を誇る成田国際空港があり、その広大な敷地に膨大な量の太陽光パネルが設置され、空港の脱炭素化が進められている。

問 8 下線部⑧について、

- (1) 札幌市に隣接している北広島市は、北海道最大の平野の南部に位置しています。この平野の名前は何ですか。漢字で答えなさい。
- (2) 北海道には他にも他県からの移住にちなんだ名前の地名があります。たとえば、戊辰戦争に敗北した仙台藩の人々が移住してきた場所は、現在「伊達市」となっています。伊達市をつくった人々は、現在の都道府県でいうと、主にどこからの移住者だと考えられますか。漢字で答えなさい。

2 次の文章をよく読んで、後の問いに答えなさい。

あるテレビ局で、外国人が選ぶ日本の世界遺産ランキングベスト 20 というものが放送されていました。1 位～20 位のランキングは以下の通りでした。

1 位	鹿苑寺	6 位	厳島神社	11 位	平等院	16 位	那智の滝
2 位	清水寺	7 位	慈照寺	12 位	東寺	17 位	唐招提寺
3 位	原爆ドーム	8 位	日光東照宮	13 位	仁和寺	18 位	法隆寺
4 位	東大寺	9 位	富士山	14 位	屋久島	19 位	西表島
5 位	姫路城	10 位	高野山	15 位	知床	20 位	上賀茂神社

世界遺産とは 1972 年にユネスコで採択された世界遺産条約（正式には「世界の文化遺産及び自然遺産の保護に関する条約」という）に基づいて、全人類すべてのものにあてはまる、広くいきわたる価値を有するものとして登録され、保護・保存されているものです。

日本では 25 カ所が登録されており、「文化遺産」は 19 カ所となっています。ランキングで 1 位となった①鹿苑寺は世界遺産の登録名「古都・京都の文化財」の中の 1 つです。このように②寺社は世界遺産を構成する資産の 1 つに数えられることが多いですが、③ 6 位の厳島神社のように寺社が単独で登録されていることもあります。④ 3 位の原爆ドームや⑤ 5 位の姫路城も単独で登録されたものであり、日本の代表的な文化遺産の 1 つです。

また「自然遺産」は 6 カ所あります。ランキングでは⑥そのうちの 3 カ所が登録された世界遺産を構成する資産の 1 つとして、または単独の遺産として入っています。

問 1 下線部①について、

- (1) 上記のランキングの 1 位～10 位の中には、「古都・京都の文化財」に含まれる寺社が何カ所ありますか。数字で答えなさい。
- (2) 1 位の鹿苑寺を建てた人物にもっともかかわりの深いできごとはどれですか。下から 1 つ選んで、記号で答えなさい。
  - (ア) 応仁の乱が起こり、京都が焼け野原になってしまった。
  - (イ) 承久の乱が起こり、京都に六波羅探題が設置された。
  - (ウ) 明王朝との勘合貿易が行われ、銅銭や香料などが日本にもたらされた。
  - (エ) 琉球王国との南蛮貿易が行われ、銅銭や香料などが日本にもたらされた。

問 2 下線部②について、17 位の唐招提寺は、ある僧侶の貢献に対して建てられたものです。その僧侶は誰ですか。答えなさい。

問 3 下線部③について、厳島神社は日宋貿易の安全を祈る神社として、現在のような海に浮かぶように見える社殿が築されました。この社殿を建てた平清盛にもっともかかわりの深いできごとはどれですか。下から 1 つ選んで、記号で答えなさい。

(ア) 摂関政治が行われる中で、平将門の乱・藤原純友の乱が起こった。

(イ) 摂関政治が始まる中で、摂政・関白、太政大臣に一族が就任した。

(ウ) 院政が行われる中で、保元の乱が起こった。

(エ) 院政が始まる中で、征夷大將軍という役職ができた。

問 4 下線部④について、太平洋戦争にかかわる歴史について、正しくないものはどれですか。下から 1 つ選んで、記号で答えなさい。

(ア) 本土空襲が激しくなると、学童疎開などが行われた。

(イ) 1937 年の満州事変から戦争状態が続いたので、十五年戦争と呼ばれた。

(ウ) 米は配給制になるなど、民衆は戦争に協力する体制がつくられた。

(エ) 1941 年 12 月の真珠湾攻撃から太平洋戦争が始まった。

問 5 下線部⑤について、姫路城は別名白鷺城とも呼ばれ、美しい城としても有名です。この城が現在のような形に完成した江戸時代初めの頃のできごととして正しくないものはどれですか。下から 1 つ選んで、記号で答えなさい。

(ア) 幕府はオランダなどとの貿易をはじめ、朱印船貿易を始めるなど、さまざまな国と国交を開こうとした。

(イ) 幕府は反乱が起こらないような体制を築くために、武家諸法度や禁中並公家諸法度などをつくった。

(ウ) 江戸の鬼門にあたる丑寅（北東）の方角を守るために、初代将軍は日光に自分の墓所をつくるように遺言した。

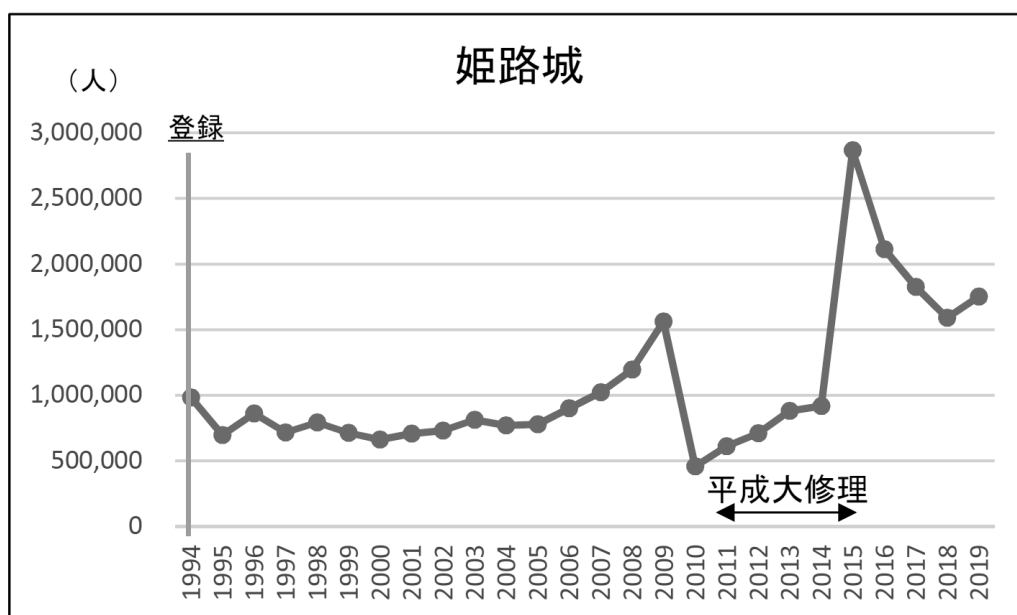
(エ) 天明の大飢饉も起こったので、国を治める基本は農業政策だと考えた幕府は、米市場などを利用して、米の価格を調整した。

問 6 下線部⑥について、「自然遺産」の 3 カ所として正しくないものはどれですか。下から 1 つ選んで、記号で答えなさい。

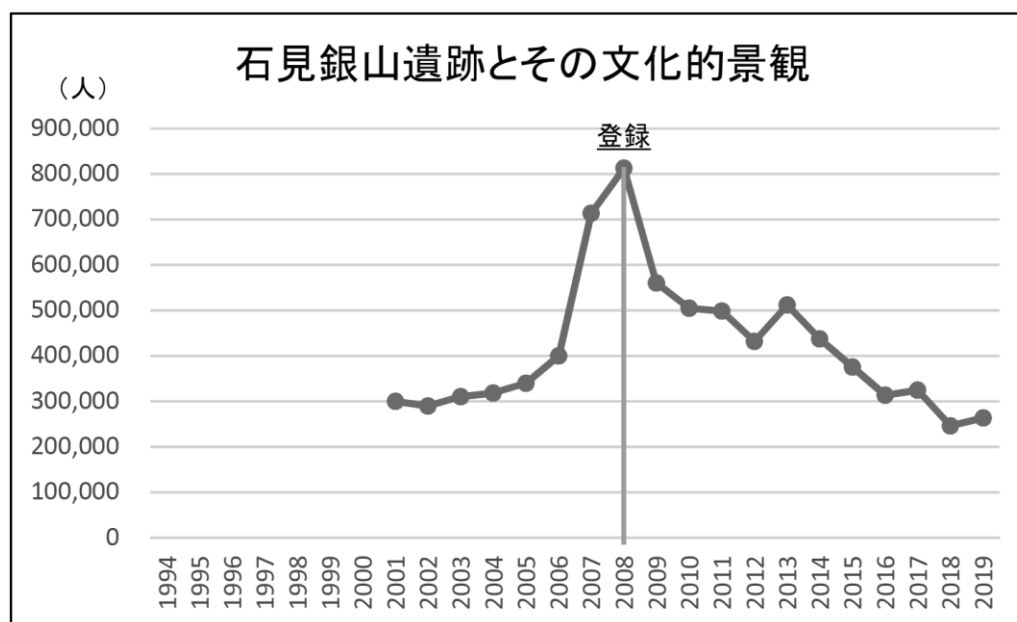
(ア) 富士山      (イ) 屋久島      (ウ) 知床      (エ) 西表島

問 7 下の 2 枚の資料 (Ⅰ)・(Ⅱ) は、新型コロナウイルス感染症の影響が出る前である 2019 年までの日本にある世界遺産への訪問者数を調べたものです。訪問者数に対する世界遺産への登録の影響をあなたはどのように考えますか。どちらか 1 つ、または両方の資料を使い、あなたの意見を書きなさい。

(Ⅰ)



(Ⅱ)



〔文化庁『世界遺産に関する基礎データ集』令和 2 年（2020 年）3 月〕

3 次の会話文をよく読んで、後の問いに答えなさい。

貴子：昨日、久しぶりにハンバーガーショップに行ったら、ハンバーガーもポテトも値上げされていてびっくりしちゃった。

美久：そういえば①電気代、ガソリン代、食料品の価格も上がっているってお母さんがため息ついていたよ。どうして、こんなに物の価格が高くなってしまったのか先生に聞いてみよう。

貴子：先生、こんにちは。質問があるのですが、どうして最近、いろいろな商品の価格が高くなっているのですか？

先生：貴子さん、美久さん、こんにちは。私たちの生活に深く関わりとても良い質問ですね。物価〔注〕が上昇する理由は、②円安、③ウクライナ情勢、新型コロナウイルス感染症、鳥インフルエンザ、④異常気象による災害などの影響が考えられています。

美久：価格が高くなる理由がそんなにたくさんあるなら、価格が元に戻るのは難しそうですね。

先生：そうですね。でも、物価が上がることは悪いことばかりではないのですよ。

貴子：え、そうなんですか。出費が増えて困る人ばかりだと思うのですが。

先生：戦後の高度経済成長期は、日本経済が急成長して活気に満ちた時期でしたが、1950年と1970年の⑤消費者物価指数を比較すると2倍以上高くなっていたのですよ。

美久：物価が2倍！今よりひどい状況ですね。

先生：でも当時は好景気に沸き、人々の生活は豊かになりました。それは、物価に加えて人々の給料も上昇したからです。給料が高くなれば、価格が高くても商品を買う人が増え、商品を買う人が増えると企業の利益が増えて、従業員の給料がさらに高くなるという好循環が経済成長を生み出すのですよ。

貴子：今、私たちが物価上昇で困っているのは、価格が上がっていること自体が問題というよりも、⑥働く人の給料が上がっていないことが問題ということですか。

先生：その通りです。⑦日本政府は企業に従業員の賃金を上げるよう働きかけたり、賃金を上げた企業には税を優遇したりしています。企業では、⑧労働組合が賃金を上げるよう雇用者と交渉しています。

美久：今すぐにでも、私の家の賃金も上げてほしいけれど、少し時間がかかりそうですね。このままでは、生活が苦しくなって私のお小遣いにも影響が出そうで不安です。

先生：それは困りますよね。⑨国会では物価高騰対策費を盛り込んだ予算案が可決され、ガソリンなど燃料価格の上昇を抑える補助金や、家計への影響が大きい低所得世帯に対して給付金を支給する対策なども行われています。

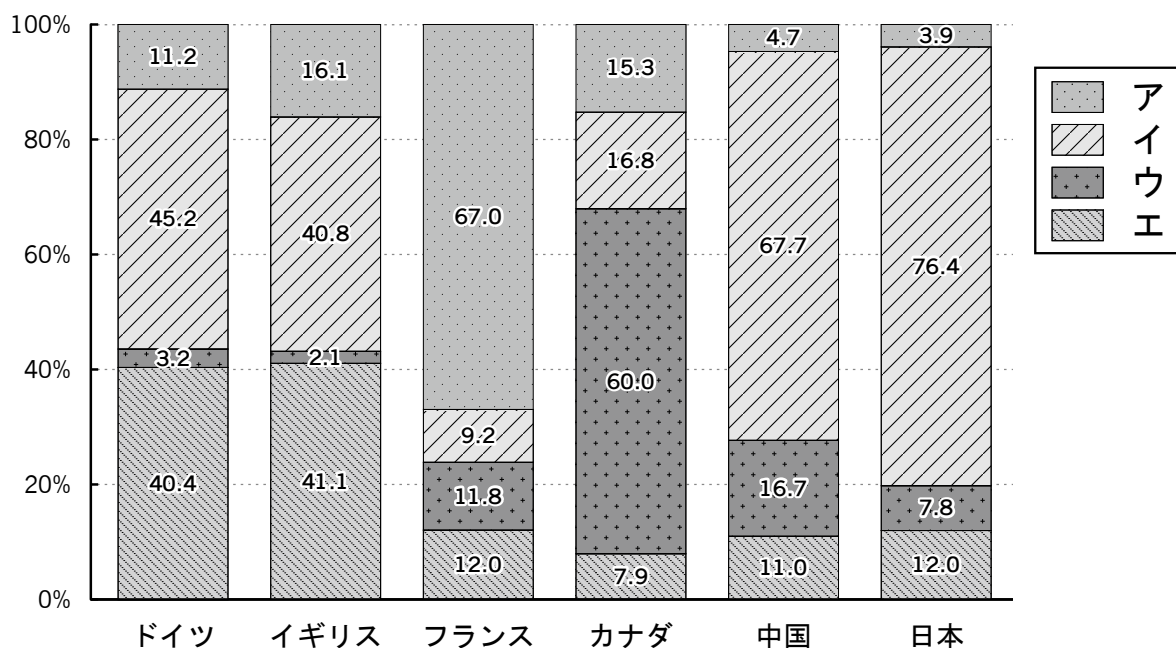
貴子：ハンバーガーの値上げが、これほどまで社会のできごととつながっていたとは思ってもみませんでした。先生、今日はありがとうございました。

〔注〕物価…種々の商品やサービスの価格を、ある一定の方法で総合した平均値のこと。



- 問 1 下線部①について、下の資料は主要国の発電電力量に占める発電方法の比率を示しています。資料のなかで、再生可能エネルギーを用いた発電方法を示すものはどれですか。下の表中の（ア）～（エ）から 1 つ選んで、記号で答えなさい。

（発電電力量に占める割合）



〔資源エネルギー庁『日本のエネルギー2022 年度版』より作成〕

- 問 2 下線部②について、円安に関する説明として正しいものはどれですか。下から 1 つ選んで、記号で答えなさい。

（ア）円安になると、日本から海外へ旅行する人が増加する傾向がある。

（イ）円安になると、日本製品の海外での売り上げが高まる傾向がある。

（ウ）円安になると、日本の企業は生産工場を海外に移す傾向がある。

（エ）円安になると、海外のブランド品が日本で割安になる傾向がある。

- 問 3 下線部③について、ロシアによるウクライナ軍事侵攻は、欧米諸国の多くが加盟する集団防衛機構にウクライナが加盟するのを阻止することが目的と考えられています。この集団防衛機構の名称は何ですか。答えなさい。

- 問 4 下線部④について、異常気象などによる災害の防止・軽減、災害発生時の応急対策、二次災害発生の防止などに必要なさまざまな防災気象情報を提供するのが気象庁です。気象庁が属する省はどこですか。下から 1 つ選んで、記号で答えなさい。

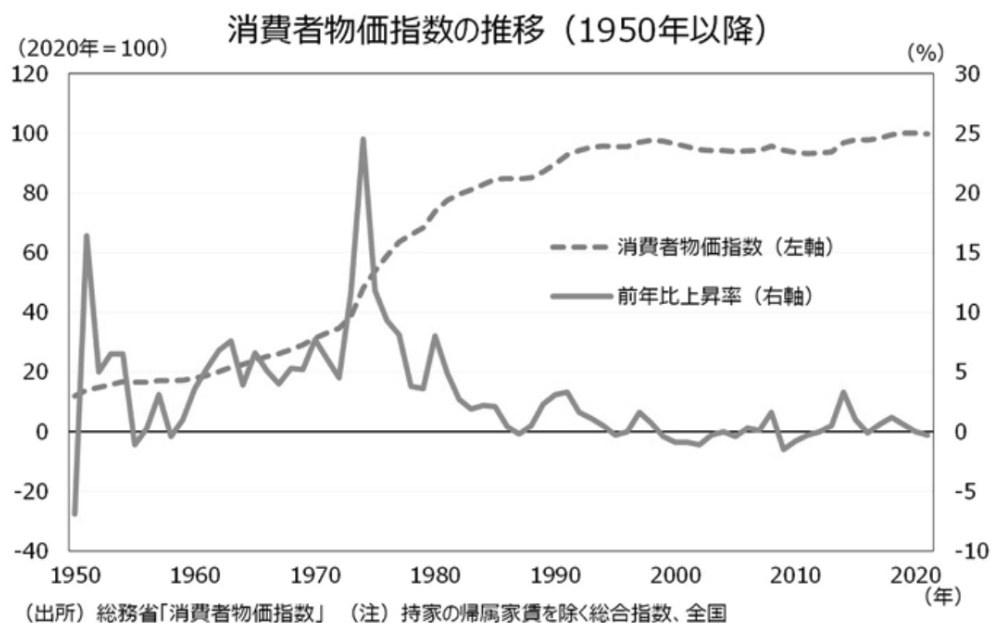
（ア）国土交通省

（イ）経済産業省

（ウ）環境省

（エ）総務省

- 問 5 下線部⑤について、消費者物価指数とは基準時の費用を 100 として、比較時の費用を比率の形（指数）で表したものです。下の資料についての説明として正しいものはどれですか。下から 1 つ選んで、記号で答えなさい。



- (ア) 1950 年に物価が前年比で急激に上がっているのは、オイルショックによるスタグフレーションが原因である。
- (イ) 1970 年代中ごろに物価が前年比で急激に上がっているのは、朝鮮戦争によりアメリカ軍が日本で大量に物資を買ったことが原因である。
- (ウ) 1970 年から 1980 年にかけて毎年物価が上昇し続けた。
- (エ) 2000 年から 2010 年にかけて毎年物価が下落し続けた。

- 問 6 下線部⑥について、給料の金額や消費税の仕組みが変わらないとした場合、生活必需品の物価が上がると人々の消費税の負担は大きくなりますか、小さくなりますか。また、それはなぜですか。説明しなさい。

- 問 7 下線部⑦について、行政権がある内閣の仕事の内容として正しくないものはどれですか。下から 1 つ選んで、記号で答えなさい。

- (ア) 政令を制定する (イ) 衆議院の解散を決める
- (ウ) 条約を締結する (エ) 裁判官を罷免する

問 8 下線部⑧について、労働組合は給料や勤務時間などの労働条件を改善するために企業に対して交渉することができますが、話し合いで解決しない時はストライキを起こす権利が日本国憲法で保障されています。この権利の名称は何ですか。漢字 5 字で答えなさい。

問 9 下線部⑨について、国会の説明として正しいものはどれですか。下から 1 つ選んで、記号で答えなさい。

(ア) 法律をつくる時間と手間を省くために、衆議院と参議院とで役割を分ける二院制を採用している。

(イ) 憲法改正の発議の可否を慎重に判断するために、その発議には衆議院、参議院ともに総議員の 3 分の 2 以上の賛成を必要とする。

(ウ) 最高裁判所で判決できない国家統治に関わる重要事項の司法判断をするために、国会に弾劾裁判所が設置されている。

(エ) 国民の意見を反映させるために、選挙で選ばれた国民の代表者からなる国会が内閣総理大臣を任命する。

以上

