

2024 年度 大妻中野中学校 第 1 回アドバンスト入試

( 2 月 1 日 午前 問題用紙 )

# 社 会

## 受験上の注意

- ( 1 ) この問題用紙は表紙を含めて 13 ページあります。
- ( 2 ) 試験開始後ただちにページ数を確認して下さい。
- ( 3 ) 問題用紙・解答用紙それぞれに受験番号と座席番号と氏名を忘れずに記入してください。  
受験番号と座席番号は算用数字で記入してください。
- ( 4 ) 試験時間は 30 分です。
- ( 5 ) 解答は全て解答用紙に記入してください。
- ( 6 ) この試験は 50 点満点です。

|          |  |  |  |  |   |    |  |
|----------|--|--|--|--|---|----|--|
| 受験<br>番号 |  |  |  |  | 番 | 氏名 |  |
| 座席<br>番号 |  |  |  |  | 番 |    |  |


1 次の文章をよく読んで、後の問いに答えなさい。

①地球の環境が急速に変化しています。2023年の夏は記録的な猛暑でした。2023年7月は史上最も暑い夏になるという世界気象機関のコメントを受け、国連のグテーレス事務総長は、2023年の夏を「②地球温暖化の時代は終わり、地球沸騰<sup>ふつとう</sup>の時代が来た」と表現しました。③地球上の気温はどのくらい変化しているのでしょうか。気象庁の資料を見ると、地球の年平均気温は100年前と比べて0.74℃上昇しています。日本においては1度上昇しています。今の東京の平均気温は、100年前の九州地方と同じくらいだそうです。この温度変化はわたしたちの生活にどのような変化をもたらしているのでしょうか。たった1℃くらいの上昇なので大きな影響はないと考えてよいのでしょうか。


④四季がはっきりしている日本は、昔から⑤自然環境とうまく付き合い、生活を営んできました。その結果、日本各地で異なった特色ある文化が生まれました。2023年は北海道の札幌で8月23日に史上最も遅い⑥猛暑日を記録するなど、北に位置する地域でも猛烈な暑さを記録しています。急な天候の変化による豪雨なども頻繁<sup>ひんぱん</sup>に起こるようになってきました。100年間でたった1℃の温度変化といっても、私たちが「何かおかしいな」と体感できるくらいの変化が現実起こっています。地球規模の温度上昇は、長期的に見ると生活や文化にも大きな影響を与えることが想像できます。すべての人の今ある生活や文化をこの先も持続させ、地球温暖化を少しでも遅らせるため、⑦一人一人ができることに取り組んでいくことが求められています。

問1 下線部①について、下の地球は日本が中心に描かれています。この地球の裏側を表現しているのはどれですか。最も適しているものを下から1つ選んで、記号で答えなさい。


〈日本が中心に描かれた地球〉




(ア)



(イ)



(ウ)



- 問 2 下線部②について、地球温暖化は大気中の温室効果ガスの増加によって引き起こされます。クラスで地球温暖化について話し合ったツキノさん、マミさん、ナナコさん、カオリさんはいくつか身近な原因を思いつき、下のようにまとめました。あなたがツキノさんだとしたら、どのような原因を考えますか。簡潔に答えなさい。

ツキノさんの考え：

マミさんの考え：電子機器の充電回数の増加

ナナコさんの考え：プロスポーツの試合時間の増加

カオリさんの考え：航空機移動の増加

- 問 3 下線部③について、アメリカ航空宇宙局（NASA）の分析によると、気温の上昇により北極や南極の氷や氷河が溶けたことで、1993 年から 2022 年までの間に海面が約 9.1 センチメートル上昇しています。10 センチメートル弱の上昇で日本列島が海に沈むことはありません。しかし、この海面上昇によって日本が自然災害の被害を受ける可能性は高まります。どのような自然災害の被害を受ける可能性が高まりますか。最も適切なものを下から 1 つ選んで、記号で答えなさい。

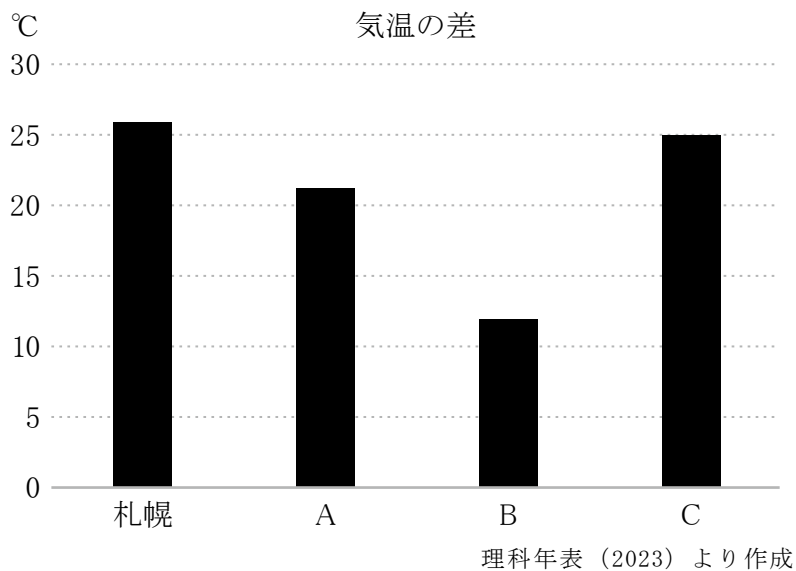
（ア）高潮

（イ）干ばつ

（ウ）地盤沈下

（エ）豪雨

問 4 下線部④について、日本列島は気候の変化に富んでおり、地域によって平均気温や降水量が異なります。下のグラフは、札幌、那覇、東京、松本のそれぞれの最暖月の平均気温から最寒月の平均気温を引いた値を棒グラフで示しています。那覇、東京、松本の組み合わせとして正しいものはどれですか。下から1つ選んで、記号で答えなさい。



(ア) A : 東京 B : 松本 C : 那覇

(イ) A : 松本 B : 那覇 C : 東京

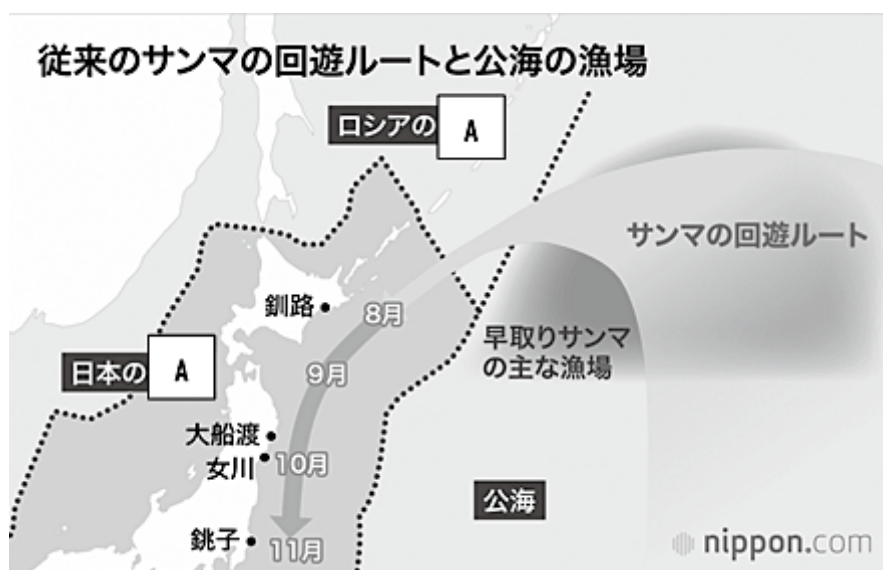
(ウ) A : 那覇 B : 東京 C : 松本

(エ) A : 東京 B : 那覇 C : 松本

(オ) A : 松本 B : 東京 C : 那覇

(カ) A : 那覇 B : 松本 C : 東京

問 5 下線部⑤について、下の図を参考に各問いに答えなさい。



公益財団法人日本ドットコム HP より引用

- (1) 魚の消費量が多い日本は、海洋資源にも多く依存しています。2023 年の夏、サンマ漁の不漁により価格が急騰とつしました。その原因の一つは地球温暖化による海水温の変化にあるといわれています。上の図に示したサンマの回遊ルートに流れている海流の名称は何ですか。漢字で答えなさい。
- (2) サンマ漁の不漁の原因は地球温暖化だけでなく、日本以外の国によるサンマの早取りも原因といわれています。早取りの結果、日本の A 内に入ってくるサンマの数が少なくなっています。上の図中の A の範囲を何といいますか。漢字で答えなさい。

- (3) 日本では変化に富む自然環境に対応するために家屋の形などが工夫されています。  
下に示した写真の家屋について書かれた文のうち、誤っているものはどれですか。  
下から1つ選んで、記号で答えなさい。

①



②



- (ア) ①の家屋の周囲に石垣があるのは、台風による強風を軽減するための工夫でもある。
- (イ) ②の家屋の玄関の扉が2重になっているのは、冬の寒い外気が家の中に入り込むのを防ぐ工夫である。
- (ウ) ①の家屋の屋根が瓦屋根なのは、冬の雪が重さで落ちてこないようにする工夫である。
- (エ) ②の家屋の玄関がやや高いところにあるのは、雪が積もっても玄関に入りやすくする工夫である。

- (4) 関東地方のある地域に暮らすカオリさんは、自分の暮らす町の地図を眺めて、何か自然環境に合わせて営まれている生活風景がないか調べました。その結果、下の地図のように整然と区画が整えられた特徴ある場所があることに気づきました。カオリさんは実際に町を歩き、調べてみることにしました。実際に歩いてみた結果、地形図通り、この細長い地割は下の模式図のような土地利用が多いことに気づきました。この土地の持ち主にお話を聞くと、この場所で農業をしていく上で、地図上の丸印の部分の役割が非常に大きいことを教えてくださいました。この丸印の場所は、この場所の農業にどのように役に立っていると考えられますか。最も適した文を下から1つ選んで、記号で答えなさい。



模式図



- (ア) 地図記号は水田で、稲刈り後の<sup>わら</sup>藁を肥料として畑地の部分に供給している。
- (イ) 地図記号は広葉樹林で、落ち葉を集めて保存しておき、畑地の部分に肥料として供給している。
- (ウ) 地図記号は針葉樹林で、伐採した木材を自宅の建築資材にしている。
- (エ) 地図記号は茶畑で、冬の北風によって畑地の土が吹き飛ばされないように防風の役割を果たしている。

問6 下線部⑥について、「猛暑日」とは一日の最高気温が何度以上になった日を指しますか。数字で答えなさい。



2 さまざまな河川に関する次の文章をよく読んで、後の問いに答えなさい。

- (Ⅰ) 源頼朝は、①源平合戦（治承・寿永の乱）の中の富士川の戦いで勝利し、東国支配の基盤を固めました。この戦いの際に源頼朝は、奥州平泉から駆けつけた弟、(あ)との再会を果たしました。
- (Ⅱ) 蝦夷討伐とその後の支配のために北上川流域に多賀城などがつくられました。征夷大將軍に任じられた(い)が蝦夷の首領アテルイを降伏させました。京都にアテルイを連れ帰りましたが、助命の願い出は聞き入れられませんでした。
- (Ⅲ) 院政を始めた(う)上皇は大きな権力を握りました。その権力の大きさは、「思い通りにならないものは、鴨川（加茂川）の水とすごろくのさい（さいころのこと）と②山法師の3つである」と表現されるほどでした。
- (Ⅳ) 吉野川は、下流では紀の川と呼ばれています。吉野川周辺には、神武天皇が紀伊半島に遠征をした際の神話にまつわる史跡が多く、神の使いが道案内をすることで神武天皇が熊野の森から出られたという話は③『古事記』や『日本書紀』に登場します。
- (Ⅴ) 千曲川（他県に入ると信濃川と呼ばれる）にある三角地帯で上杉軍と武田軍が川中島の戦いをくりひろげました。上杉軍と武田軍の間での④「敵に塩を送る」という故事は、慣用句になるほど有名です。
- (Ⅵ) 日清戦争で得た賠償金を利用して 1901 年に⑤官営の工場が操業しました。この工場では筑後川の北部に広がる筑豊炭田から採れる石炭と中国から輸入した鉄鉱石で鉄がつくられ、その生産量は第二次世界大戦前には日本の鉄鋼生産の半分以上を占めるようになりました。

問 1 下線部①について、源平合戦の最後の合戦となった戦いは次のうちのどの戦いですか。下から 1 つ選んで、記号で答えなさい。

- |            |            |
|------------|------------|
| (ア) 関ヶ原の戦い | (イ) 白村江の戦い |
| (ウ) 壇ノ浦の戦い | (エ) 桶狭間の戦い |

問 2 文中の空欄（あ）～（う）にあてはまる語句は何ですか。それぞれ漢字で答えなさい。



問3 下線部②について、山法師とは京都の北東からやってくる延暦寺の僧兵のことです。このお寺のある山と、その開祖の組み合わせとして正しいものはどれですか。下から1つ選んで、記号で答えなさい。

(ア) 比叡山 — 空海 (イ) 高野山 — 空海

(ウ) 比叡山 — 最澄 (エ) 高野山 — 最澄

問4 下線部③について、『古事記』や『日本書紀』の説明として誤っているものはどれですか。下から1つ選んで、記号で答えなさい。

(ア) どちらも天皇家にまつわる話が書かれたものである。

(イ) どちらも平安時代に書かれたものである。

(ウ) 『古事記』には日本古来の神々とその神々にまつわる話が書かれている。

(エ) 『日本書紀』は中国の歴史書にならって漢文で書かれている。

問5 下線部④について、この故事のもととなった内容として正しいものはどれですか。下から1つ選んで、記号で答えなさい。甲斐国というのは現在の山梨県を中心とした地域、越後国というのは現在の新潟県を中心とした地域です。

(ア) 越後国で豊富にとれる塩を、戦っている相手に自慢して相手をいらだたせるために上杉氏が武田氏に塩を送った。

(イ) 越後国で豊富にとれる塩を、戦っている相手に自慢して相手をいらだたせるために武田氏が上杉氏に塩を送った。

(ウ) 甲斐国ではなかなか塩がとれず、お互いに戦ってはいるが困っているのを見過ごせなかったため上杉氏が武田氏に塩を送った。

(エ) 甲斐国ではなかなか塩がとれず、お互いに戦ってはいるが困っているのを見過ごせなかったため武田氏が上杉氏に塩を送った。

問6 下線部⑤について、この官営の工場の名前は何ですか。漢字で答えなさい。

問7 (I) ～ (VI) の文章中の二重下線部の6本の川の中で最も西を流れる川はどれですか。  
(I) ～ (VI) の中から1つ選んで、記号で答えなさい。

3 次の文章をよく読んで、後の問いに答えなさい。

被爆 50 周年(平成 7 年)の①平和記念式典では、②広島市長の平和宣言に続いて、初めてこども代表が「平和への誓い」を述べました。これは、「こども平和のつどい」で世界のこどもたちが話し合った結果を平和への決意として述べたもので、翌年以降もこの成果を引き継ぐ「こどもピースサミット」が開催され、「平和への誓い」を発信しています。2023 年度に発信された誓いの言葉を見てみましょう。

みなさんにとって「平和」とは何ですか。争いや戦争がないこと。

③差別をせず、違いを認め合うこと。悪口を言ったり、けんかをしたりせず、みんなが笑顔になれること。

身近なところにも、たくさんの平和があります。

( A ) 年 8 月 6 日 午前 8 時 15 分。

耳をさくような爆音、肌が焼けるほどの熱。

皮膚が垂れ下がり、血だらけとなって川面に浮かぶ死体。

こどもの名前を呼び、「目を開けて。目を開けて。」と、叫び続ける母親。

たった一発の爆弾により、一瞬にして広島のみちは破壊され、悲しみで埋め尽くされました。

「なぜ、自分は生き残ったのか。」仲間を失った私の曾祖父は、そう言って自分を責めました。

原子爆弾は、生き延びた人々にも心に深い傷を負わせ、生きていくことへの苦しみを与え続けたのです。あれから 78 年が経ちました。

今の広島は緑豊かで笑顔あふれるまちとなりました。

「生き残ってくれてありがとう。」命をつないでくれたからこそ、今、私たちは生きています。

私たちにもできることがあります。自分の思いを伝える前に、相手の気持ちを考えること。

友だちのよいところを見つけること。

みんなの笑顔のために自分の力を使うこと。

今、平和への思いを一つにするときです。

被爆者の思いを自分事として受け止め、自分の言葉で伝えていきます。

身近にある平和をつないでいくために、一人一人が行動していきます。

誰もが平和だと思える未来を、広島に生きる私たちがつくっていきます。

令和 5 年(2023 年) 8 月 6 日

こども代表

(広島市教育委員会ホームページ参照)

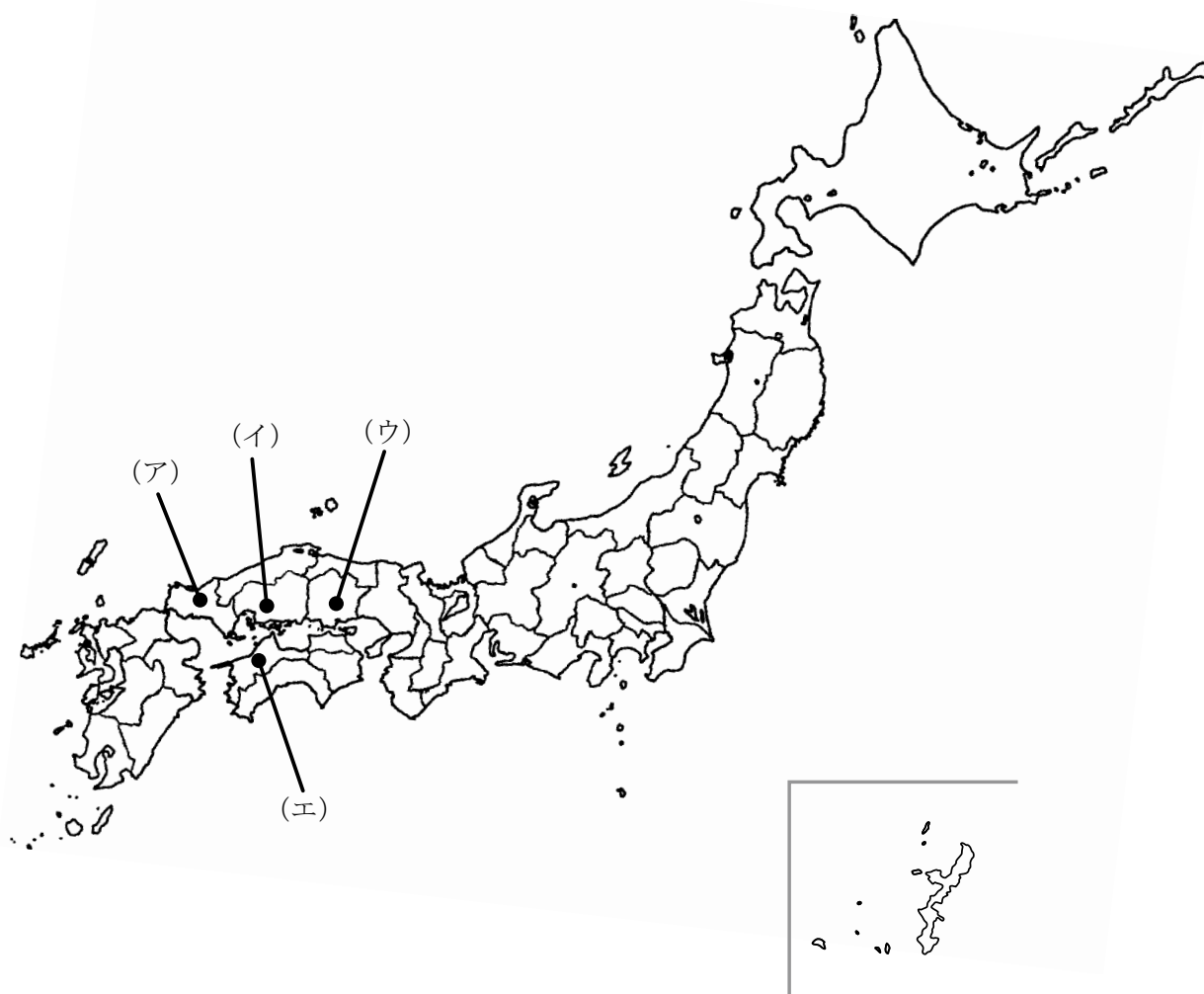
この誓いの言葉からみなさんは何を感じますか。そして④政治家は何を感じ、どう行動するのでしょうか。⑤日本国憲法の三大原理の一つに平和主義があります。憲法の第 9 条で戦争の放棄・戦力の不保持・交戦権の否認をうたっています。

一方、⑥財政を見てみると歳出の項目に防衛費があります。これは主に自衛隊などの組織に使うお金です。自衛隊は戦力に当たらないのかという議論は自衛隊ができた当初からされていて、政府の解釈が時期によって違っています。

開戦後1年以上が過ぎた⑦ロシアとウクライナの戦争や様々な国で起こっている内戦などは、多くの国民が傷つくことになります。しかし戦争をしないで問題を解決する他の方法も選択できます。外交問題の解決手段として戦争という手段を用いることは悲惨な結果を生むだけです。戦争の悲惨さを後世に伝え、二度と戦争を繰り返さないようにすることが大切です。戦争のない真に平和な世界になるように、私たちができることを始めていきましょう。

問1 下線部①について、平和を維持するために日本政府は非核三原則を打ち出しています。その内容は何ですか。解答欄に合う形で答えなさい。

問2 下線部②について、広島県はどこですか。広島県の場所を示す記号を次の地図から1つ選んで、記号で答えなさい。



問 3 下線部③について、差別に関する記述で誤っているものはどれですか。下から 1 つ選んで、記号で答えなさい。

(ア) 男女で昇給に差があるのは男女差別にあたる。

(イ) 少数民族の存在を否定するのは、民族差別にあたる。

(ウ) 入学試験で別室受験などの使用を許可するのは、障がい者差別にあたる。

(エ) 特定の民族や国籍の人に対するヘイトスピーチは外国人差別にあたる。

問 4 文章中の空欄 (A) には、太平洋戦争の終戦年が入ります。西暦何年ですか。答えなさい。

問 5 下線部④について、

(1) 政治を行う場として、国会があります。国会は国権の最高機関です。国会には裁判官が職務上の義務に違反した場合、罷免させることができる組織があります。国会に設置されたこの組織の名称は何ですか。漢字で答えなさい。

(2) 国会は衆議院と参議院からなります。次のうち衆議院の優越が認められないものはどれですか。下から 1 つ選んで、記号で答えなさい。

(ア) 憲法改正の発議

(イ) 予算の議決

(ウ) 条約の承認

(エ) 内閣総理大臣の指名

(3) 天皇は政治に関する権限を持たず、内閣の助言と承認のもと国事行為のみを行うと規定されています。次のうち、天皇の国事行為ではないものはどれですか。下から 1 つ選んで、記号で答えなさい。

(ア) 政令の制定

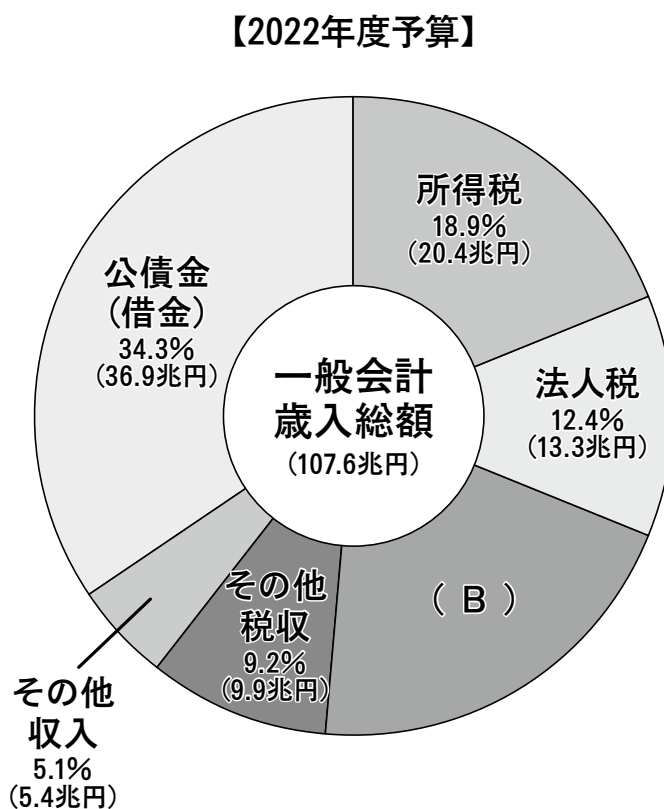
(イ) 衆議院の解散

(ウ) 法律の公布

(エ) 国会の召集

問 6 下線部⑤について、日本国憲法の第 15 条で、公務員を選定・罷免することは国民固有の権利であると規定されています。現在では満 18 歳以上になり、国民であればだれでも選挙権を持ちます。このことを何選挙といいますか。漢字で答えなさい。

問 7 下線部⑥について、財政の歳入には税金などがあります。次のグラフのうち、Bに当てはまる間接税の種類は何ですか。漢字で答えなさい。



問 8 下線部⑦について、ロシアがウクライナとの戦争を始めた時のロシアとウクライナの大統領は誰ですか。それぞれ答えなさい。

以上







