

2023 年度 大妻中野中学校 第 1 回アドバンスト入試

(2 月 1 日午前 問題用紙)

社 会

受験上の注意

- (1) この問題用紙は表紙を含めて 15 ページあります。
- (2) 試験開始後ただちにページ数を確認してください。
- (3) 問題用紙・解答用紙それぞれに受験番号と座席番号と氏名を忘れずに記入してください。
受験番号と座席番号は算用数字で記入してください。
- (4) 試験時間は 30 分です。
- (5) 解答は全て解答用紙に記入してください。
- (6) この試験は 50 点満点です。

受験 番号					番	氏名	
座席 番号					番		

1 次の文章をよく読んで、後の問いに答えなさい。

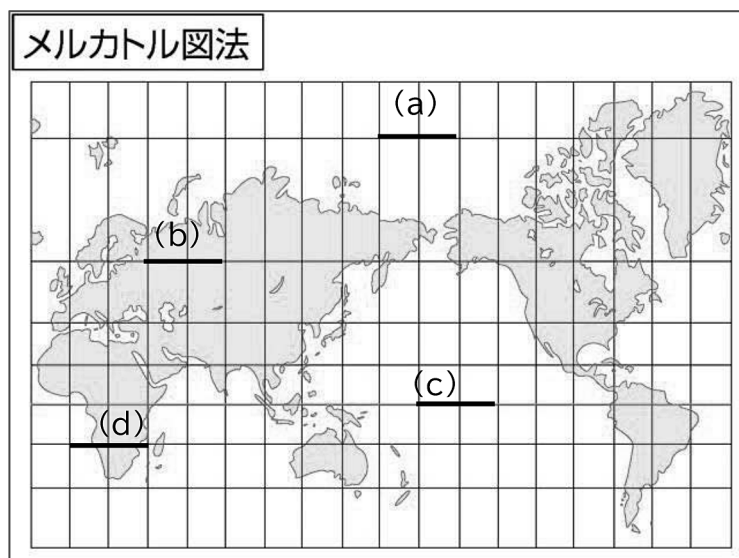
持続可能な社会の実現を目指し、世界ではさまざまな取り組みがおこなわれています。SDGs の原則は「誰も取り残さない世界を目指す」ところにあります。

日本に目を向けてみると、介助が必要な人や高齢者、外国人など、多様な人々が同じ社会の中で暮らしています。すべての人々が平等に生きるために、社会基盤や福祉の充実などを整備していく考え方を（ A ）と言います。（ A ）を実践することで、誰も取り残さない社会を実現することがポイントです。この目標に向かって多くの取り組みが行われていますが、同じ社会に生きるさまざまな人々が幸せに暮らせるために、地図で何かできないでしょうか。私たちの身の回りには、①観光を目的にした地図やデジタルの地図など、さまざまな地図があふれています。普段みなさんはどのような場面で地図を使っていますか。地図の使い道は目的地を探したり、行き方を調べたりするだけではありません。②誰も取り残さない社会をつくるために私たちが地図でできることを考えてみましょう。

問1 文章中の空欄（A）に当てはまる語句は何ですか。カタカナで答えなさい。

問2 下線部①について、

- （1）下に示したのは、一般的によく使われている世界地図です。地図上の横線は緯線を、縦線は経線を示しています。地図中の（a）～（d）に示した緯線の中で、実際の長さ（距離）が最も短いのはどれですか。下から1つ選んで、記号で答えなさい。（緯線と経線は、ともに20度間隔で引かれています）



- （2）上の地図を見て、日本を通る緯線上にある国として正しくないものはどれですか。下から1つ選んで、記号で答えなさい。

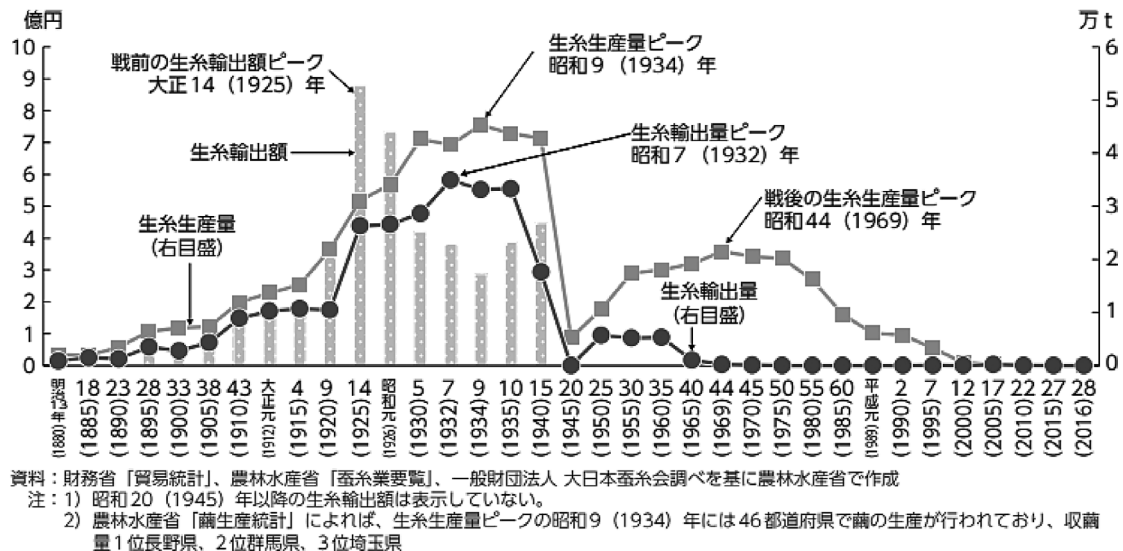
（ア）オーストラリア （イ）アメリカ合衆国 （ウ）スペイン （エ）中国

(3) 右に示した地図記号は、2013年に廃止されました。その背景には日本の産業の変化があります。この地図記号が示すものは何ですか。資料を参考に、下から1つ選んで、記号で答えなさい。



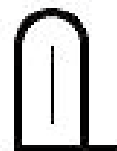
(ア) 水田 (イ) 桑畑 (ウ) 茶畑 (エ) 果樹園

〈資料〉



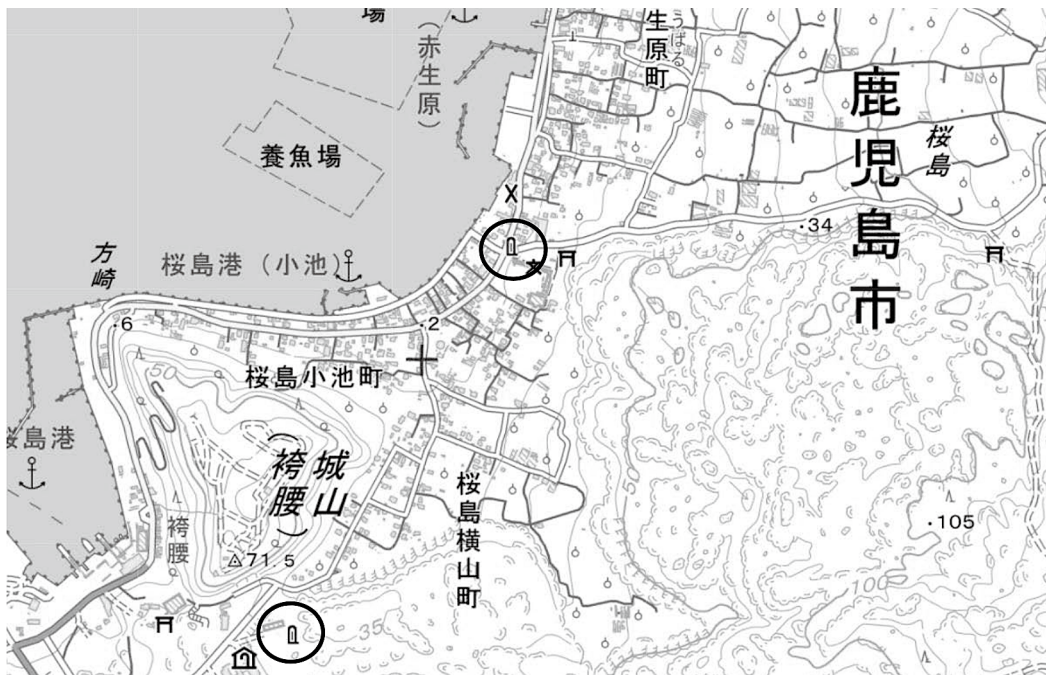
(農林水産省資料より引用)

(4) 右に示した地図記号は、2019年に新たに地図に記載されるようになった「自然災害伝承碑」の地図記号です。地図X・Yの○印の中には、右の地図記号が書かれています。それぞれどのような自然災害の伝承を目的に建てられていると考えられますか。それぞれ1つ選んで、記号で答えなさい。



(ア) 火山災害 (イ) 洪水災害 (ウ) 津波災害 (エ) 台風災害

地図X

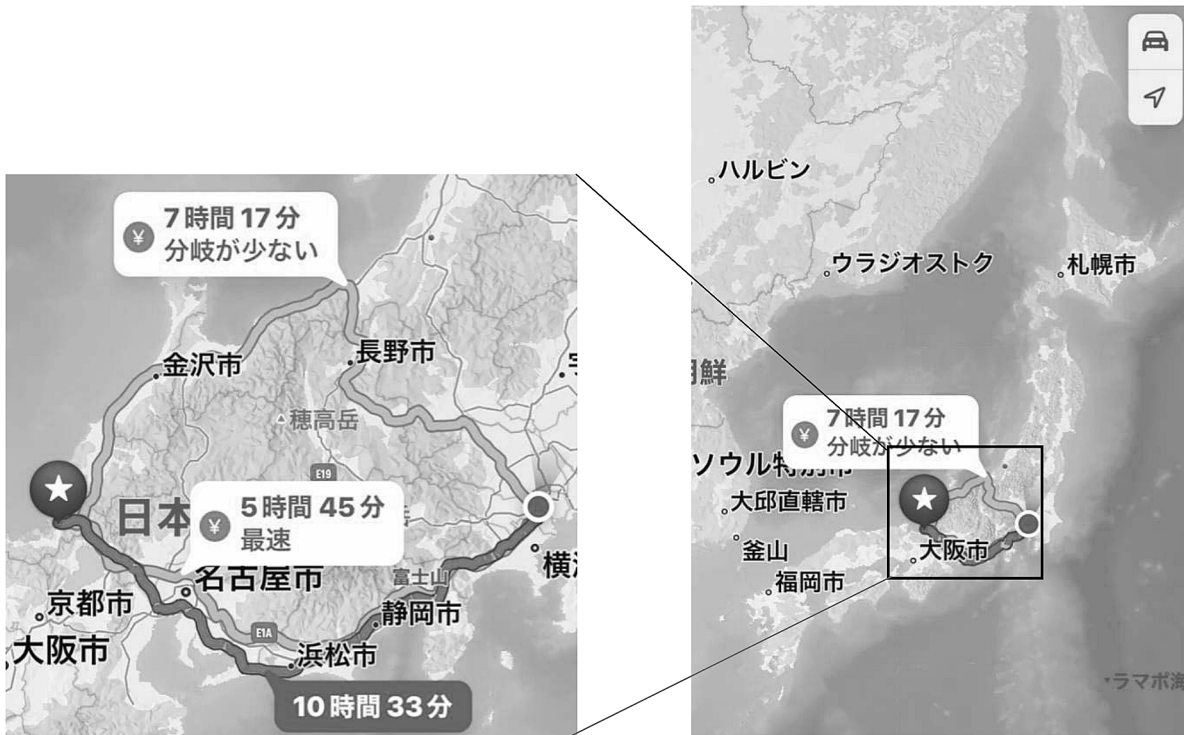


地図Y



(地図は、地理院地図より引用及び加筆)

- (5) 東京に暮らすしょうこさんは、春休みに観光に行きたい福井県の三方五湖までのルート
をスマートフォンのアプリを使って調べてみました。すると、いくつかのルートが示され
ました。どのルートを使っても通過することのない都道府県はどこですか。下から1つ選
んで、記号で答えなさい。(なお、選択肢の地図の縮尺は一定ではない)

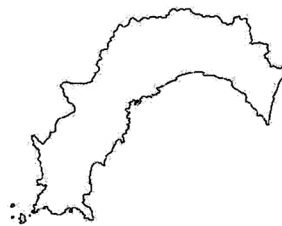


(ア)

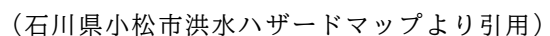
(イ)

(ウ)

(エ)



(1) 日本の地方公共団体ではハザードマップを作成し、それぞれの地域で危険度の高い災害に備えています。インターネットでは、下のようなサイトから日本各地のハザードマップを確認することもできます。しょうこさんは近年、大雨による洪水被害が頻発ひんぱつしていることから、祖父母の暮らす町のハザードマップを調べ、祖父母と一緒に万が一の際の避難について考えることにしました。しょうこさんの考えを述べた文として正しいものはどれですか。右ページから1つ選んで、記号で答えなさい。

[illegible]

(ア) 洪水の危険を感じた際は、最も近い御幸中学校に避難するのがよい。

(イ) 祖父母の家から西側に避難すると、比較的洪水の被害は少ないと考えられる。

(ウ) 避難指示が出た際は、串小学校に避難を考えている。

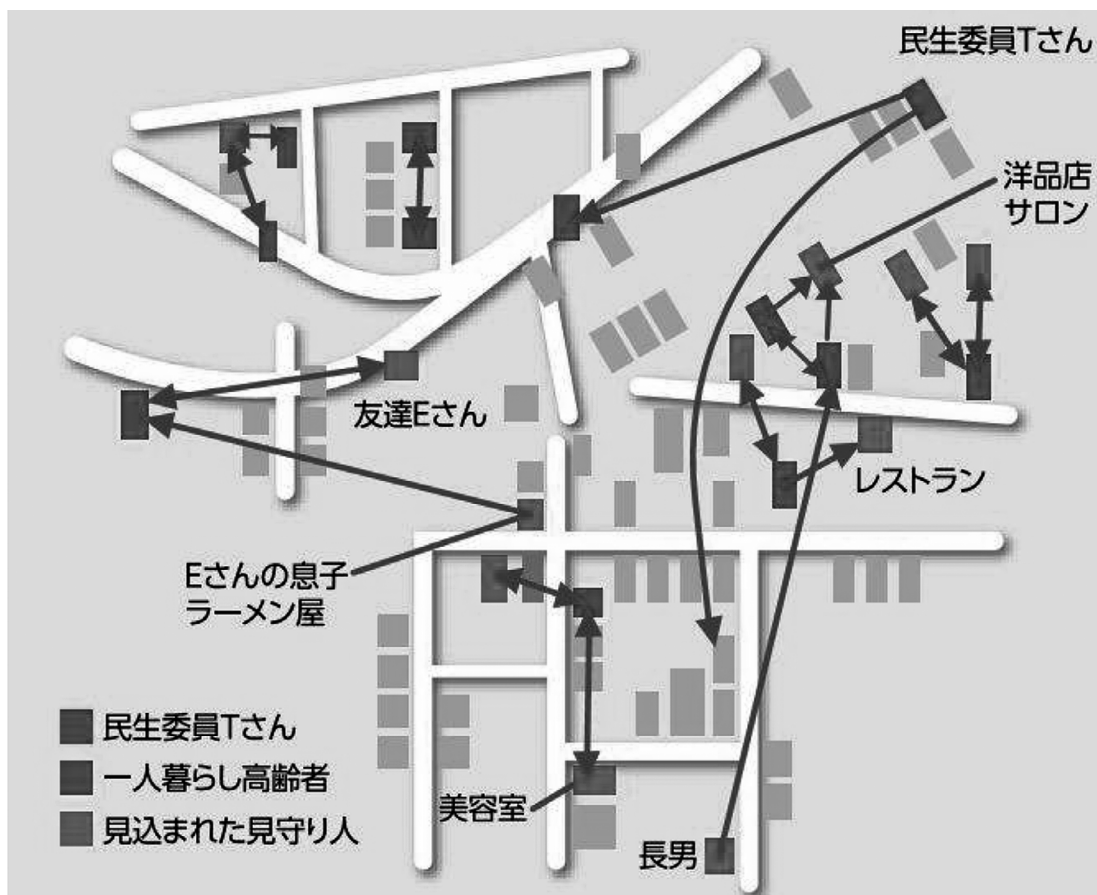
(エ) 電車に乗っている際に洪水の危険性が高まった場合、^{ただ}直ちに最寄りの駅から車で祖父母の家へ向かったほうが安全である。

(2) 地方公共団体では、地域のすべての人々が安心して豊かに暮らせるためにさまざまな地図が作成されています。下に示した地図は、ある市町村で作成された「地域支え合いマップ」です。この地図はどのような目的で作成された地図だと考えられますか。地図を見て説明しなさい。

[注1] 地図中の「民生委員」とは、それぞれの地域において、常に住民の立場に立って相談に応じ、必要な援助を行い、社会福祉の増進に努める方々のことである。(厚生労働省ホームページより)

[注2] 地図中の「見込まれた見守り人」とは、日ごろから付き合いのある人のことを指している。

[注3] 地図中の矢印は、関係のある人のつながりを示している。



(伊那市社会福祉協議会 Twitter より引用)

2 次の文章をよく読んで、後の問いに答えなさい。

古代中国に端を発する自然哲学の思想で「陰陽五行説」というものがあります。世の中のすべては「木・火・土・金・水」の要素でできていて、それぞれのイメージカラーが「青・赤・黄・白・黒」だそうです。これらの色は①方角を守る聖獣の色にも使われています。飛鳥時代の日本にもこの考え方が入ってきて、この5色に最上位の【 A 】色をくわえた6色で②冠位十二階が制定されています。以下の5つの文章は、時代の異なる「青・赤・黄・白・黒」の5色についての歴史的なトピックです。

青 サッカー日本代表のユニフォームなどに使われている青色は、「ジャパンプルー」や「サムライブルー」と言われることもあります。派手な色や贅沢を禁止する奢侈禁止令によって赤や黄色の着物が禁止されたこの時代には、地味だけれども使えば味が出る青が粋な色とされ、③浮世絵師も青色を使うことが増えました。

赤 この時代には、「赤備え」と呼ばれる全身を赤で包んだ鎧かぶとを身にまとって戦場に出る武将がいました。赤は燃えさかる炎を連想させ、武力や権力、富を誇示する色です。④豊臣秀吉も、ポルトガルのビロード〔注〕を使った赤くて派手な陣羽織をはおったと言われています。

黄 ⑤マルコ＝ポーロが「黄金の国ジパング」と表現したのは、平泉にある【 B 】のことだとも言われます。浄土信仰が広がったこの時代に、奥州藤原氏によって極楽浄土を表現した阿弥陀堂として建立されたものです。

白 「白無垢」「白装束」など、冠婚葬祭などあらゆる場面で使われる色が白色です。また、白は何色にも染まる色として、相手に降参する意思を示す「白旗を上げる」という表現にも使われます。この行為はこの時代に西洋から入ってきたもので、日本で最初に行われたのは⑥戊辰戦争のときだと言われています。

黒 この時代には幕府の保護のもと禅宗が広まり、色彩を排除して⑦墨の濃淡だけで表現する水墨画が登場します。禅の思想を表現した美術と言えます。

〔注〕 16世紀の南蛮貿易で入ってきた織物の一種。英語ではベルベット、和名は天鷲絨。

問1 文章中の空欄【A】、【B】に当てはまる語句は何ですか。それぞれ下から1つ選んで、記号で答えなさい。

【A】 (ア) 緑 (イ) 茶 (ウ) 紫 (エ) 橙

【B】 (ア) 平等院鳳凰堂 (イ) 東大寺正倉院

(ウ) 法隆寺金堂 (エ) 中尊寺金色堂

問2 下線部①について、下の絵は中国の四方向を守る四神をあらわしたものです。中国の都長安にならってつくられた平城京や平安京において、中央の南北をつらぬく大きな通りの名前として使われた四神はどれですか。下から1つ選んで、記号で答えなさい。

(ア) 玄武


(イ) 青龍

(ウ) 朱雀

(エ) 白虎




西の聖獣 白虎



北の聖獣 玄武



東の聖獣 青龍



南の聖獣 朱雀

問3 下線部②について、この制度は推古天皇の時代につくられたものです。

(1) 推古天皇の摂政として中国の制度を見習って政治をすすめ、この制度の他にも十七条の憲法をつくった人物は誰ですか。答えなさい。

(2) (1) の人物は政治や法律、制度を学ぶためにある王朝に使者を送りました。当時の中国を支配していたのは何という王朝でしたか。下から1つ選んで、記号で答えなさい。

(ア) 漢

(イ) 魏

(ウ) 隋

(エ) 唐

問4 下線部③について、次の4人のうち、浮世絵の絵師でないのは誰ですか。下から1人選んで、記号で答えなさい。

(ア) 葛飾北斎

(イ) 歌川広重

(ウ) 東洲斎写楽

(エ) 近松門左衛門

問5 下線部④について、この人物の説明として正しいものはどれですか。下からすべて選んで、記号で答えなさい。

(ア) 全国の農民から武器を没収する刀狩令を発布した。

(イ) 天下統一目前だった織田信長を、本能寺の変で殺害した。

(ウ) 天下統一後に朝鮮半島に二度出兵した。

(エ) 武士として初めて太政大臣に任命された。

問6 下線部⑤について、マルコ＝ポーロはイタリアのベネチア出身の商人で、中国（元）の時代に中国を訪れていました。マルコ＝ポーロが仕えた元の皇帝は、二度にわたり日本に兵を送った皇帝でもあります。この皇帝は誰ですか。答えなさい。

問7 下線部⑥について、この戦争を説明した文章として正しいものはどれですか。下から1つ選んで、記号で答えなさい。

(ア) 新政府に対して不満を抱いた士族（旧武士階級）が起こし、九州で終結した反乱

(イ) 新政府軍と旧幕府軍に分かれて戦われ、北海道で終結した内戦

(ウ) 将軍の後継者争いで2つの陣営に分かれて10年以上にわたって京都で戦われた内乱

(エ) 朝鮮半島への進出に際してその支配権をめぐって中国（清）と争った戦争

問8 下線部⑦について、1467年に中国（明）に渡って水墨画を学び、多くのすぐれた山水画をのこした禅僧は誰ですか。漢字で答えなさい。

問9 青 赤 黄 白 黒の文章中にあるこの時代を、古い順に並び替え、色で答えなさい。

③ 次の文章をよく読んで、後の問いに答えなさい。

①日本は人口減少に直面しており、国内需要は減少傾向にあります。日本が経済成長を続けていくためには、外国需要を取り込む必要があります。グローバル競争が激化する中、他国に真似できない日本固有の魅力を外国需要獲得につなげることを目的に、②日本政府はクールジャパンを国家戦略と位置づけました。2013年にクールジャパン推進機構法^[注1]が③国会で制定され、④官民一体となって取り組みを強化しています。

クールジャパンとは、日本の生活文化を活かした日本固有の商品・サービスで、外国人が「Cool（クール、格好^{かっこう}良い、いいね等の意味）」と評価するものを指します。具体的なクールジャパン戦略として、日本のコンテンツ、ファッション、日本食、地域産品、観光等で海外展開や⑤インバウンドの強化に取り組むことなどが挙げられます。

日本の代表的なコンテンツの1つとしてバーチャル・シンガーの初音ミク^[注2]があります。初音ミクの名前の由来は、未来から来た「初めての音」から「初音」、「未来」から「ミク」で、「未来的なシンガー」をコンセプトとしています。発売元のクリプトンは⑥個人がキャラクターを模倣^{もほう}して作品を創作したり公開したりする二次創作活動について、非営利目的で公序良俗に反しない限りほぼ自由な使用を認めています^[注3]。また、2010年の『さっぽろ雪まつり』で真っ白い初音ミクの雪像を作ったことをきっかけに、「雪ミク」が北海道を応援するキャラクターとして誕生しました。現在では、北海道を盛り上げる各種取り組みのアンバサダーを務め、⑦地方公共団体や企業とのコラボレーションを行うなど、応援の場を多方面に広げています。

初音ミクの国内外における需要や供給の拡大は、「外国人による消費拡大」「関連産業の雇用創出」「日本ブランドの価値向上によるその他産業への波及」といった効果をもたらしています。⑧海外からの訪日観光客が新型コロナウイルス感染症の拡大以前に比べて減少する中、日本の伝統と最新テクノロジーを融合したクールジャパン戦略によって日本の魅力を世界に発信し続けることが強く求められています。

[注1] 正式名称は株式会社海外需要開拓支援機構法。

[注2] 初音ミクは、もとはヤマハが開発した音声合成システム VOCALOID（ボーカロイド）により歌声を合成することのできるソフトウェア音源で、のちにソフトウェア自体をバーチャル・シンガーと見立ててキャラクター付けした商品として発売された。

[注3] クリプトン・フューチャー・メディア株式会社のピアプロ・キャラクター・ライセンスを参照。
なお、公序良俗とは、公（おおやけ）の秩序を守る常識的な風習や考えのこと。

問1 下線部①について、総務省統計局が作成した人口に関する表を見て問いに答えなさい。

資料1 日本における年齢3区分別人口及び割合の推移

年 次	総人口 (万人)	15歳未満 (こどもの数・割合)		15～64歳		65歳以上	
		人口(万人)	割合(%)	人口(万人)	割合(%)	人口(万人)	割合(%)
1950年	8320	2943	35.4	4966	59.7	411	4.9
1955年	8928	2980	33.4	5473	61.3	475	5.3
1960年	9342	2807	30.0	6000	64.2	535	5.7
1965年	9827	2517	25.6	6693	68.1	618	6.3
1970年	10372	2482	23.9	7157	69.0	733	7.1
1975年	11194	2723	24.3	7584	67.7	887	7.9
1980年	11706	2752	23.5	7888	67.4	1065	9.1
1985年	12105	2604	21.5	8254	68.2	1247	10.3
1990年	12361	2254	18.2	8614	69.7	1493	12.1
1995年	12557	2003	16.0	8726	69.5	1828	14.6
2000年	12693	1851	14.6	8638	68.1	2204	17.4
2005年	12777	1759	13.8	8442	66.1	2576	20.2
2010年	12806	1684	13.1	8173	63.8	2948	23.0
2015年	12709	1595	12.5	7728	60.8	3387	26.6
2020年	12615	1503	11.9	7509	59.5	3603	28.6
2021年	12585	1491	11.8	7481	59.4	3614	28.7
2022年	12519	1465	11.7	7426	59.3	3627	29.0

資料： 「国勢調査」及び「人口推計」

注) 2021年及び2022年は4月1日現在、その他は10月1日現在

資料2 各国注1)におけるこどもの割合

国 名	推 計 時 点 (調査時点)	こどもの 割合(%)	国 名	推 計 時 点 (調査時点)	こどもの 割合(%)
日 本	2022. 4. 1	11.7	インドネシア	2020. 7. 1	24.5
			イ ラ ン	2020. 7. 1	24.6
韓 国 2)	2021. 7. 1	11.9	メ キ シ コ 2)	2021. 7. 1	25.4
イ タ リ ア 2)	2021. 1. 1	12.9	ミ ャ ン マ ー	2020.10. 1	26.9
ド イ ツ 2)	2020.12.31	13.8	イ ン ド	2016. 3. 1	28.1
ス ペ イ ン 2)	2021. 7. 1	14.1	南 ア フ リ カ 2)	2021. 7. 1	28.3
ウ ク ラ イ ナ	2020. 1. 1	15.3	バングラデシュ	2020. 7. 1	28.8
タ イ 2)	2021. 7. 1	15.8	フ ィ リ ピ ン	2020. 7. 1	30.3
ロ シ ア 2)	2016. 1. 1	17.0	ア ル ジェ リ ア	2020. 7. 1	30.5
フ ラ ン ス 2)	2021. 1. 1	17.7	エ ジ プ ト	2020. 7. 1	34.2
イ ギ リ ス 2)	2020. 7. 1	17.9	ス ー ダ ン	2020. 7. 1	37.0
アメリカ合衆国	2018. 7. 1	18.6	エ チ オ ピ ア	2020. 7. 1	38.1
中 国 2)	2021.12.31	18.6	ケ ニ ア	2019. 8.24	39.0
ブ ラ ジ ル	2018. 7. 1	21.3	パ キ ス タ ン	2017. 3.15	40.3
ト ル コ 2)	2020.12.31	22.4	ナ イ ジェ リ ア	2016. 7. 1	41.8
コ ロ ン ビ ア	2020. 7. 1	23.5	タ ン ザ ニ ア 2)	2021. 7. 1	43.2
アルゼンチン 2)	2021. 7. 1	24.2	ウ ガ ン ダ 2)	2021. 7. 1	44.8
ベ ト ナ ム	2020. 4. 1	24.2	コンゴ民主共和国	2020. 7. 1	48.1

資料： 国連人口統計年鑑（2020年版）。ただし、日本は人口推計の結果による。

注1) 人口4000万以上の国

2) 各国統計機関のホームページの最新の数値を掲載

資料 1 および資料 2 から読み取れることとして正しいものはどれですか。下から 1 つ選んで、記号で答えなさい。

(ア) 日本の 15 歳未満の人口は、1950 年から 2022 年にかけて減少し続けている。

(イ) 日本の 65 歳以上の人口は、1950 年から 2022 年にかけて増加し続けている。

(ウ) フィリピンのこどもの割合は、日本のこどもの割合の約 2 倍である。

(エ) ヨーロッパ地域の子どもの割合は、他の地域に比べ高い傾向にある。

問 2 下線部②について、クールジャパン政策を中心的な立場で推進するなど、日本の経済発展のために企業の支援などを行っている行政機関は何省ですか。漢字で答えなさい。

問 3 下線部③について、参議院ではなく衆議院にのみ与えられている権限として正しいものはどれですか。下から 1 つ選んで、記号で答えなさい。

(ア) 内閣総理大臣の指名

(イ) 憲法改正の発議

(ウ) 内閣の信任・不信任の決議

(エ) 条約の承認

問 4 下線部④について、官民一体の「官」と「民」の意味をそれぞれ答えなさい。

問 5 下線部⑤について、インバウンドとは何ですか。下から 1 つ選んで、記号で答えなさい。

(ア) 外国人が旅行を目的に日本を訪れること

(イ) 日本人が旅行を目的に外国を訪れること

(ウ) 外国人が仕事を目的に日本に移住すること

(エ) 日本人が仕事を目的に外国に移住すること

問 6 下線部⑥について、

- (1) 発売元がキャラクターの二次創作活動についてほぼ自由な利用を認めているのはなぜですか。自由な利用を認めることによる発売元の利点を説明しなさい。

※著作権の都合上省略

- (2) 発売元が許可しない方法でキャラクター画像を使用した者に対して、発売元は裁判でその損害賠償を請求する場合があります。そのような裁判を何とといいますか。下から1つ選んで、記号で答えなさい。

(ア) 刑事裁判 (イ) 行政裁判 (ウ) 特別裁判 (エ) 民事裁判

問7 下線部⑦について、地方自治に関連する説明として正しくないものはどれですか。下から1つ選んで、記号で答えなさい。

- (ア) 国政の長である内閣総理大臣は国会の指名により選ばれるが、地方公共団体の長である知事や市町村長は住民の選挙で選ばれる。
- (イ) 国政の国民投票は憲法改正の是非を問うときのみ実施されるが、地方自治の住民投票は首長解職の賛否や、特定の政策について民意を問う場合など多岐にわたって行われる。
- (ウ) 国政と比べ、地方自治は住民が条例の制定や首長の解職を直接請求できるなど、住民が政治に参加しやすい制度が多く設けられている。
- (エ) 国政と比べ、地方自治は解決すべき深刻な課題が多く、住民たちは自分たちの暮らしにかかわる課題に責任を負わなくてはならないことから「民主主義の学校」といわれる。

問8 下線部⑧について、政府は日本の観光産業を支援するために、日本国内における旅行を活発にするための取り組みをしています。その具体的な取り組みは何ですか。適当な事例を説明しなさい。

以上

