

2022 年度 大妻中野中学校 第 4 回アドバンスト入試

(2 月 3 日 午 前 問 題 用 紙)

社 会

受験上の注意

- (1) この問題用紙は表紙を含めて 15 ページあります。
- (2) 試験開始後ただちにページ数を確認してください。
- (3) 問題用紙・解答用紙それぞれに受験番号と座席番号と氏名を忘れずに記入してください。
受験番号と座席番号は算用数字で記入してください。
- (4) 試験時間は 30 分です。
- (5) 解答は全て解答用紙に記入してください。
- (6) この試験は 50 点満点です。

受験 番号					番	氏名	
座席 番号					番		

1 次の会話文を読んで、後の問いに答えなさい。

○先生 2021年7月23日から9月5日まで東京2020オリンピック・パラリンピック競技大会(以下東京大会)が開催されました。オリンピックは①205の国と地域から、パラリンピックは162の国と地域から参加していましたね。Nさん、観ていましたか。

Nさん はい。オリンピックの開会式は印象的でした。特に1824機の②ドローンのパフォーマンスには圧倒されました。

○先生 開会式といえばパントマイムでの③ピクトグラムの演出も話題になりましたね。

Nさん あっ、私も観ました。あの演出を見てからピクトグラムについて調べてみました。ピクトグラムが多くの国で使われるようになったきっかけは、1964年の東京オリンピックからなのですね。

○先生 当時の日本国内の掲示板は文字による表示が中心でした。海外旅行もまだ珍しい時代、日本にやってくる外国人も多くなかったのです。オリンピックの開催が決まり、世界中から大勢の人々が来日することになりました。ピクトグラムはそんな状況で言葉の壁を越える重要な役割を果たしたのです。Nさんのなかで今回印象に残っている競技は何でしたか。

Nさん どの競技も感動的だったのですが、今回初めて競技に採用された④スケートボードが特に印象に残りました。競技中や競技が終わってからも互いに尊敬し合う文化は素晴らしいものだと思います。

○先生 スケートボードの競技が行われた有明アーバンスポーツパークや開会式・閉会式が行われた新国立競技場をはじめ、都内の多くの場所が競技会場として設定されました。選手を時間通りに送ったり、物流などの経済活動を維持するためにも、⑤交通網を整備することは大会を円滑に進めていくうえで欠かすことができないことでした。1964年の東京オリンピックの時にも東京モノレールや新幹線、高速道路などの整備が進められ、日本国内の移動が格段にスムーズになりました。

Nさん 今回東京大会を振り返ってみて、多くのことが学べることに気が付きました。帰ってから気になったことや疑問点を調べてみますね。今度先生に聞きに行ってもいいですか。

○先生 もちろんです。お待ちしております。

問1 下線部①について、次の表は今回の東京大会に参加した国のうち、メダル獲得の上位国であるアメリカ・中国・ロシア・オーストラリアと日本との貿易総額と主な貿易品の内訳(2019年の統計)を示したものです。A～Dにあてはまる国名をそれぞれ答えなさい。

A 国からの輸入品	億円	A 国への輸出品	億円
総額	184537	総額	146819
機械類	86799	機械類	64356
衣類	17909	プラスチック	8157
金属製品	6760	自動車	7867
家具	4639	科学光学機器	7503
玩具	3795	自動車部品	6853
プラスチック製品	3636	有機化合物	6829

B 国からの輸入品	億円	B 国への輸出品	億円
総額	86402	総額	152545
機械類	22748	機械類	56086
航空機類	4992	自動車	42889
医薬品	4847	自動車部品	8346
科学光学機器	4597	航空機部品	4309
肉類	3977	科学光学機器	3355
液化石油ガス	3815	医薬品	2722

C 国からの輸入品	億円	C 国への輸出品	億円
総額	49576	総額	15798
液化天然ガス	17562	自動車	7041
石炭	14863	石油製品	3317
鉄鉱石	6128	機械類	2106
肉類	2209	タイヤ・チューブ	574
銅鉱	1752	自動車部品	328
アルミニウム	987	鉄鋼	196

D 国からの輸入品	億円	D 国への輸出品	億円
総額	15606	総額	7826
原油	4355	自動車	3408
液化天然ガス	3375	機械類	1968
石炭	2502	自動車部品	913
パラジウム	1221	タイヤ・チューブ	385
魚介類	1210	石油製品	132
アルミニウム	837	金属製品	106

(『日本国勢図会 2020/21』より作成)

問2 下線部②について、

(1) ドローンにも使用されている半導体集積回路の工場所在地を示したものはどれですか。下の地図から1つ選んで、記号で答えなさい。なお●は所在地を示しています。

(ア)



(イ)



(ウ)



(エ)



(2) なぜ半導体集積回路の工場は(1)のような所在分布となっているのでしょうか。説明しなさい。

(3) ドローン活用によって空撮や測量、農薬散布や運搬など、さまざまなことができるようになります。その反面、ドローンが普及していくことにより落下事故などが問題点として挙げられます。この他にドローンの活用による問題点として考えられることはどのようなものがありますか。1つ事例を挙げて説明しなさい。

問3 下線部③について、

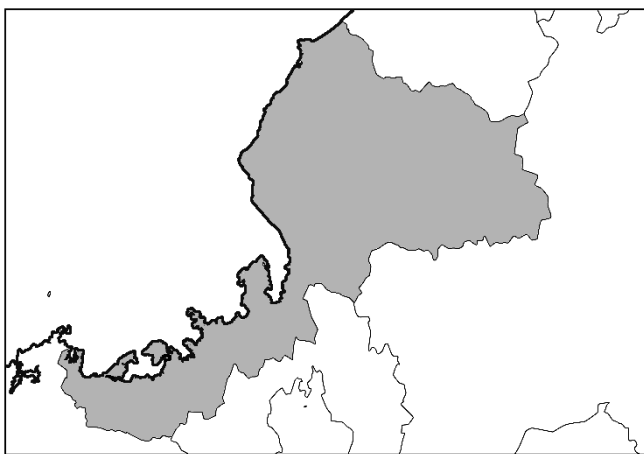
(1) ピクトグラムを使う目的は何ですか。問題文を参考に説明しなさい。

(2) 東京大会に向けて新たなピクトグラムが案内用図記号に追加されました。追加されたピクトグラムのうち、下のものは何を示しますか。答えなさい。

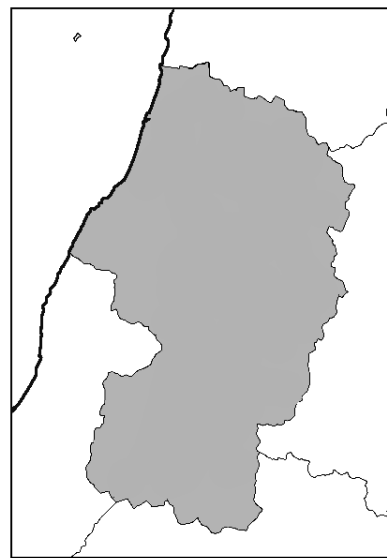


問4 下線部④について、東京大会におけるスケートボードの交流都市の1つは山形県にあります。下の地図は海岸線と都府県境を示したものです。山形県の地図はどれですか。下から1つ選んで、記号で答えなさい。

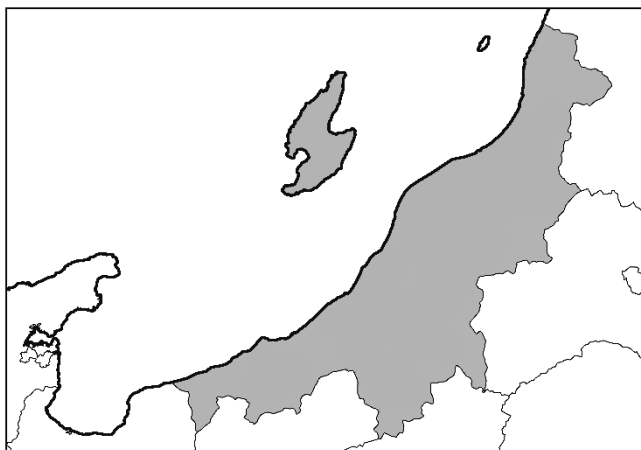
(ア)



(イ)



(ウ)



(エ)



問5 下線部⑤について、近年はインターネットサービスの普及により宅配便の個数が増加しています。そのためトラックによる輸送量も増え、大都市部の道路では渋滞が頻繁に起こり、騒音や大気汚染問題の原因ともなっています。その対策として、下の写真のようにトラック輸送をできるだけ減らし、途中で船舶や鉄道の輸送などに切り替えることが行われています。このような輸送方法の転換を何といいますか。カタカナで答えなさい。



鉄道と直結したトラックターミナル

2 「戦い」に用いられた道具に関する文章A～Eをよく読んで、後の問いに答えなさい。

- A 核分裂を利用した大きな破壊力をもった爆弾が8月6日に広島に、8月9日には長崎にアメリカ軍によって投下されました。
- B 日本に鉄砲が伝来し、やがて現在の鹿児島県、大阪府、滋賀県などで鉄砲がつくられるようになりました。一方で、火薬、鉄砲玉の材料になる鉛^{なまり}は貴重であったため、海外からも輸入していました。
- C 熱気球、飛行船に続いて飛行機が発明され、味方への連絡や敵を探ったりすることを主な目的として使用されました。やがてパリの講和条約で終結した戦争では飛行機は爆撃もするようになりました。
- D 大山古墳(大仙古墳)などの大規模な古墳がつくられた時期、中国地方や九州地方では砂鉄を利用した製鉄が始められたと考えられています。のちにこの鉄を「玉鋼^{たまはがね}」と呼ぶようになり、これを原料にして良質の刀剣がつくられました。
- E 日本ではまつりごとで弓矢を扱うことも多く、源頼朝が武士にすすめたという流鏑馬^{やぶさめ}はそのようなまつりごとのひとつです。

問1 文章A～Eを文中の二重下線をもとにして古い時代順に並び替え、解答欄に合うかたちで答えなさい。

問2 文章Aについて、このできごとに関連した戦いの講和条約について正しい文章はどれですか。下から1つ選んで、記号で答えなさい。

(ア) アメリカのポーツマスで講和条約が結ばれた。

(イ) アメリカのサンフランシスコで講和条約が結ばれた。

(ウ) 日本の下関で講和条約が結ばれた。

(エ) 日本の神戸で講和条約が結ばれた。

問3 文章Bの「鉄砲」について、次の文章を読み、設問に答えなさい。

長篠の戦いで織田信長・徳川家康連合軍は武田勝頼軍を破りました。両軍ともに多くの鉄砲をそろえていましたが、戦いに勝利した①織田・徳川連合軍は鉄砲、火薬や鉛を手に入れるうえで武田軍より有利であったと考えられます。

武田軍も鉄砲での戦いを準備していたと考えられ、時期は不明ですが、領地にある神社に②「さい銭のうちの悪銭※1」をあるだけ納めなさいと命じた文書が残っています。

※1：この悪銭は表面がすり減った質の悪い(価値の低い)銅銭、私的につくった質の悪い銅銭をさす。

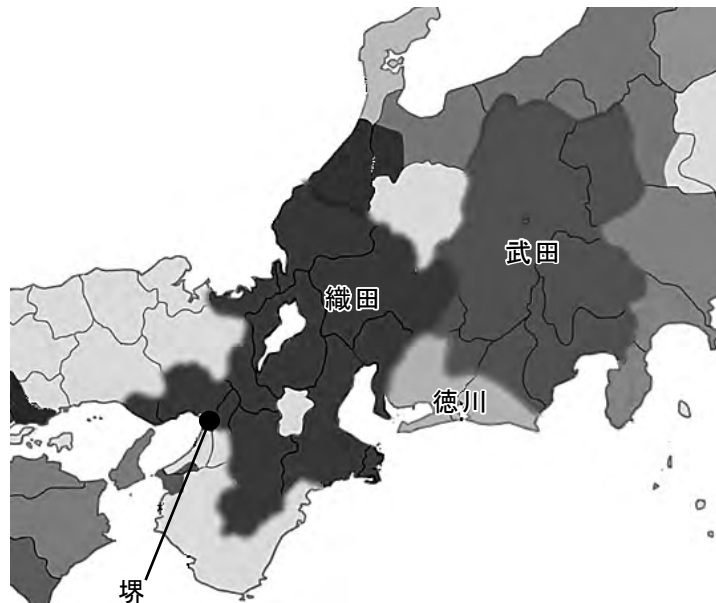


永楽通宝



永楽通宝の悪銭

(1) 下線部①について、なぜ、このようなことが考えられるのですか。当時のおおよその織田、徳川、武田の勢力を示した地図と文章Bをふまえて説明しなさい。



(2) 下線部②について、なぜ、武田軍は神社にこのような命令を出したと考えられますか。説明しなさい。

問4 文章Cについて、「パリでの講和条約で終結した戦争」が行われていた時期のできごとではないものはどれですか。下から1つ選んで、記号で答えなさい。

(ア) 二十一カ条の要求 (イ) 三国干渉 (ウ) シベリア出兵 (エ) 米騒動

問5 文章Dについて、「刀剣」に関わる文章のうち誤っているものはどれですか。下から1つ選んで、記号で答えなさい。

(ア) 弥生時代の墓から副葬品として銅剣が見つかることがあり、この頃から身分差があったと考える根拠のひとつになっています。

(イ) 豊臣秀吉は一揆を防止したり身分を分ける目的で刀狩を行い、刀や槍、鉄砲などを含む武器を没収しました。

(ウ) 江戸時代に^{帯刀}できるのは原則として武士だけでしたが、武士以外の功績のあった者にも許されることがありました。

(エ) 明治政府は士族からも刀を没収したため、不満を持った士族たちは大久保利通を中心に西南戦争を起こしました。

問6 文章Eについて、日本で弓矢が使われ始めたのは縄文時代の頃と考えられます。2021年に「北海道・北東北の縄文遺跡群」が世界文化遺産として登録されました。この遺跡のうち、下の写真の復元建物で有名な青森県にある日本最大級の縄文集落遺跡を何といいますか。答えなさい。



③ 次の文章をよく読んで、後の問いに答えなさい。

世界は異なる国や人種、性や世代でできていて、多種多様な価値観が存在します。それが時として私たちを戸惑わせ、距離を生じさせることがあります。この戸惑いや距離感が、異質なものへの差別をつくりだし、社会の分断を生みだしてきました。

東京 2020 オリンピック・パラリンピックは「多様性と調和」を大会コンセプトの1つとし、共生社会をはぐくむ契機となるような大会を目指しました。「異質なものへの差別」から「多様性と調和」が尊重されるまでに日本社会においてどのようなできごとや変化があったのでしょうか。

①アイヌ民族は古くから北海道、樺太、千島列島を中心に、独自の言葉と文化を持って生活してきました。明治時代に、政府は、北海道開拓の過程でアイヌ民族の土地をうばい、伝統的な風習などを禁止して同化政策を進めました。その結果、アイヌ民族固有の生活や文化は廃れ、アイヌ民族への差別が強まりました。アイヌ民族への差別撤廃への働きかけの結果、1997年にアイヌ文化振興法が②国会で制定され、2019年にはアイヌ民族支援法にかわり、アイヌ民族が先住民族として法的に位置付けられました。

日本では、女性は仕事や職場において、採用や昇進などで男性よりも不利にあつかわれがちです。その背景には「(A)」という固定した男女の性別役割分担の考えが残っていることがあげられ、女性の社会進出をおくらせる原因になっています。1999年には男女共同参画社会基本法が制定され、家庭でも職場でも地域社会でも、③男女が対等に社会づくりに参画していくことが求められています。

日本政府による障害者への施策は戦後から本格的に始まりましたが、当初は障害発生の予防や施設収容等の保護に力点をおくものでした。④国際連合が1981年を国連障害者年と宣言したことを受けて、日本でも⑤障害のある人の自立と社会参画が支援されるようになりました。2013年には、障害のある人に対する差別を禁止する⑥障害者差別解消法が制定されました。

人種、肌の色、性別、性的指向、宗教、障害の有無など、あらゆる面での違いを肯定し互いに認め合うことで、新しい発想や革新のきっかけとなります。自分とは異なるものを受け入れることは簡単ではありません。しかし、「多様性と調和」を実現するために私達一人ひとりが自分のかたよった考え方を改め行動を変えていくことが、平和への着実な一歩となるのです。

問1 下線部①について、北海道ではアイヌの人たちの生活の実態を把握し、施策に反映させるために「アイヌ生活実態調査」を定期的を実施しています。

生活意識

(%)

区 分	平成29年調査	平成25年調査	平成18年調査
とても苦しい	27.1	27.3	29.7
多少困る程度	47.8	50.3	51.4
少しゆとりがある	15.8	17.7	18.3
豊かである	1.0	0.0	0.3
回答なし	8.3	4.7	0.3

不安に思っていること

(%)

区 分	平成29年調査	平成25年調査	平成18年調査
自分と家族の健康	68.9	67.9	70.5
子供たちの教育	18.4	24.4	21.2
失業のおそれ	8.6	11.8	21.9
勤め先がないこと	4.9	3.8	4.1
収入が少なく生活が不安定	45.3	43.6	45.2
住宅を改築（新築）しなければならない	16.5	19.5	19.2
その他	13.1	6.5	1.7

北海道環境生活部アイヌ政策推進局「アイヌ生活実態調査」より

(1) 上の実態調査から読み取れることとして誤っているものはどれですか。下から1つ選んで、記号で答えなさい。

(ア) 生活意識で「とても苦しい」の割合は近年減少傾向にある。

(イ) 生活意識で「とても苦しい」「多少困る程度」「少しゆとりがある」の割合がそれぞれ一番高いのは、いずれも平成18年の調査である。

(ウ) 不安に思っていることで、どの年の調査でも2番目に割合が高いのは「収入が少なく生活が不安定」である。

(エ) 不安に思っていることで、平成18年の調査と平成29年の調査を比較した時に、最も数値が変化したのは「その他」である。

(2) 住民生活の実態調査をし、必要な支援をすることは地方自治体の仕事の1つです。次のうち、地方自治体の仕事として誤っているものはどれですか。下から1つ選んで、記号で答えなさい。

(ア) 保健所の運営 (イ) ごみの収集 (ウ) 裁判所の設置 (エ) 消防

問2 下線部②について、国会に関する記述として誤っているものはどれですか。下から1つ選んで、記号で答えなさい。

(ア) 国会は衆議院と参議院の二院制がとられており、衆議院と参議院の意見が異なる場合は、衆議院の優越が認められることがある。

(イ) 国会は毎年1月に、天皇による国会の召集が行われ、通常国会が開かれる。通常国会では主に翌年度の予算についての話し合いが行われる。

(ウ) 国会は、国民による選挙で選ばれた国会議員によって構成されている。選挙は公職選挙法にもとづいて行われ、参議院では小選挙区比例代表並立制により国民の代表者が決まる。

(エ) 内閣総理大臣は国会の指名により天皇が任命する。衆議院は、現状の内閣が信用できず、行政を任せられないと考えるときには、内閣不信任の決議をすることができる。

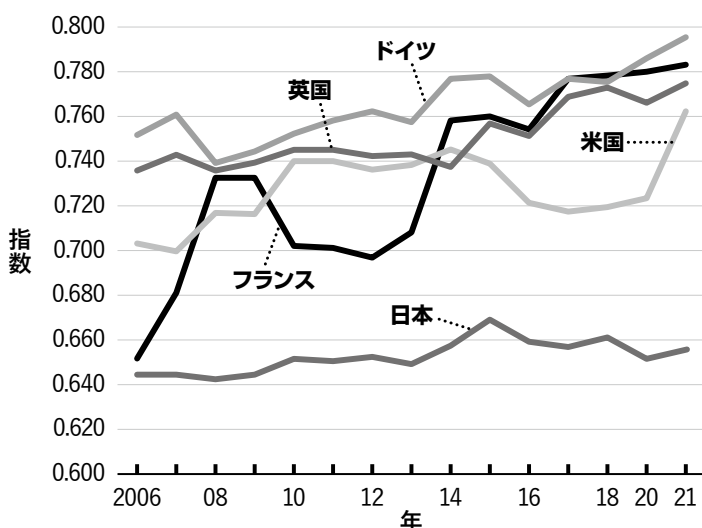
問3 文中の空欄(A)にあてはまる文章を考え、解答欄に合わせて答えなさい。

問4 下線部③について、世界経済フォーラムが2021年3月、各国における男女格差を測るジェンダーギャップ指数を公表しました。この指数は、「経済」「政治」「教育」「健康」の4つの分野のデータから作成され、0が完全不平等、1が完全平等を示しています。

ジェンダーギャップ指数(2021)
上位国及び主な国の順位

順位	国名	値	前年値	前年からの 順位変動
1	アイスランド	0.892	0.877	—
2	フィンランド	0.861	0.832	1
3	ノルウェー	0.849	0.842	—1
4	ニュージーランド	0.840	0.799	2
5	スウェーデン	0.823	0.820	—1
11	ドイツ	0.796	0.787	—1
16	フランス	0.784	0.781	—1
23	英国	0.775	0.767	—2
24	カナダ	0.772	0.772	—5
30	米国	0.763	0.724	23
63	イタリア	0.721	0.707	13
79	タイ	0.710	0.708	—4
81	ロシア	0.708	0.706	—
87	ベトナム	0.701	0.700	—
101	インドネシア	0.688	0.700	—16
102	韓国	0.687	0.672	6
107	中国	0.682	0.676	—1
119	アンゴラ	0.657	0.660	—1
120	日本	0.656	0.652	1
121	シエラレオネ	0.655	0.668	—10

主要5か国のジェンダーギャップ指数の比較



各分野における日本のジェンダーギャップ指数

分野	指数	前年の指数
経 済	0.604	0.598
政 治	0.061	0.049
教 育	0.983	0.983
健 康	0.973	0.979

2021年の日本の総合指数は0.656、順位は156か国中120位（前回は153か国中121位）でした。前回と比べて、指数、順位ともに、ほぼ横ばいとなっており、先進国の中で最低レベル、アジア諸国の中で韓国や中国、ASEAN諸国より低い結果となっています。ジェンダーギャップ指数の順位を上げるために、日本社会ではどのような取り組みが必要ですか。「経済」「政治」「教育」「健康」の中から特に改善が必要だと思う分野を1つ選び、それを選んだ理由と、必要な改善策を説明しなさい。

問5 下線部④について、国連に関する記述として誤っているものはどれですか。下から1つ選んで、記号で答えなさい。

- (ア) 総会はすべての加盟国で構成され、世界のさまざまな問題を話し合い、宣言や条約などを決議する。主権平等の原則にしたがって、国の規模や経済状況に関わらずすべての加盟国が平等に1票の投票権を持っている。
- (イ) 安全保障理事会は5か国の常任理事国と、10か国の非常任理事国で構成され、侵略などの平和をおびやかす行動をとった国に対して制裁を決定することができる。原則、全会一致の賛成で決議が行われる。
- (ウ) 経済社会理事会は、経済、社会、文化、環境、人権などの分野でそれぞれ専門機関をもち、国際協力を推進する取り組みを行っている。WHOは専門機関の1つで、新型コロナウイルス感染症対策の各国間の調整や指導の役割を担っている。
- (エ) 国際司法裁判所は、国際法に従って国家間の紛争を解決する国連の司法機関である。国際司法裁判所は個人や企業などの訴えを処理することはできず、戦争犯罪行為や人道に対する罪で起訴された個人を裁くことはできない。

問6 下線部⑤について、障害のある人や高齢者、外国人など、多様な人々が利用しやすいような都市や生活環境のデザインを何とといいますか。答えなさい。

問7 下線部⑥について、障害者差別解消法では障害者が障害を持たない人と同じことができるように、負担が重すぎない範囲で個々に対応する「合理的配慮」が定められています。合理的配慮の例としてふさわしくないものはどれですか。下から1つ選んで、記号で答えなさい。

- (ア) 障害のある人はコミュニケーションが苦手な人が多い傾向があるので、顧客や同僚との関わりの少ない作業をする部署に配置する。
- (イ) 身体に障害のある子どもが地元の公立小学校で学ぶことができるよう、段差があるところにスロープを設置したり、車椅子でも入れるトイレを設けたりする。
- (ウ) 障害がある人でも、学校の入学試験や就職のための入社試験が受けられるよう、音声や点字による試験も実施する。
- (エ) 読み書きに困難がある人でも、拡大教科書やタブレット、音声読み上げソフトを利用して学校の授業を受けられるようにする。

問 8 次の文章は、個人の尊重について定めた日本国憲法第 13 条の条文です。【 】にあてはまる語句は何ですか。答えなさい。

すべて国民は、個人として尊重される。生命、自由及び幸福追求に対する国民の権利については、【 】に反しない限り、立法その他の国政の上で、最大の尊重を必要とする。

以上

