

2022 年度 大妻中野中学校 第 1 回アドバンスト入試

(2 月 1 日午前 問題用紙)

社 会

受験上の注意

- (1) この問題用紙は表紙を含めて 11 ページあります。
- (2) 試験開始後ただちにページ数を確認してください。
- (3) 問題用紙・解答用紙それぞれに受験番号と座席番号と氏名を忘れずに記入してください。
受験番号と座席番号は算用数字で記入してください。
- (4) 試験時間は 30 分です。
- (5) 解答は全て解答用紙に記入してください。
- (6) この試験は 50 点満点です。

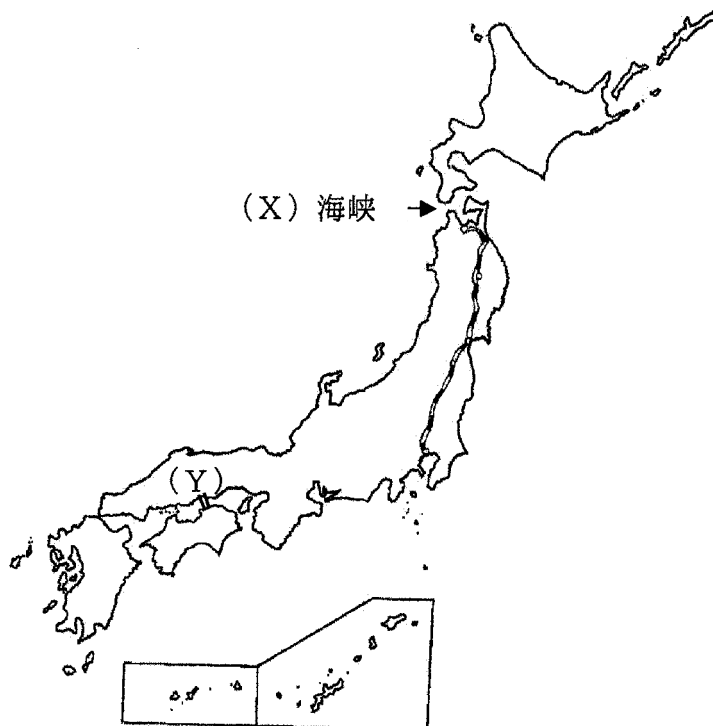
受験 番号					番	氏名	
座席 番号					番		

1 次の文章をよく読んで、後の問いに答えなさい。

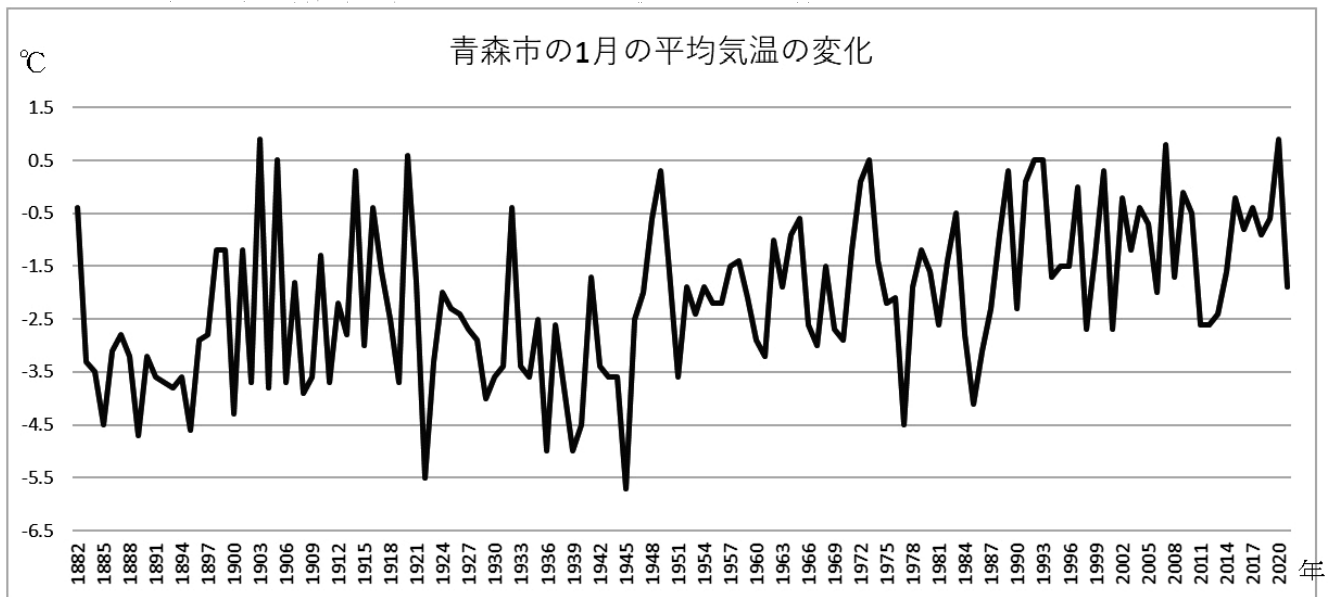
♪上野発の夜行列車 おりた時から ①青森駅は 雪の中
北へ帰る人の群れは 誰も無口で 海鳴りだけをきいている
私もひとり 連絡船※に乗り こごえそうな 鷗 見つめ
泣いていました ああ (X) 海峡 冬景色

※「連絡船」とは本州と北海道など、海で隔てられている鉄道の線路を結ぶ（連絡）する目的で設けられた航路である。実際、本州と北海道を結ぶ連絡船は船内にも線路が敷かれ、鉄道ごと輸送していた。

これは1977年にヒットした曲の歌詞です。当時、②上野と青森の間には多くの夜行列車が走っていました。青森から③連絡船に乗り、(X) 海峡を越えてさらに北を目指す人もいました。しかし現在、上野と青森の間には夜行列車は1本も走っていません。1982年には東北新幹線が開業し、④東北地方への所要時間は大幅に短縮されました。1988年には青函トンネルが開通し、北海道へ行くのに連絡船を使う人々は少なくなり、さらに2016年には新幹線で東京から新函館北斗までつながりました。上記で紹介した歌がヒットしてから45年が経過した今、東北地方は交通網が発達し、生活していくうえでも便利になったのは間違いありません。しかし、⑤東北地方の人口は減少が続いています。人口減少が止まらないのは、さまざまな地域格差があるからだともいわれています。最初に紹介した曲の歌詞からも、明るいイメージというよりは東北の寒くて暗いイメージが伝わってきます。しかし近年は、⑥東北地方の魅力を発掘し、さまざまな課題を解決していこうと積極的に地域で活動する若い人たちも増えてきています。「だれひとり取り残さない世界を目指して」というSDGs目標は決して発展途上国のみに向けられるものではなく、その目標の通り、すべての人々、すべての地域の課題に向けられた目標です。SDGsの視点で日本の身近な地域の課題にも気づき、関心を抱いていけるようにみなさんがなってくれるとうれしいです。



- 問1 文中の下線部①について、近年は地球温暖化による気候変動がよく話題に上がり、2021年には真鍋叔郎さんが気候変動研究でノーベル物理学賞を受賞しました。下のグラフは青森市の1月の平均気温の推移を示しています。このグラフから読みとれる青森市の冬の気候について誤っているものはどれですか。1つ選んで記号で答えなさい。



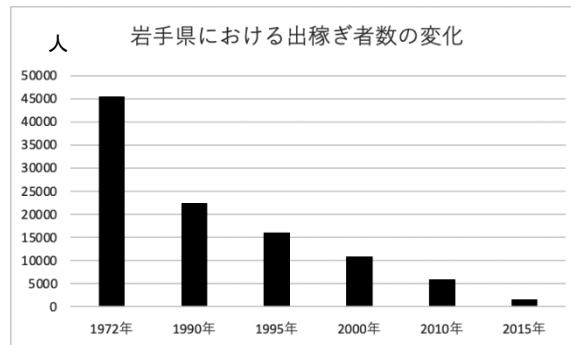
気象庁資料により作成

- (ア) グラフを見ると、急激に温暖化するのではなく、平均気温は上がったたり下がったりを繰り返している
- (イ) 1900年から1915年までの平均気温の平均と、2005年から2020年までの平均気温の平均を比べると、2005年から2020年の平均気温の平均のほうが低い
- (ウ) 1月の平均気温が最も高い年と最も低い年の差は5℃以上ある
- (エ) 2000年以降は、1月の平均気温が-3.5℃以下になっている年はない
- 問2 文中の空欄（ X ）に入る語句を漢字で答えなさい。（地図中のXと歌詞中のX、および文中の空欄Xはすべて同じ語句が入る）

問3 文中の下線部②について

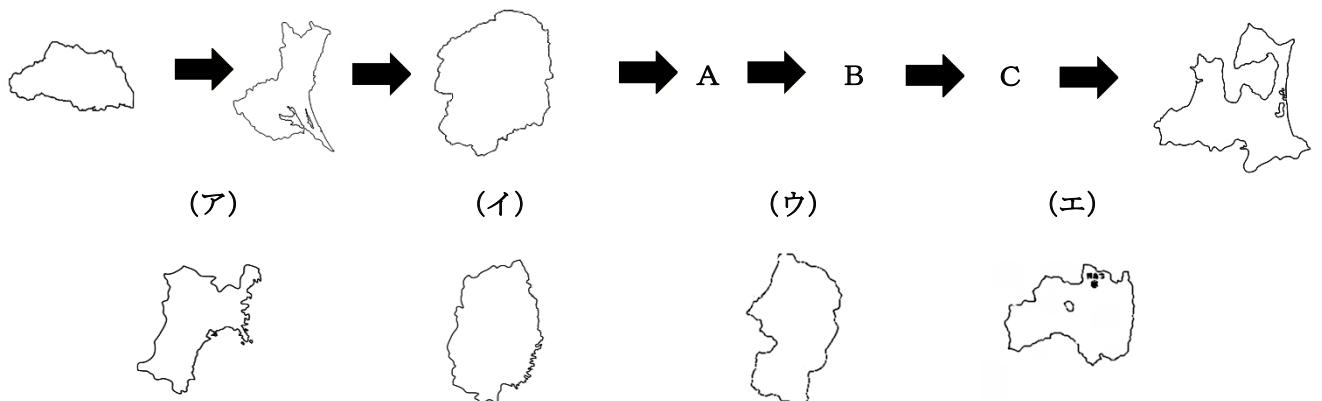
- (1) 「ふるさとの 訛りなつかし停車場のひとごみの中に そ＊を聴きにゆく」 これは岩手県出身の石川啄木がよんだ短歌です。「停車場」は、東北地方へ帰る人がよく利用した上野駅を表現しているといわれています。昔は冬の農業のできない時期に、都市部へ出て仕事をする「出稼ぎ」に行く人が多くおり、駅で方言を耳にして故郷を懐かしむ様子が歌われています。近年、「出稼ぎ」に行く人は下のグラフのように大幅に減少しています。出稼ぎ者数の減少理由について調べようとしているさゆりさんのとった行動の中で誤っているのはどれですか。下から1つ選んで、記号で答えなさい。

※「そ」とは、「それ」を意味している。



岩手県商工労働観光部雇用対策・労働室資料より作成

- (ア) さゆりさんは岩手県の企業数の変化が関係しているのではないかと考え、統計を使って岩手県にある企業数を調べてみた
- (イ) さゆりさんは岩手県に暮らす働く人々(15～65歳未満)の人口の変化が関係しているのではないかと思い、統計を使って岩手県の15～65歳未満人口を調べてみた
- (ウ) さゆりさんは近年、在宅ワークが進んでいるのではないかと考え、統計を使ってオンラインを利用して仕事をしている人の数の変化を調べてみた
- (エ) さゆりさんは冬に東京に観光に行く人が増えたのではないかと考え、統計を使って東京の観光客数を調べてみた
- (2) 上野から青森まで地図中のルートで電車に乗って行ったとき、通過する順はどのようになりますか。下のA～Cに当てはまる都道府県を選択肢より選んで、記号で答えなさい。(白地図はすべて北を上に表示している。また、縮尺は一定ではない)

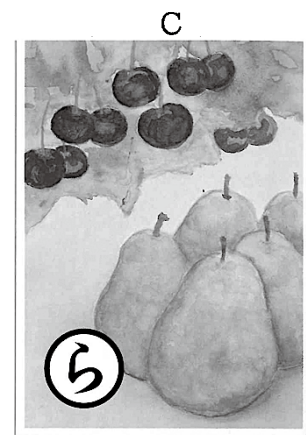



問4 文中の下線部③について、連絡船がほかの交通手段に置きかわった例として、地図中（Y）に示した本州四国連絡橋の1つである瀬戸大橋があります。瀬戸大橋は何県と何県を結んでいますか。下から1つ選んで記号で答えなさい。

（ア）岡山県と香川県 （イ）岡山県と愛媛県

（ウ）広島県と香川県 （エ）広島県と愛媛県

問5 文中の下線部④について、下の絵札は47都道府県を絵札にした地理かるたのうち、東北地方のある県の絵札です。この絵札の読み札の空欄部分に入る語句の正しい組み合わせはどれですか。下から1つ選んで、記号で答えなさい。



全国地理教育学会編 「日本地理かるた」より引用

A：「ブナ林は （ ）白神 世界遺産」

B：「目を見張る （ ）仙台 七夕祭り」

C：「ラフランス さくらんぼ実る （ ）県」

（ア）A：秋田 B：宮城 C：山形

（イ）A：岩手 B：福島 C：秋田

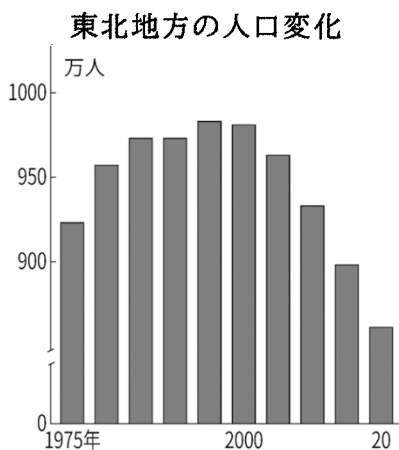
（ウ）A：福島 B：秋田 C：宮城

（エ）A：山形 B：宮城 C：福島

（オ）A：岩手 B：福島 C：山形

（カ）A：宮城 B：秋田 C：岩手

問6 文中の下線部⑤について、下のグラフは東北6県の人口の変化を示しています。交通網が整備されて便利になってきているにもかかわらず、都市部への人口流出が止まらない状況が続いています。都市部への人口流出の要因として適していないものはどれですか。下から1つ選んで記号で答えなさい。



(出所)総務省国勢調査

2021年6月25日 日本経済新聞記事より

(ア) 賃金の格差 (イ) 持ち家率の格差 (ウ) レジャー施設数の格差

(エ) 大学数の格差

問7 文中の下線部⑥について、ふじこさんは青森県にある「Z」という会社に興味を持ち、この会社が貢献しているSDGs目標について調べてみようと思いました。調べる過程でふじこさんは下のような表を作成し、3つのSDGs目標を選びました。そのうち13番のSDGs目標を選んだ理由は何だと思われますか。次のページにあるこの会社の【ホームページより抜粋】を参考にしながら選んだ理由について説明しなさい。

SDGs 目標	選んだ理由
11 住み続けられるまちづくりを 	町の雇用にもつながっていると思うから。
12 つくる責任 つかう責任 	厳しい品質基準を自ら設定しているから
13 気候変動に具体的な対策を 	

【ホームページより抜粋】

当社の醤油は、2017 年、2018 年と 2 年連続で「食の 3 重丸」の認定を受けたお醤油です。「食の 3 重丸」とは、国産農産物の自給率向上・環境負荷軽減・食の安心・安全を主な目的に「一般財団法人 雑穀技術研究所」が主催する利益追求を目的としない社会貢献活動（公益事業）です。

独自に定めた厳しい審査により、「日本産」、「安心」、「おいしさ」をすべて満たした製品だけが「食の 3 重丸」認定製品として推奨されるので、生産者にとって非常に名誉なことである一方、消費者の皆様安心してお求めいただけます。

原材料名	大豆（青森県産）、小麦（青森県産）、食塩
内容量	360ml/1L
賞味期限	製造から 1 年（開封前）
保存方法	直射日光を避け常温で保存

② 次の文章をよく読んで、後の問いに答えなさい。

東京オリンピックの開会式では日本のゲーム音楽が、競技中にはアニメ（以下日本型アニメーションを「アニメ」とします）の音楽が、閉会式では①2020年に爆発的なヒットを記録した『鬼滅の刃』の音楽が流れ大きな反響がありました。まさにゲームやアニメ、マンガといった文化が世界に広がっていることを実感させるものでした。家庭にゲーム機が普及したのは1980年代です。家庭では家族でテレビが見られ、そのテレビでゲームを楽しむようになりました。また②パソコンゲームも人気で歴史に関するシミュレーションゲームが多くつくられました。

マンガは戦前にもありましたが、とくに戦後は子どもたちに夢を与え、復興の支えにもなりました。週刊誌や月刊誌といった紙の雑誌で連載作品がつくられましたが、1960年代に入るとテレビの普及とともに、日本で最初の連続アニメである『鉄腕アトム』が放送されました。「アトム」は（あ）が描いた少年型のロボットで、超高層ビル群を飛びまわり、人間と同じような感情をもつ存在として、お茶の間の話題になりました。またアニメは長編映画としても作成されるようになり、1980年代には③『ドラえもん』の長編映画や④スタジオジブリの作品などの新作映画が続々と公開され現在でも人気となっています。身近なものとなったアニメは、⑤教育を目的とするものにも広がっていますし、さらに日本のアニメは世界で上映、放送されるようになりました。そこで政府はゲームや音楽などとともに「コンテンツの創造、保護及び活用の促進に関する法律」で、世界的な産業としてアニメを保護するようになっていきます。世界のアニメ界をリードする日本では、⑥さまざまな世代に向けたアニメが多くつくられるようになり、コンピューターグラフィックス（CG）の進化とともに小説を題材にした作品の映像化が進み、アニメやゲームの世界のキャラクターを利用したミュージカルなども行われています。

問1 文中の空欄（あ）に入る人物は誰ですか。下から1つ選んで、記号で答えなさい。

（ア）手塚治虫 （イ）立川談志 （ウ）湯川秀樹 （エ）岡本太郎

問2 下線部①について、『鬼滅の刃』の舞台設定は日本の大正時代です。この大正時代には鬼や悪魔によって病気が引き起こされるという考えが薄れ、病気の治療のためにウイルスや菌を調べることが本格化しました。ドイツで医学の研究を重ね、破傷風の治療法を発見し、帰国後に伝染病研究所をつくり多くの医学者を育てた人物がいます。2024年からの新千円札の肖像ともなっているこの人物は誰ですか。答えなさい。

問3 下線部②について、人気のあるゲームの1つに『信長の野望』があり、全国の大名や武将などの立場で、戦国時代をシミュレーションするゲームです。


（1）織田信長は家臣によって1582年に殺害されますが、この事件を歴史上何といいますか。答えなさい。

（2）（1）の際、織田信長に忠誠を尽くして戦った人物には、アフリカ出身の外国人で弥助という名がつけられたものがいたといわれています。どうして、この人物が日本にいたと考えられますか。答えなさい。

問4 下線部③について、『ドラえもん』で恐竜を扱った作品では、日本列島が大陸と陸続きであった時代が描かれています。日本列島が今のように大陸と完全に離れ、暖かくなった時代はいつですか。下から1つ選んで、記号で答えなさい。

- (ア) 先土器時代 (イ) 縄文時代 (ウ) 弥生時代 (エ) 古墳時代

問5 下線部④について、スタジオジブリ作品の1つに『もののけ姫』があります。この作品の舞台は室町時代頃の日本といわれ、右の資料のようなシーンがあります。
この様子は右下の資料の方法をもとに描かれたものと考えられます。右下の資料でつくられたものを材料とするものは何ですか。下から1つ選んで、記号で答えなさい。



- (ア) 花瓶などの陶磁器
(イ) 仏像などの銅製品
(ウ) お椀などの塗り物
(エ) 包丁などの鉄製品

問6 下線部⑤について、歴史の教材となるような作品はマンガやアニメ、CGなどを利用してたくさんつくられてきました。『ねこねこ日本史』という作品は「ねこねこ日本」という国の歴史という設定で描かれ、多少史実と異なる点をいれることで猫のキャラクターを生かし、小学生の好感度も高い作品です。この作品の中のキャラクターのうち、晩年の平清盛をイメージしてつくられたと考えられるものはどれですか。下から1つ選んで、その記号を答え、そう考えた理由も書きなさい。

(ア)



(イ)



(ウ)



(エ)



問7 下線部⑥について、『ちはやふる』という作品もマンガ、アニメ、実写映画へとコンテンツを変えた作品です。この作品の題名のもととなった「ちはやふる 神代も聞かず 竜田川 からくれなゐに 水くくるとは」という和歌をのこした在原業平は、六歌仙の1人です。六歌仙の歌などがのる、紀貫之らによって編さんされたものは何ですか。答えなさい。

③ 次の文章をよく読んで、後の問いに答えなさい。

2021年7月から8月まで開催された①東京オリンピック・パラリンピックは初の延期、無観客開催となるなど、異例の大会になりました。大会が開かれた東京都は、新型コロナウイルス感染症の感染拡大に影響しているという理由で、飲食業に酒類の提供をひかえるように要請するなど、経済活動に制限を加えました。さらに一般の人に対しても夏休みやお盆休みに、帰省や旅行など県をまたいだ移動をしないように要請しました。しかしなかなか感染者が減らずに、緊急事態宣言の延期、再延期などが繰り返されたことで、飲食店は大打撃を受け、子どもたちが楽しみにしていた行事も中止・延期されました。

一方で②医療にもさまざまな影響がみられました。わが国には国民の生活環境の諸条件を健康の観点から整備、保全する公衆衛生という③社会保障のしくみがあります。その中で特に食品衛生や結核予防、伝染病予防など国民の健康維持、増進をはかることを役割とするものが、各地域にある（あ）です。

新型コロナウイルス感染症による問題を抱えたなか、2021年10月31日には④衆議院議員総選挙が実施されました。選挙後の世論調査をみると、新型コロナウイルス感染症対策をはじめ経済再生や外交問題など幅広い要望が新政府に求められていることが分かりました。しかし実際の選挙では投票率が低かったことから国民の政治への期待が低いことが伺えます。国民が期待する政策を実現するために、公約を果たし国民に寄り添っていく姿勢が、⑤総理大臣や国務大臣、知事、議員には求められています。

問1 文中の空欄（あ）に当てはまる機関はどれですか。下から1つ選んで、記号で答えなさい。

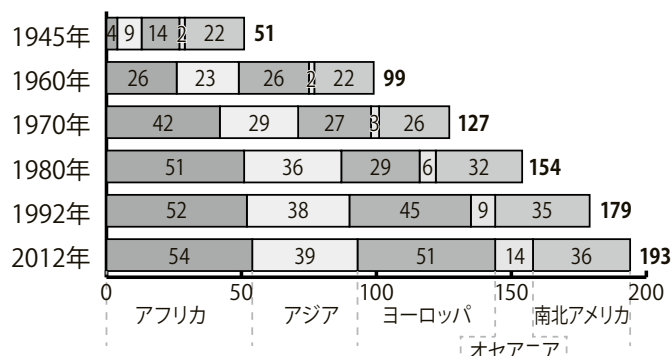
- （ア）ハローワーク （イ）保健所 （ウ）消費者センター （エ）消防署

問2 下線部①について、

（1）次回の夏季オリンピック・パラリンピックが行われる都市はどこですか。下から1つ選んで、記号で答えなさい。

- （ア）パリ （イ）アテネ （ウ）サンフランシスコ （エ）キャンベラ

（2）東京大会に参加した多くの国は国際連合にも参加しています。現在国際連合の加盟国は190か国以上にのぼります。1945年には51か国だった加盟国がここまで多くなった要因は何だと考えられますか。グラフを参考にしながら説明しなさい。



<「国連加盟国加盟年順序」国連広報センターより作成>

問3 下線部②について、新型コロナウイルス感染者が増えてくると医療現場にどのような影響が出てくると考えられますか。具体例を挙げて説明しなさい。

問4 下線部③について、社会保障のしくみを支える4つの柱には文章中に出てくる公衆衛生の他、社会福祉、社会保険があります。あと1つ、生活に困っている人に生活費などを支給するしくみ（生活保護）を何といいますか。漢字で答えなさい。

問5 下線部④について、

（1）この選挙では、小選挙区比例代表並立制によって議員が選ばれています。この選挙では、有権者が投票所に行き、2種類の投票用紙を受け取ります。この2枚の投票用紙には、何と何を記入しますか。答えなさい。

（2）2022年の7月にはもう1つの議院である参議院議員選挙がおこなわれます。参議院議員選挙は何年に1回おこなわれますか。答えなさい。

問6 下線部⑤について、現在の内閣総理大臣は誰ですか。氏名を答えなさい。

以上

