

# 2020 年度 大妻中野中学校 第 1 回アドバンスト入試

(2 月 1 日午前 問題用紙)

## 社 会

### 受験上の注意

- (1) この問題用紙は表紙を含めて 11 ページあります。
- (2) 試験開始後ただちにページ数を確認して下さい。
- (3) 問題用紙・解答用紙それぞれに受験番号と座席番号と氏名を忘れずに記入してください。  
受験番号と座席番号は算用数字で記入してください。
- (4) 試験時間は 30 分です。
- (5) 解答は全て解答用紙に記入してください。
- (6) この試験は 50 点満点です。

受験 番号	番	氏名	
座席 番号	番		



1 次の文章をよく読んで、後の問いに答えなさい。

今年はいよいよ東京でオリンピック・パラリンピックが開催されます。オリンピックは世界的なスポーツの祭典で、世界各国から大勢の観光客が日本を訪れるでしょう。

日本が東京にオリンピックを誘致する際、「おもてなし」という言葉でアピールしました。日本には「茶道」という文化があり、①お茶でおもてなしをしてきた歴史があります。千利休は、茶室では武士も農民も対等であると考え、身分に関係なく同じ客人としてもてなすというところから、日本のおもてなし文化が根付いていったという考え方もあります。

「おもてなし」のほかに日本が世界に誇れるものは何でしょうか。日本は長らく「ものづくり」の日本として様々な②工業製品の質の高さを誇っていました。また、最近では、日本の③食べ物や様々な文化に興味を持つ外国人も多くなっています。そして、日本の④観光地を訪れる外国人観光客の数も、増加しています。

オリンピックは、世界のグローバル化が進む中、日本の特徴やよいところを私たちが再認識し、日本の価値観を世界に広める絶好の機会であるともいえるでしょう。

問1 下線部①について、

- (1) 下の表のうち、お茶の生産割合を示すものはどれですか。下から1つ選んで、記号で答えなさい。

ピーマン・ぶた・さつまいも・茶の都道府県別生産割合 (%)

(ア)		(イ)		(ウ)		(エ)	
A	36.2	茨城県	23.6	静岡県	40.0	A	13.6
茨城県	20.3	宮崎県	19.1	A	28.6	宮崎県	9.0
千葉県	12.9	高知県	9.0	三重県	8.6	千葉県	7.2
宮崎県	10.4	A	8.5	宮崎県	4.6	群馬県	6.8
福島県	5.2	岩手県	5.1	京都府	4.0	北海道	6.5

農林水産統計資料 (2015 年) より作成

- (2) 上の表の空欄 A に共通して入る県の形はどれですか。下から1つ選んで、記号で答えなさい。

(地図の縮尺は一定ではない)

(ア)



(イ)



(ウ)




(エ)



- (3) 茶畑の地図記号は、お茶の実を輪切りにした断面のかたちを記号にしたものです。地図記号は、その土地に植えられているものや建物に関する特徴的なものがもちいられていることが多いです。下の写真うち、地図記号の由来となっていないものはどれですか。下から1つ選んで、記号で答えなさい。

例) 茶の実



(ア)



(イ)



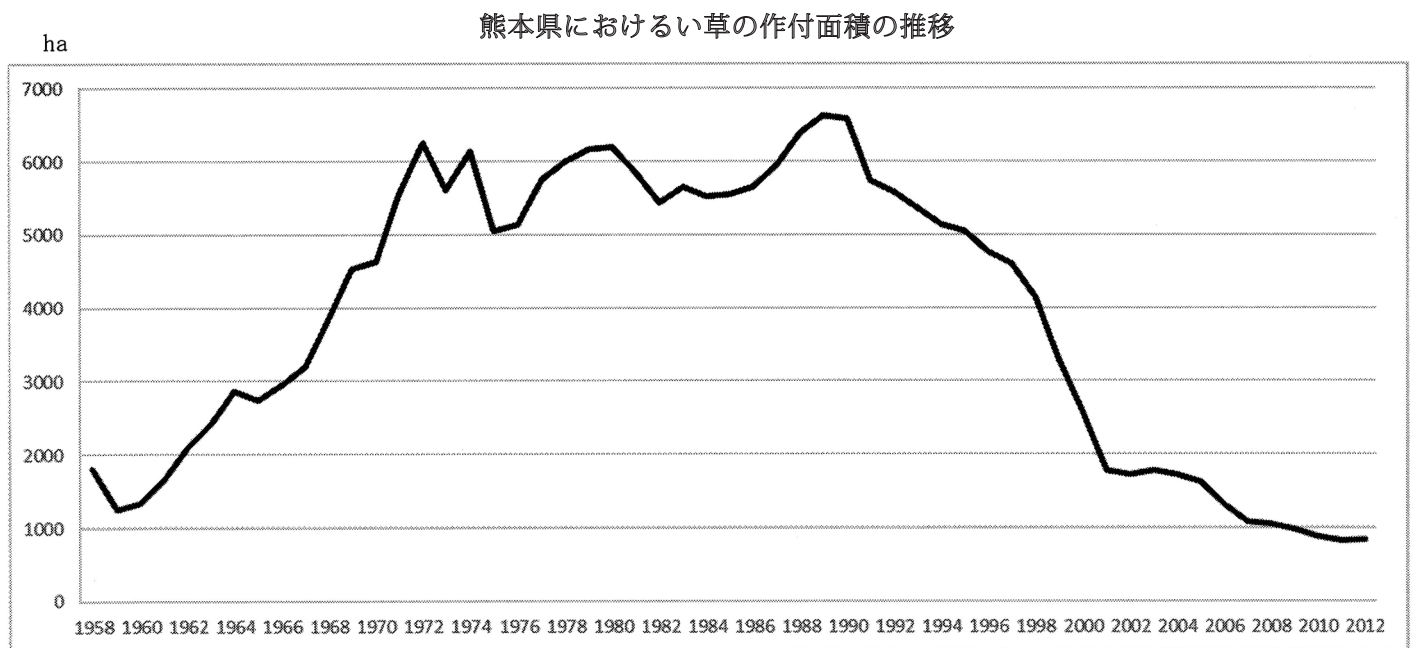
(ウ)



(エ)

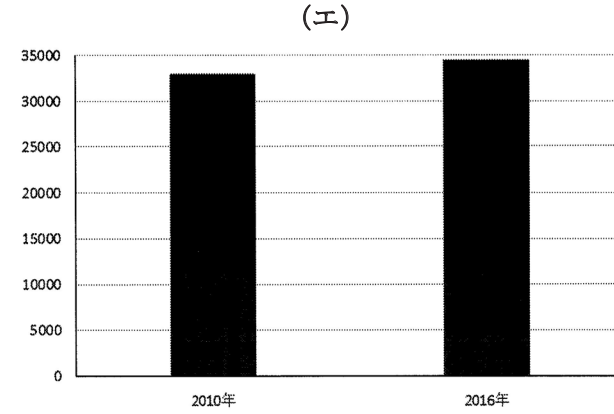
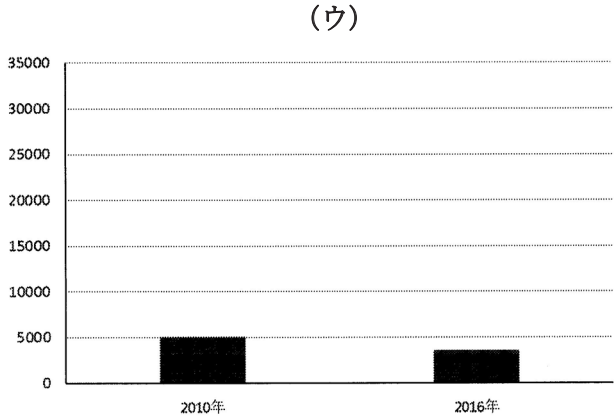
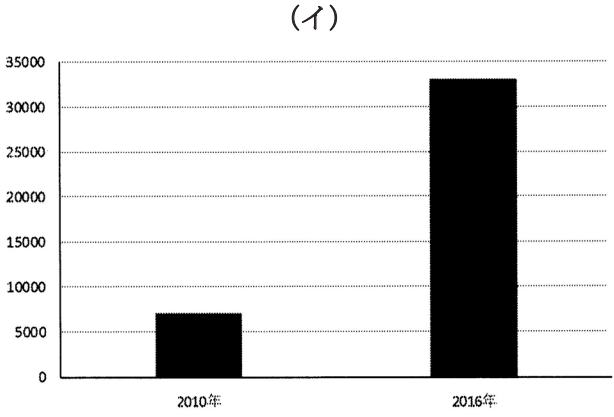
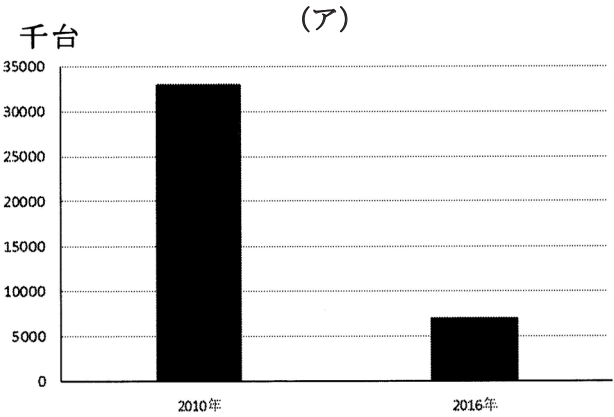


- (4) お茶は農作物の分類では、「工芸作物」に分類されます。下のグラフは、同じ工芸作物であるい草の生産がさかんな熊本県のい草の作付面積の推移を表しています。このグラフから、どのような特徴が読み取れますか。読み取れる特徴とその変化の要因として考えられることを、日本の生活様式と関連させて説明しなさい。



農林水産省作物統計より作成 年

問 2 下線部②について、下のグラフのうち、日本のデジタルカメラの生産台数の変化を示しているグラフはどれですか。下から 1 つ選んで、記号で答えなさい。



日本国勢図会より作成

問 3 下線部③について、日本では近年、「地産地消」が注目されています。下の統計資料に示された農作物の生産量第 1 位の都道府県に暮らす 4 人の中学生が、それぞれ第 1 位の農畜産物を使って料理や飲み物を作りました。次のうち食材と料理の正しい組み合わせはどれですか。最も適するものを下から 1 つ選んで、記号で答えなさい。

表 ある農作物の生産量上位の都道府県

	①	②	③	④
第1位	北海道	群馬県	和歌山県	熊本県
第2位	長崎県	愛知県	愛媛県	北海道
第3位	鹿児島県	千葉県	静岡県	茨城県
第4位	茨城県	茨城県	熊本県	愛知県
第5位	千葉県	神奈川県	長崎県	千葉県

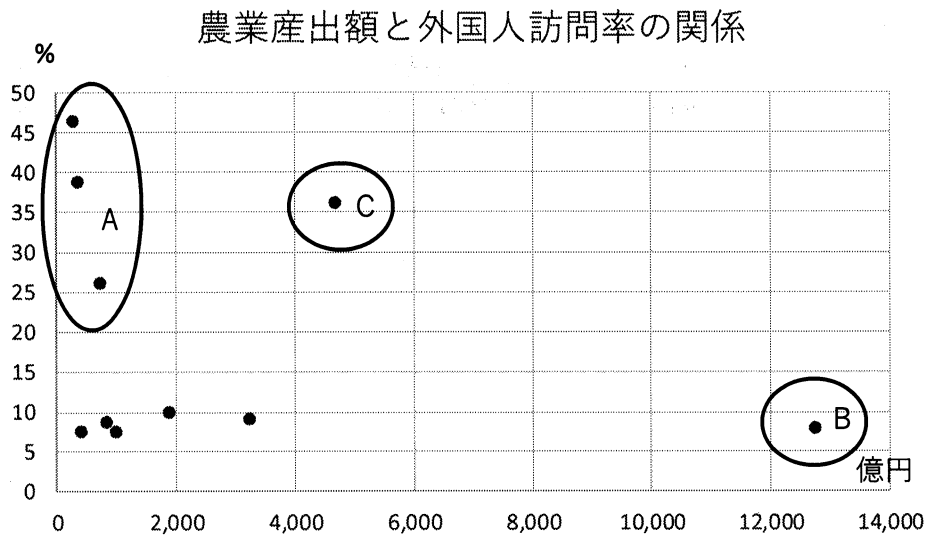
農林水産省作物統計より作成

- (ア) 私は①の食材を使って肉じゃがを作りました。
- (イ) 私は②の食材を使ってトマトジュースを作りました。
- (ウ) 私は③の食材を使ってロールキャベツを作りました。
- (エ) 私は④の食材を使ってフルーツジュースを作りました。

※「地産地消」とは、地域で生産されたものを、その地域で消費すること。

問 4 下線部④について、下のグラフは外国人訪問者の多い都道府県上位10か所の訪問率（縦軸）と各都道府県の農業生産額（横軸）を示しています。このグラフから読み取れる内容として誤っている文章はどれですか。下から1つ選んで、記号で答えなさい。

※上位10か所は、北から北海道、東京都、千葉県、神奈川県、山梨県、京都府、大阪府、奈良県、福岡県、沖縄県である。



日本政府観光局および農林水産省生産農業所得統計より作成

- (ア) グラフ中Aグループは大都市の東京都・大阪府・京都府と判断できる。
- (イ) グラフ中Bは北海道であると判断できる。
- (ウ) グラフ中Cは千葉県であるが、訪問者が多いのは、日本を代表するテーマパークがあるからだと考えられる。
- (エ) グラフ中Aグループの訪問率合計は、ほかの7都道府県の訪問率合計より少ない。

2 次の文章をよく読んで、後の問いに答えなさい。

私たちの国は海や川といった水辺が多く、水とともに歩んできました。

稲作が開始された①弥生時代の遺跡では掘りぬいた井戸やわき水をためて作られた共同水路が見つかっています。豊かな土地と水源を持ったムラはますます豊かになり、ムラ内部では身分のちがいが生まれていきました。その中で生まれたヤマト政権は、治水工事の役割も担ったといえます。

仏教は入浴の習慣を日本にもたらしめました。また温泉には神話などの伝説も多くあり、②日本の古い時代を記した歴史書や歴史物語にも日本人の入浴の歴史を見ることができます。鎌倉時代に時宗を開いた（あ）などの僧侶が社会事業の一環として貧しい人々や病人などに浴室を開放したことなどにより、入浴が一般化していったといわれます。

長く都があった平安京は水が豊かな場所でした。そのため、③貴族の屋敷の中には池が設けられてりしていましたが、水にめぐまれなかった鎌倉では、水がわき出る井戸は貴重な水源だったので、水の争いを防ぐために井戸は寺社によって守られていました。

室町時代になると、多くの地域で水路がつくられ住居の近くまで水が引かれるようになりました。安土桃山時代に発展した④大坂（阪）では下水道が整備されるとともに、多くの水路が掘られました。また、戦国大名であった（い）は、河川の氾濫が多かった甲府盆地に領民の協力の下で治水工事を行い、現在もその堤は残っています。

江戸時代の終わりごろから明治時代には水が問題でコレラが流行しました。⑤明治政府は初め、患者を他の人から引き離し消毒をおこなうことでコレラを減らそうとしましたが流行は止まりませんでした。そこで、欧米の学者や日本の学者の意見を入れて、流行を食い止めていきました。

戦後では日本の四大公害病のうち「水俣病」「新潟水俣病」「イタイイタイ病」は水が汚染されたことで起こった悲劇でした。このため、1967年に（う）が制定されました。

問1 文中の空欄（あ）～（う）にあてはまる語句を答えなさい。

問2 下線部①について、弥生時代の遺跡に関する説明として誤っている説明はどれですか。下から1つ選んで、記号で答えなさい。

（ア）登呂遺跡では高床倉庫や住居跡が見られ、矢板を打ち込んで作ったあぜ道や水路も発見されています。

（イ）吉野ヶ里遺跡では大規模な環濠集落が見られ、後期には物見やぐらも置かれていたことがわかります。

（ウ）唐古・鍵遺跡では木製農具や植物性遺品が出土し、高床式の建物群も存在していたことがわかります。

（エ）岩宿遺跡では石包丁や炭化米などとともに、最古級の水田跡も見つかり、環濠集落の様子も見られます。



問3 下線部②について、下の日本の歴史書、歴史物語を時代順に並べ替えたとき、3番目に来る歴史書・歴史物語はどれですか。下から1つ選んで、記号で答えなさい。

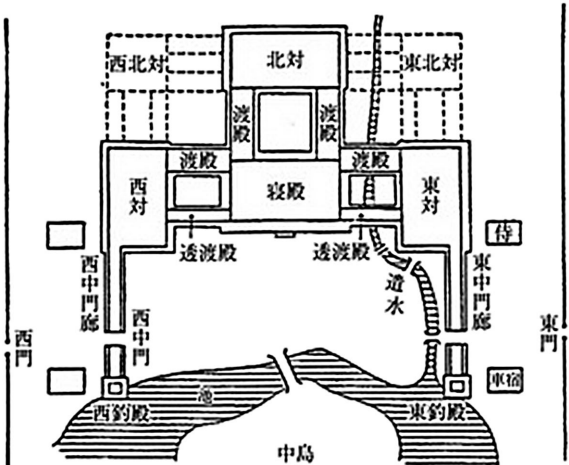
(ア)『太閤記』

(イ)『平家物語』

(ウ)『日本書紀』

(エ)『太平記』

問4 下線部③について、下に示したのは貴族の邸宅図の一例です。どのような特徴がありますか。考えて説明しなさい。



問5 下線部④について、

(1) 大坂（阪）城を築いた人物は誰ですか。答えなさい。

(2) 大坂（阪）の街ではどうして多くの堀がほられたと考えられますか。防衛の目的以外で答えなさい。

問6 下線部⑤について、

(1) 政府はあるものをつくることでコレラの流行を食い止めました。どのようなものをつくったと考えられますか。考えて答えなさい。

(2) コレラなどの細菌による伝染病の治療に活躍し、破傷風菌の培養や破傷風の血清療法などを発見し、伝染病研究所を創設した人物は誰ですか。下から1つ選んで、記号で答えなさい。

(ア) 渋沢栄一

(イ) 北里柴三郎

(ウ) 福沢諭吉

(エ) 野口英世

3 次の文章をよく読んで、後の問いに答えなさい。

2020 年の①オリンピック開催都市に東京が選ばれた際、海外の②メディアは「安全と治安の良さ」が選出の決め手であると報じました。以前から日本の治安の良さは海外に注目されており、政治の安定度やテロ・紛争の起きやすさなどを含めた評価である「世界平和度指数\*」では常に上位のランクに位置しています。

日本に住んでいる私たちは「安全と治安の良さ」を実際に感じているのでしょうか。③内閣府が 2017 年に実施した「治安に関する（ あ ）調査」では、「現在の日本が、治安が良く、④安全で安心して暮らせる国だと思いますか」という質問に対し、「そう思う」・「どちらかといえばそう思う」と答えた人が 80.2%にも及びました。しかし、「ここ 10 年間で日本の治安はよくなったと思いますか」という質問に対しては、「悪くなったと思う」・「どちらかといえば悪くなったと思う」と答えた人の割合は 60.8%でした。治安がよくなったと思う人は 40%に満たず、多くの人が⑤日本は安全な国だとは思いますが、治安に関しては不安を持っているというのが現状のようです。

\*世界平和度指数…イギリスの経済誌「エコノミスト」の調査機関などが調査・分析して毎年発表する、各国の平和の度合いを数値化した指数のこと。

問 1 文中の空欄（ あ ）には「世間一般の人々の考えや意見」という意味をあらわす語句が入ります。その語句はなんですか。漢字 2 字で答えなさい。

問 2 下線部①について、東京都はオリンピックを実施することで、約 32 兆円にも及ぶ経済効果が見込まれると発表しました。この経済効果につながる個人の行動や経済活動として、どのようなものが考えられますか。理由を明らかにしながら述べなさい。

問 3 下線部②について、

（1）日本では憲法で＜ A ＞の自由が保障されており、私たちはメディアなどを通して言論や出版によって自分たちの考えを発表することができます。＜ A ＞に当てはまる語句は何ですか。下から 1 つ選んで、記号で答えなさい。

（ア）学問                      （イ）職業選択                      （ウ）信教                      （エ）表現

（2）以下の文章を読んで、〔 B 〕に当てはまる語句をカタカナで答えなさい。

近年はインターネットをはじめとする様々なメディアから、多くの情報を得ることができるようになりました。しかし、発信された情報の中には不正確なものも多く見られます。そのような情報に振り回されないために、様々なメディアから発信される情報を正しく読み取る力が必要になりました。その力のことを「情報〔 B 〕」や「メディア〔 B 〕」といいます。

問 4 下線部③について、内閣府とは内閣の重要な政策に関する事務を助ける機関です。内閣を説明する文章として正しいものはどれですか。下から 1 つ選んで、記号で答えなさい。

(ア) 司法権の最高機関であり、憲法の番人とも呼ばれている。

(イ) 行政の最高機関であり、法律の執行や予算の作成などを行う。

(ウ) 日本で唯一の立法機関であることが、日本国憲法第 41 条で規定されている。

(エ) 国権の最高機関であり、三権の中で中心的な役割を担っている。

問 5 下線部④について、自衛隊の管理や運営をし、日本の平和と安全に関する業務を担当する国の行政機関を何といいますか。漢字で答えなさい。

問 6 下線部⑤について、日本は安全で安心して暮らせると多くの人が思っているのにも関わらず、なぜ治安が悪くなったと感じてしまうのでしょうか。その理由について、あなたの考えを述べなさい。

以上

