

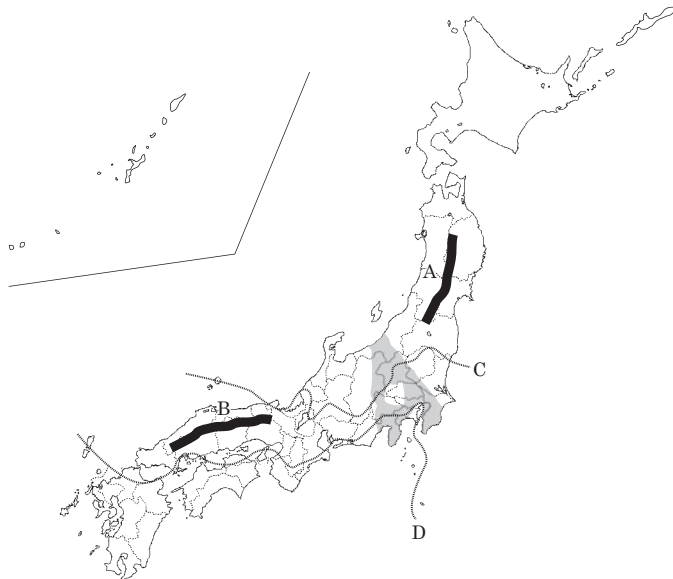
社会 (第4回)

1 次の文章をよく読んで、各問いに答えなさい。

日本の国土はおよそ4分の3が山地で、①列島の中央を背骨のように走る山脈・山地が日本海側と太平洋側に分けています。そのため、②日本海側と太平洋側とは、気候の特徴が異なります。また、国土面積に対する森林面積の割合のことを森林率といい、世界各国の平均は約30%です。日本の森林率は70%弱であり、世界の中でも森林にめぐまれた国であるといえます。

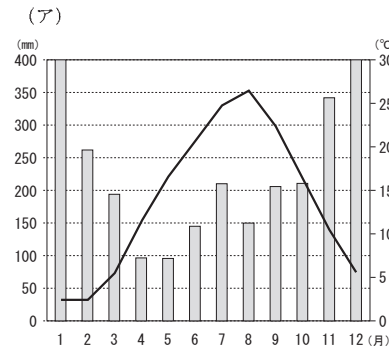
しかし近年、③地球温暖化がすすみ、世界全体の気候が変化しつつあります。日本にもその傾向はあてはまり、この100年間で年平均気温が1度以上上昇しています。わたしたち人間は、地球規模で見ると本当に小さな存在であり、特に自然災害や異常気象の前には、まったくもって無力です。いまだ記憶に新しい④2011年の東日本大震災では死傷者・行方不明者が2万人を超えました。この大災害をうけて、国は⑤災害対策基本法を一部改正して、大規模の災害に対応する力や、住民のスムーズで安全な避難、普段からの防災への取り組み強化などを打ちだしました。

山地の多い日本においては、崖崩れや土石流、地滑りの危険性の高い居住区も多く、都市部ではいわゆる「ゲリラ豪雨」に排水が追いつかず浸水してしまうこともあります。⑥自分が住んでいる地域にはどのような特徴があるかということをしきりと把握しておくことが大切です。災害を正確に予測することや回避することは絶対に不可能です。起こるであろう災害にきちんと備える「防災」と、起こったときに被害を最小限にとどめる「減災」を常に意識しておくことが、自然と共生していくためにわたしたちがしておかなければならないことなのでしょう。

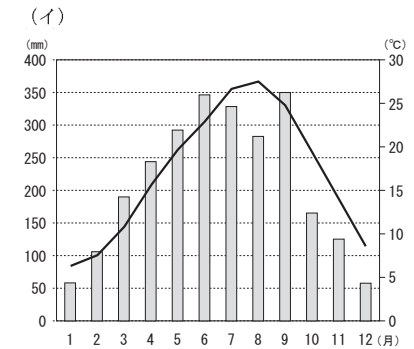


問1 下線部①について、地図中A、Bの山脈・山地名を漢字で答えなさい。

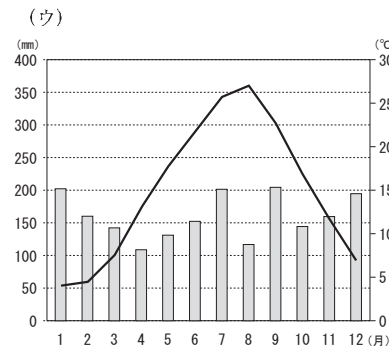
問2 下線部②について、下の雨温図は、上越、鳥取、盛岡、高知のもので、高知のものほどれですか。下から1つ選んで、記号で答えなさい。なお、棒グラフは降水量を、折れ線グラフは年平均気温を表しています。



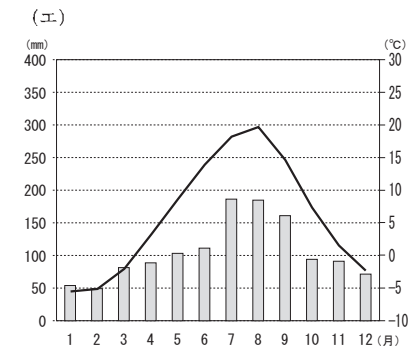
年平均気温： 13.6 °C
年降水量： 2755.3 mm



年平均気温： 17.0 °C
年降水量： 2547.5 mm



年平均気温： 14.9 °C
年降水量： 1914.0 mm



年平均気温： 10.2 °C
年降水量： 1266.0 mm

※上記のグラフは気象庁のデータをもとに作成しています。

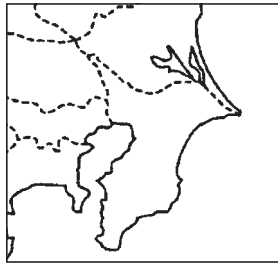
問3 下線部③について、地図中のCとDはいずれもソメイヨシノの4月1日開花ラインです。2本はそれぞれ「1961～1970年の平均的な4月1日開花ライン」と「1998～2007年の平均的な4月1日開花ライン」を示してあります。「1998～2007年」のものほどちらですか。図中の記号で答えなさい。

問4 下線部④について、日本列島は4つのプレートにまたがって存在しているため世界有数の地震多発国です。

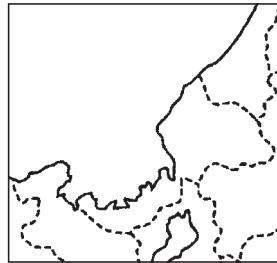
- (1) 特に、地図中の灰色部分には、地質学的に新しい時代の地層がつまっています。この地質学的な大きな溝のことを何といいますか。カタカナで答えなさい。
- (2) この大震災では津波が想定外の大きさであったため、多くの命が失われました。津波のエネルギーが高まってしまう理由の一つとして、三陸海岸が特殊な形状をしていることがあげられます。このような形状の海岸のことを何といいますか。答えなさい。

問5 下線部⑤について、この法律は、伊勢湾台風によって大きな被害が出たために制定されました。下の4つのうち、「伊勢湾」が含まれている地図はどれですか。下から1つ選んで、記号で答えなさい。なお、地図上の実線は海岸線を、点線は他都道府県との境界線をそれぞれ表しています。

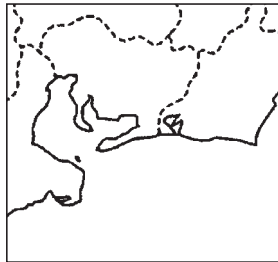
(ア)



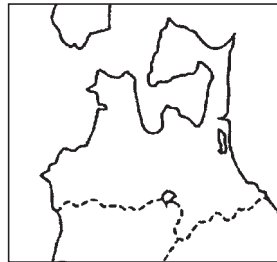
(イ)



(ウ)



(エ)



問6 下線部⑥について、(1)～(3)はそれぞれどこかの「県」の特徴を説明したものです。それぞれの県の説明をしたものですか。県名を漢字で答えなさい。

- (1) この県の北西部には世界遺産にも認定されている山地があり、世界最大級の原生的なブナの自然林が広がっている。また、この県の東部にある湖は日本一深い湖として有名である。米の収穫量は都道府県別で第3位(2013年)であり、県名のついたブランド米も有名である。
- (2) この県の東部には大きなカルデラ地形を持つ活火山がある。暖かい気候の特徴を生かして、野菜や果物、工芸作物(い草、葉たばこ)などの農業がさかんで、すいかやトマトは生産量全国1位(2011年)を誇る。県西部の海では古くから干拓事業が行われている。
- (3) 江戸時代にこの地を治めていた大名は、外様でありながら百万石を超える領地を支配した。17世紀につくられた庭園は日本三名園の一つに数えられ、この県の庁所在地にある。来月(2015年3月)にはこの県庁所在地まで新幹線が開通する予定である。県北部で生産される伝統工芸品(漆器)は有名である。

※上記の米・すいか・トマトの生産量の順位については「作物統計調査」のデータに基づいています。

2 次の文章 A～E は日本の養蚕^{もうじん}について述べたものです。文章をよく読んで、各問いに答えなさい。

A 日本が横浜を開港した頃、世界有数の①養蚕国であったフランスとイタリアで蚕^{かいこ}の病気が大流行しました。そのため日本から病気がかかっている蚕の卵が多く輸出されるようになります。やがて、②日本はヨーロッパから近代的な技術を学び、生糸や絹織物が輸出されるようになりました。

B ③ポルトガル商人はマカオを根拠地にして、中国産の生糸を長崎に運んで大きな利益をあげていました。④幕府は糸割符仲間という特定の商人らに輸入生糸をまとめて購入させ、ポルトガル商人らの利益独占を防ぎました。また、幕府は、中国からの生糸の輸入を減らすために日本国内での養蚕を奨励し、西陣や⑤桐生、伊勢崎といった絹織物の産地もできました。日本国内での生糸や絹織物の需要が大幅に増えていき、日本国内での生産量は中国からの輸入量の2倍以上になっていきました。

C 『魏志倭人伝』に「邪馬台国では養蚕をして絹織物を紡いでいた」という記録が残っており、卑弥呼は絹糸を魏に献上しました。また、『日本書紀』によれば応神天皇の時代に、渡来人の弓月君が日本に養蚕技術や機織りを伝えたという記録が残っています。弓月君の子孫は⑥秦氏となり、推古天皇の時代に秦河勝は広隆寺を建立しました。

D 日本は中国を抜いて世界一の生糸輸出国になりました。最大の輸出先はアメリカでした。しかし、アメリカから広がった世界恐慌によって生糸が売れなくなり、さらに、アメリカで生糸に代わってナイロンが開発されます。その後、安い価格で大量生産ができるさまざまな化学繊維が開発されるようになります。そして、⑦現在は日本国内でもライフスタイルの変化があり、養蚕は衰えることになりました。

E ⑧日明貿易では、明からは銅銭や生糸、陶磁器などが日本に輸入され、日本からは硫黄や刀剣、扇などが輸出されました。生糸や絹製品の多くは、明からの輸入に頼っていました。

問1 A～Eを時代の古い順に並べなさい。※3番目はBである。

問2 下線部①について、養蚕に関係の深い地図記号はどれですか。下から1つ選んで、記号で答えなさい。また、その記号が何の地図記号なのか答えなさい。

(ア) (イ) (ウ) (エ)

II △ ○ ♀

問3 下線部②について、

(1) 政府は群馬県に官営模範工場をつくりました。この工場は2014年に世界文化遺産に認定されました。この工場名を漢字で答えなさい。

(2) (1)の官営模範工場がつけられた年と同年のできごとは次のうちどれですか。下から1つ選んで、記号で答えなさい。

- (ア) 太平洋戦争がおこった。
(イ) 関東大震災がおこった。
(ウ) 富山県で米騒動がおこった。
(エ) 新橋と横浜の間に鉄道が開通した。

(3) これらの近代的な工場で採用された機械の主な動力は何ですか。下から1つ選んで、記号で答えなさい。

- (ア) 蒸気力 (イ) 原子力 (ウ) 風力 (エ) 火力

問4 下線部③について、ポルトガル人が日本に初めて来たのは1543年のことでした。この時のできごととして正しいものはどれですか。下から1つ選んで、記号で答えなさい。

- (ア) ポルトガル人は島津氏の許可を得て、キリスト教を布教することになった。
(イ) 種子島氏は漂着したポルトガル人から鉄砲を購入し、その製造法を刀鍛冶に研究させた。
(ウ) ポルトガルに植民地にされるのを恐れた豊臣秀吉によって、ポルトガル人26名は長崎で処刑された。
(エ) ポルトガル人は鎖国中であつたため捕らえられ、江戸に送られて取り調べられた。

問5 下線部④について、

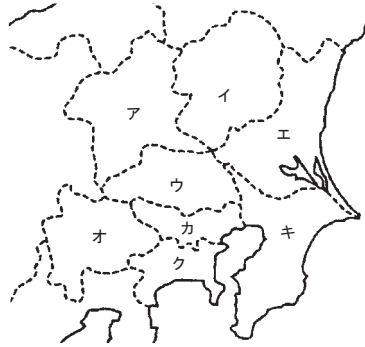
(1) この幕府について述べた文章として正しいものはどれですか。下から1つ選んで、記号で答えなさい。

- (ア) この幕府は参勤交代を制度化した。
(イ) この幕府は御成敗式目を制定した。
(ウ) この幕府は大室律令を制定した。
(エ) この幕府は建武式目を制定した。

(2) この幕府の時代には華麗な町人の文化が発展しました。このうち菱川師宣や井原西鶴、近松門左衛門、松尾芭蕉らが活躍した頃の文化を何といいますか。下から1つ選んで、記号で答えなさい。

- (ア) 飛鳥文化 (イ) 東山文化 (ウ) 元禄文化 (エ) 化政文化

問6 下線部⑤について、桐生、伊勢崎を含む県はどれですか。右の地図中のア～キから1つ選んで、記号で答えなさい。



問7 下線部⑥について、秦氏の本拠地は現在の京都の太秦周辺にもあったといわれ、平安京遷都の際にも秦氏が重要な役割を果たしたとされます。これらについて次の各問いに答えなさい。

- (1) 平安京に遷都した天皇は誰ですか。漢字で答えなさい。
- (2) 平安京を護る目的をもつ、比叡山に建立された寺院を何といいますか。下から1つ選んで、記号で答えなさい。
- (ア) 金剛峯寺 (イ) 延暦寺 (ウ) 東大寺 (エ) 薬師寺

問8 下線部⑦について、養蚕の衰退に影響を与えたライフスタイルの変化を、衣食住の「衣」の面から具体的に1つ説明しなさい。

問9 下線部⑧について、日明貿易を開始した人物は金閣をつくったことでも知られています。この人物は誰ですか。氏名を漢字で答えなさい。

3 次の文章をよく読んで、後の各問いに答えなさい。

先生：今日は、私たちの生活に身近な「食」について考えていきましょう。太郎君や花子さんは、今までに食べるものがなくて困った経験はありますか？

太郎：家に帰ればお母さんがご飯やおやつを用意してくれるし、学校では給食があるから、特に困ったことはないかな…。

花子：日本にいる私たちにとって、食べたいものがいつでも手に入るということは当たり前すぎて、あまり意識したことがないわ…。

先生：そうですね。でも、世界の人々にとって、この「食」が当たり前のものかという決してそうではありません。世界の約70億人の人口のうち栄養不足人口はおおよそ10億人。実に7人に1人が日々の食事に困っているのですよ。世界の人口は2050年には90億人に達すると予想され、世界の食料問題はさらに深刻になると考えられています。

太郎：本当ですか？日本ではスーパー、コンビニ、飲食店で食べるものがあふれていて、期限切れの食品が毎日大量に捨てられているという話も聞いたことがあったので、食料が不足しているなんて考えてもみなかったな。

花子：日本は農業や漁業、酪農などの第(A)次産業にたずさわる人が減少していて、①食料自給率が問題になっているという話を聞いたことがあるわ。

太郎：食料の生産が不足しているはずの日本で、日本人がお腹いっぱい食料を食べ、食べきれなかったものを捨てている。外国で食料を生産している人たちが、自分たちの日々の食事に困っている。とても不公平な話ですね。

先生：豊かな食生活をしている私たちが、社会の中で果たさなくてはいけない責任というものがあるのではないのでしょうか。

太郎：食料を捨てない、無駄にしないことは最低限の責任だと思います。

先生：食料廃棄物の抑制と資源としての有効利用をうながすために食品リサイクル法が②国会で制定されました。食品メーカー、スーパー、レストランなどの食品関連業者が中心となって、食料廃棄物を飼料や肥料などに再利用していくことを取り決めた③法律です。限りある資源を効率的に再利用したりする社会を循環型社会といい、④内閣では(B)省を中心に廃棄物リサイクルの対策を行っています。

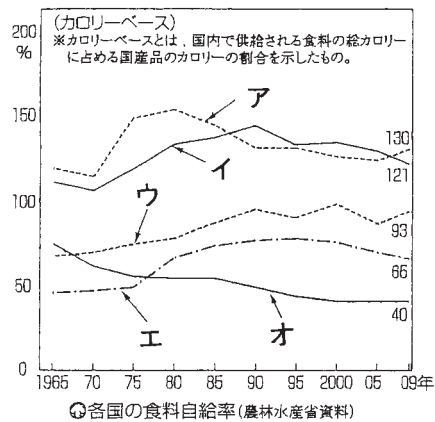
花子：「食」をめぐる現状についてしっかり理解することも私たちの責任だと思います。

先生：国民の食生活においては、栄養のかたより、不規則な食事、肥満や生活習慣病の増加などの問題に加え、新たな「食」の安全上の問題や、「食」の海外への依存の問題が生じています。食生活の改善の面からも、「食」の安全の確保の面からも、⑤和食の見直しや、「食」のあり方を学ぶ⑥食育も求められています。

太郎：僕たちの豊かな食生活は、外国の人々の支えの上に成り立っているのだから、僕たちも海外で困っている人たちに支援する⑦国際貢献も重要な責任ですね。

問1 文章中の空欄(A)(B)に当てはまる語句は何ですか。それぞれ答えなさい。

問2 下線部①について、次のグラフは、日本・アメリカ・イギリス・フランス・ドイツの5カ国の食料自給率の推移を示したものです。このグラフのうち、日本にあてはまるものはどれですか。下の図中のア～オから1つ選んで、記号で答えなさい。



問3 下線部②について、国会についての下の文章中の空欄(あ)～(う)に入る語句は何ですか。漢字3字でそれぞれ答えなさい。

国会の審議は、衆議院と参議院のそれぞれにおいて、院の議員全体が参加する(あ)と、議員が分かれて参加する(い)で行われます。国会に提出された議案は、まず(い)で審議され、その結果は(あ)に報告され、討論ののちに採決されます。重要な議案では、(い)の審議において、専門家などの意見を聞く(う)が開かれることがあります。

問4 下線部③について、法律は国会だけが制定することができますが、これらの法律が憲法違反していないかどうかを判断する権限は裁判所に与えられています。この権限を何といいますか。漢字7字で答えなさい。

問5 下線部④について、国会で決めた法律や予算にもとづいて実際に国の仕事を行う行政機関が内閣です。内閣は、その長である内閣総理大臣(首相)とその他の国務大臣で組織されます。

- (1) 現在の内閣総理大臣の氏名を漢字で答えなさい。
- (2) 内閣総理大臣についての説明として最も適当なものは次のうちどれですか。下から1つ選んで、記号で答えなさい。

- (ア) 内閣総理大臣は、国民の選挙で直接選ばれる。
 (イ) 内閣総理大臣は、国務大臣を任命したり、罷免したりできる。
 (ウ) 内閣総理大臣は、参議院を解散することができる。
 (エ) 内閣総理大臣は、最高裁判所の長官を任命することができる。

問6 下線部⑤についての説明として適当でないものは次のうちどれですか。下から1つ選んで、記号で答えなさい。

- (ア) 2013年に「和食；日本人の伝統的な食文化」がユネスコ無形文化遺産に登録された。
 (イ) 季節の花や葉を料理に飾りつけたり、季節に合った器を利用したりして、季節感を表現している。
 (ウ) 近年、和食の良さが見直され、米の国内消費量は増加傾向にある。
 (エ) 一汁三菜を基本とする和食は、旬の野菜などを使った栄養バランスにすぐれた食事である。

問7 下線部⑥について、現代の食生活における問題点を「こ食」と表現されることがあります。「こ食」の「こ」にあてはまる漢字は複数考えられます。「こ食」の「こ」にあてはまる漢字を1つ答えなさい。また、その言葉の意味を説明しなさい。

問8 下線部⑦について、政府が行う国際貢献の一つとして、政府が税などで集めた公的資金をつかって、発展途上国の経済開発や福祉向上の充実をめざす援助があります。このことを何といいますか。下から1つ選んで、記号で答えなさい。

- (ア) ODA (イ) NGO (ウ) GNP (エ) NPO