

社会 (第1回)

1 次のA・Bの文章を読んで、各問いに答えなさい。

A 全国には様々なブランド化された生産物があります。例えば① お米では②「コシヒカリ」・「ひとめぼれ」・「ヒノヒカリ」など、どれもお米であることに変わりはありませんが、様々な名前がつけられています。このような「ブランド化」は農業に限った傾向ではなく、③「松阪牛」や「かごしま黒豚」、④「大間のマグロ」や「関サバ」など、畜産業や水産業にも広がっています。また生産物自体に特別な名前がついていなくても⑤「○○産のみかん」や「△△産のたまねぎ」などの表記だけでも「ブランド化」に近い効果を発揮しているものもあります。しかし、近年このような傾向を悪用した⑥「食品偽装問題」が起こっています。問題を起こした企業は、その食品が持つブランド力を利用して不当な利益を得ようとしたり、返品・欠品を減らしてコストを削減しようと、このようなことをおこなってしまいます。しかし私たち消費者は販売者を信頼して食品を購入していますので、販売者が利益を優先して嘘の表示をすることは、決してあってはならないのです。

問1 下線部①について、お米の生産量が最も多い地域はどこですか。下から1つ選んで、記号で答えなさい。

- (ア) 東北地方 (イ) 関東地方 (ウ) 四国地方 (エ) 九州地方

問2 下線部②について、なぜ同じ生産物に様々な名前をつける「ブランド化」が行われているのですか。「ブランド化」を行っている生産者の目的として考えられることを答えなさい。

問3 下線部③について、松阪牛が主に飼育されている三重県の庁所在地はどこですか。漢字で答えなさい。

問4 下線部④について、どちらの魚も商品としての価値を高めるため、主に同じ漁法が行われています。その漁法を下から1つ選んで、記号で答えなさい。

- (ア) 定置網漁法 (イ) 一本釣り漁法 (ウ) はえなわ漁法 (エ) 地引き網漁法

問5 下線部⑤について、生産物がおいしいと消費者に認知されれば消費量が増え、それに伴って生産量も増えていきます。下線部の○○や△△に生産量日本一(『日本国勢図会 2014/15年版』のデータに基づく)の都道府県が入るとすると、当てはまる都道府県はどこですか。それぞれ漢字で答えなさい。なお、○や△の数は正解となる文字数とは関係ありません。

問6 下線部⑥について、このように呼ばれる問題には含まれないものはどれですか。下から1つ選んで、記号で答えなさい。

- (ア) はじめは国産食品を販売する予定であったが仕入れることができなかったので、外国産食品であると表示した上で販売した。
- (イ) 売れ残った食品の中から不良品だけを取りのぞいたうえで再び包装直し、新しい消費期限を表示した上で販売した。
- (ウ) レストランにおいて、味が大きく変化することもないのでメニューに表示されている原材料とは異なる原材料を使って調理・提供した。
- (エ) レストランにおいて、他のお客様が食べ残した食品を捨ててしまうのがもったいないので、きれいにもりつけ直し、別のお客様に提供した。

B 日本は1992年、ユネスコの世界遺産条約を結び、翌年、日本から初めて、「法隆寺地域の仏教建造物」及び「姫路城」の2件が文化遺産として、⑦「白神山地」及び「屋久島」の2件が自然遺産として、世界遺産一覧表に記載されました。その後順調に登録件数は増えていき、国内に世界遺産が認められてから20年目の節目を迎えた2013年には、⑧「日本最高峰の富士山が「富士山～信仰の対象と芸術の源泉～」として登録されました。

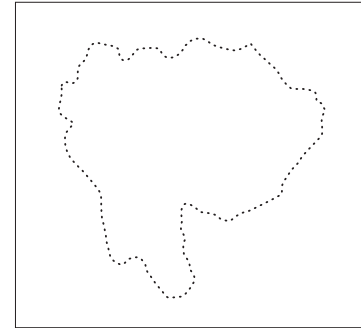
世界文化遺産候補は近年では毎年1つの国から1件のみ推薦することができます。2015年(今年)には⑨「明治日本の産業革命遺産 九州・山口と関連地域」が、2016年には⑩「長崎の教会群とキリスト教関連遺産」が、それぞれ登録を目指して推薦される予定となっています。

問7 下線部⑦について、白神山地は原生林の保全が自然遺産に登録された理由の1つとなっています。それは何の原生林ですか。下から1つ選んで、記号で答えなさい。

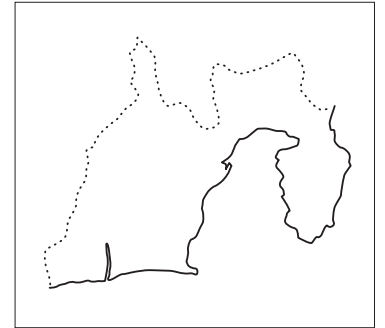
- (ア) ひのき (イ) けやき (ウ) ぶな (エ) ひば

問8 下線部⑧について、富士山は2つの県にまたがっています。何県と何県ですか。2つの県の形を下からそれぞれ選んで、記号で答えなさい。なお、地図上の実線(一)は海岸線を、点線(…)は都道府県の境界線を、それぞれ表しています。また、出題の都合上、縮尺が一定ではありません。

(ア)



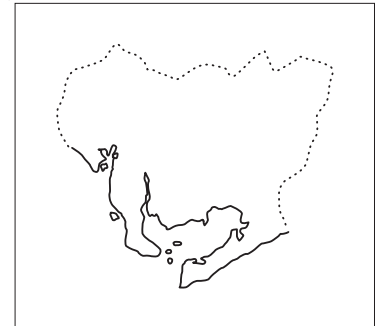
(イ)



(ウ)



(エ)



問9 下線部⑨について、この遺産は8県11市にまたがり、その最初に挙げられているのが山口県萩市の遺産群です。山口県には早くから西洋技術を利用した工業発展が見られ、現在でも工業がさかんです。山口県の工業都市と主要産業の組合せとして正しいものを下から1つ選んで、記号で答えなさい。

- (ア) 呉市－造船業 (イ) 山陽小野田市－自動車工業
(ウ) 周南市－石油化学工業 (エ) 岩国市－セメント工業

問10 下線部⑩について、「長崎の教会群」は長崎市内に点在していますが「キリスト教関連遺産」は長崎市内ではなく、少し離れた県内の半島に点在しています。この半島の北西には現代まで干拓事業が進められている諫早湾があります。また、この半島では江戸時代においてキリスト教徒による大きな反乱が起きました。この半島はどこですか。漢字で答えなさい。

② 次の文章を読んで、各問いに答えなさい（文章中の「相撲」は現在「すもう」とも読みます）。

A 日本の国技ともいわれる相撲は、古くから宮中などで行われてきました。①奈良時代には七夕と結びつき、「相撲節会」という公式行事となり、全国各地から相撲人(力士)が集められました。この②「相撲節会」は平安時代には衰退しましたが、京周辺の大きな寺社などの神事では相撲人(力士)が集められ、流鏝馬や競馬とともに相撲が行われました。

武士の中には、相撲を好んだものも多く、③源頼朝をはじめとする鎌倉幕府の将軍は鶴岡八幡宮で相撲を行わせたり、放生会などの際には寺社へ相撲を奉納していました。また、戦国時代の④織田信長は、1570年から毎年、大勢の相撲人(力士)を集め、相撲を見物し、活躍したものを家来にしていました。江戸時代に入ると、⑤寺社奉行が統制するようになり、職業人としての相撲人が現れ、現代のような相撲が行われるようになりました。

B 近代オリンピックは、1896年にアテネで開かれたのが最初です。この頃の日本は、明治時代に入って約30年、⑥江戸幕府の行っていた鎖国政策を変え、欧米の技術力を次々に導入している時期で、⑦日清戦争に勝利した直後でした。日本は、1902年に日英同盟を結び、⑧日露戦争に勝利するなど、欧米諸国と肩を並べる存在となりました。そして、1912年、オリンピックとしては5回目となるストックホルム大会に初参加を果たしました。

第一次世界大戦の後に作られた⑨国際連盟の常任理事国となった日本は、国際社会での立場も大きくなり、⑩1936年には、1940年に行われるアジア初のオリンピックの開催権を獲得しました。しかし、この東京大会は、日中戦争の影響等から、1938年に開催権を返上し、幻となってしまいました。その後の日本は、1941年に米英との戦争に突入し、敗れました。そして、戦後復興を果たした日本は、(あ)年に東京オリンピックを実現しました。

問1 下線部①について、「相撲節会」が公式行事となった頃の天皇は、聖武天皇です。この天皇は、朝廷の許可を得て、新しく開墾した土地については、永久に私有することを認める法令を出しました。この法令を何といいいますか。答えなさい。

問2 下線部②について、「相撲節会」が行われなくなった背景には、摂関政治が行われるようになり、天皇の権威が低下したことも1つの理由でした。4人の娘を天皇のもとに嫁がせ、権力を握った人物は誰ですか。氏名を漢字で答えなさい。

問3 下線部③について、鎌倉幕府の3代将軍は暗殺されました。以後、摂関家や皇族から将軍が迎えられました。暗殺された将軍は誰ですか。下から1人選んで、記号で答えなさい。

- (ア) 源義家 (イ) 源実朝 (ウ) 源頼義 (エ) 源頼家 (オ) 源義朝

問4 下線部④について、織田信長が武田氏の騎馬隊を、鉄砲隊で破った戦いを何といいいますか。下から1つ選んで、記号で答えなさい。

- (ア) 姉川の戦い (イ) 関ヶ原の戦い (ウ) 長篠の戦い
(エ) 桶狭間の戦い (オ) 小牧・長久手の戦い

問5 下線部⑤について、寺社奉行は将軍直属の役職ですが、この役職とともに三奉行と呼ばれた勘定奉行や町奉行を指揮した役職は何ですか。下から1つ選んで、記号で答えなさい。

- (ア) 老中 (イ) 側用人 (ウ) 目付 (エ) 若年寄 (オ) 大目付

問6 下線部⑥について、鎖国政策を説明した文章のうち、誤っているものはどれですか。下から1つ選んで、記号で答えなさい。

- (ア) 1792年にはロシアのラックスマンがエカテリーナ2世の国書を持って通商を求めてきたが、幕府は鎖国を理由に拒否した。
- (イ) 鎖国には、キリスト教禁止の徹底という目的もあり、幕府は絵踏(踏絵)などを行い、取り締まりをさらに強化した。
- (ウ) 1639年にスペイン船の来航を禁止すると、2年後には平戸にあったオランダの商館を長崎の出島に移して、鎖国を完成させた。
- (エ) 1808年にはイギリスが、オランダ船を追いかけて長崎に侵入するフェートン号事件を起こすなどしたため、1825年には異国船打払令が出された。
- (オ) 鎖国下ではあったが、徳川吉宗は、キリスト教に関係のない漢訳洋書の輸入は許可しており、新しい知識の輸入は行われていた。

問7 下線部⑦について、日清戦争の賠償金の一部を利用して、北九州に製鉄所が設けられましたが、何という製鉄所ですか。答えなさい。

問8 下線部⑧について、日英同盟を結んだ日本は、日露戦争を行うこととなりますが、この戦争の講和条約は、結ばれた都市名にちなんで何といますか。答えなさい。

問9 下線部⑨について、国際連盟を説明した文章のうち、誤っているものはどれですか。下から1つ選んで、記号で答えなさい。

- (ア) 国際連盟は、アメリカ大統領ウィルソンが、再び悲惨な戦争が起きないようにするために提唱した。
- (イ) 国際連盟の本部はスイスのジュネーブに置かれていた。
- (ウ) 国際連盟にアメリカは加盟していなかった。
- (エ) 国際連盟への日本の加盟は、ソ連との国交が回復してはじめて認められた。
- (オ) 国際連盟の総会での議決方法は、全会一致であったため、国際連盟としての意思決定ができないことが多かった。

問10 下線部⑩について、この同じ年には陸軍の青年将校らが首相官邸などを襲い、内大臣や大蔵大臣が殺害される事件が起りましたが、何という事件ですか。下から1つ選んで、記号で答えなさい。

- (ア) 二・二六事件 (イ) 三・一五事件 (ウ) 四・一六事件
- (エ) 五・一五事件 (オ) 九・一一事件

問11 文中の空欄(あ)には、西暦が入ります。何年ですか。答えなさい。

3 次の文章を読んで、各問いに答えなさい。

① 大日本帝国憲法の下では、天皇の権力が強く、民主的な仕組みが整っていませんでした。また、天皇に対しての反対意見を言ったり、書いたりしてはいけないなど社会運動を厳しく取り締まる(1)法が1925年に制定されました。

その反省をいかして日本国憲法が制定されました。日本国憲法は独裁的な要素はすべて排除されており、大きな3つの柱から成り立っています。それは、(2)・② 基本的人権の尊重・③ 平和主義の3つです。

日本国憲法では、(3)が国権の最高機関と定められています。また(3)議員の中から、(4)大臣を選び、その(4)大臣が(5)を選んで内閣をつくります。(5)の過半数は(3)議員でなくてはならないという仕組みになっています。

④ 裁判所は(3)や内閣から独立して、人権が守られているかどうかの判断をしたり、⑤ 個人や団体間の争い事(金銭・相続など)の解決をしたり、犯罪を犯した人の刑罰を決めるなどの役割を担っています。

問1 文章中の空欄(1)～(5)に当てはまる語句を漢字で答えなさい。

問2 下線部①について、大日本帝国憲法では主権は誰にありましたか。漢字で答えなさい。

問3 下線部②について、1948年に熊本県人吉市で殺人事件が起き、容疑者として免田栄さんという青年が逮捕されました。殺人を一度自白したために死刑判決を受けましたが、無罪を叫び続けて1983年に無罪となりました。賠償金は支払われたものの、人生の一番輝く時を奪われ、もうその35年は戻ってきません。

このように無罪の人を有罪としてしまうことを何といますか。答えなさい。

問4 下線部③について、憲法第9条には、戦争放棄の内容が記載されています。憲法の条文自体は1度も改正されたことがありません。しかし、憲法制定当時は自衛のための攻撃も憲法違反だと解釈されていましたが、自衛のための攻撃は憲法違反ではない、同盟国を助けることも憲法違反ではない、と政府のとらえ方が変化してきています。このように条文を変えるのではなく、条文のとらえ方を見直すことを何といますか。下から1つ選んで、記号で答えなさい。

- (ア) 集団的自衛権 (イ) 解釈改憲
- (ウ) 安全保障会議決定 (エ) 文民統制

問5 下線部④について、裁判所は全部で5種類あります。最高裁判所・地方裁判所・家庭裁判所・簡易裁判所とあとも1つは何ですか。漢字で答えなさい。

問6 下線部⑤について、この裁判は何と呼ばれますか。漢字で答えなさい。