

社会 (第4回)

1 次の文章を読んで、各問いに答えなさい。


広域合併によって2005年に人口が80万人を突破した新潟市は、2007年に本州の日本海側で初の(あ)都市となりました。新潟市の中心部にあたる①信濃川河口部には古くから港があり、現在でも水陸交通の重要な場所となっています。また、空の玄関である新潟空港は、(い)地震の影響で不通となった上越新幹線の代替経路として、2004年に東京国際空港との間に臨時路線が開設され、大いに利用されました。

また信濃川と阿賀野川が日本海に流れ込む場所は、低湿な平野と、海にそって続く砂丘と数多くの潟湖が形成されています。「潟」とは、湾が砂州(※注)によって外海から隔られ湖や沼のようになった地形のことです。この潟の②水を抜き取ったり干上がらせる工事を行い、広大な水田が広がる一方、現在でも鳥屋野潟や佐潟、福島潟などの潟湖が残されています。その中でも佐潟は1997年に③ある条約の登録湿地となりました。

新潟県内は、日本海側気候のため冬の湿度が高く、全域が豪雪地帯に指定されています。しかし、新潟市街地は広い平野の海沿いであって越後山脈から離れているため、④一般的な日本海側の降雪のしくみとは異なります。また、西からの季節風の風上には佐渡島があるため、日本海側の他の諸都市と比べて降雪量が少ないのです。夏には、⑤フェーン現象が非常に起こりやすく温暖かい強風が吹きます。これによって気温が異常に上昇することもあります。

※注 砂州…沿岸の流れによって運ばれた砂や礫が堆積することで形成された地形。

- 問1 問題文中の空欄(あ)・(い)に当てはまる語句を、それぞれ漢字で答えなさい。
- 問2 下線部①に関して、長野県から流れ込んでくる川が新潟県に入り「信濃川」と呼ばれます。長野県を流れている間は何と呼ばれますか。
- 問3 下線部②に関して、このような工事を何といいますか。漢字で答えなさい。
- 問4 下線部③の「ある条約」とは何ですか。下から1つ選んで、記号で答えなさい。
- (ア) ラムサール条約 (イ) ワシントン条約
(ウ) スtockホルム条約 (エ) ウィーン条約
- 問5 下線部④に関して、次の仕組み図を参考に、一般的な日本海側の降雪のしくみを説明しなさい。



※ 上図中の「→」は風の動きを表しています。

問6 下線部⑤に関して、この現象によって起こったと推測される「40.8℃」という気温が、東北地方のある県の県庁所在地で記録されました(1933年7月25日)。この県庁所在地はどこですか。下から1つ選んで、記号で答えなさい。

- (ア) 仙台市 (イ) 盛岡市 (ウ) 青森市 (エ) 山形市

2 各時代の国家体制に関する文章を読んで、各問いに答えなさい。なお、問題文中A～Fは各問題文で表されている時代の間に位置する時代を表しています。

A

後継者争いに勝利した皇子は(1)天皇となり、兄の意志を引き継ぎ、①一連の政治改革を推し進めました。これは天皇を中心とする中央集権国家をつくりあげようとするもので、彼から彼の妻である持統天皇にかけて、天皇家の勢いはいつそう増していきました。一連の政治改革の方針は、わが国最初の整った法典である大宝律令にまとめられ、天皇を中心とする中央集権国家の基礎が確立されました。

B

中央集権国家が建設される中で、藤原氏は常に重要な地位を保っていました。彼らは自分の娘を天皇にとつがせ、天皇と親戚関係を結び、天皇が幼少の時には<a>として、また成人してからはとして、天皇に代わって政權を握るようになりました。特に(2)は4人の娘を天皇にとつがせ、藤原氏の全盛期を築きました。

C

ライバルであった源義朝をIの乱で倒した平清盛は、武士として初めて<c>の位につきました。平氏一族もみな高い位につきましたが、平氏の権力独占は天皇や貴族の反感を買うようになりました。彼らの不満を吸収し平氏を滅ぼした源頼朝は、朝廷から<d>に任じられ②鎌倉に幕府を開きました。これから約700年間、武家の政治が行われることとなりました。

D

(3)などの有力な武士を味方につけた後醍醐天皇は、天皇を中心とする国家体制を再び作り上げようとして、しかし天皇は貴族を優遇したため不満を持った武士たちは、(3)を中心として後醍醐天皇と対立しました。その結果、後醍醐天皇は③吉野に逃れ、一方京都には幕府が開かれて再び武家による政治が行われるようになりました。

E

戦国時代を勝ち抜いた徳川家康は<d>となり、④江戸に幕府を開きました。幕府は大名に対してきびしいとりしまりを行うだけでなく、朝廷や公家、そして農民に対する統制も行い、強力な中央集権国家を作り上げていきました。

F

問1 問題文中の(1)～(3)に当てはまる語句を、それぞれ漢字で答えなさい。

問2 問題文中のIに当てはまる語句を下から1つ選んで、記号で答えなさい。

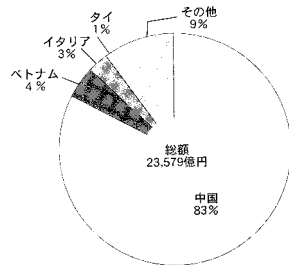
- (ア) 応仁 (イ) 平治 (ウ) 壬申 (エ) 保元

問3 問題文中の< a >～< d >に関して述べた文として間違っているものを下から1つ選んで、記号で答えなさい。

- (ア) 女帝推古天皇が即位すると、聖徳太子は< a >となって政治を担当した。
 (イ) 菅原道真は宇多天皇の< b >となり、彼の意見で遣唐使は廃止された。
 (ウ) 豊臣秀吉は< b >や< c >に任命されたが、幕府を開くことはなかった。
 (エ) 坂上田村麻呂は< d >に任命され、蝦夷討伐を行った。

問4 下線部①を具体的に何といいますか。5字で答えなさい。

問5 下線部②に関して、この当時、鎌倉には「和賀江島」と呼ばれる港湾設備が築かれ、中国との貿易が考えられました。下のグラフは、現在の中国からの輸入が大半を占める主要な輸入品についてのものです。この輸入品を下から1つ選んで、記号で答えなさい。

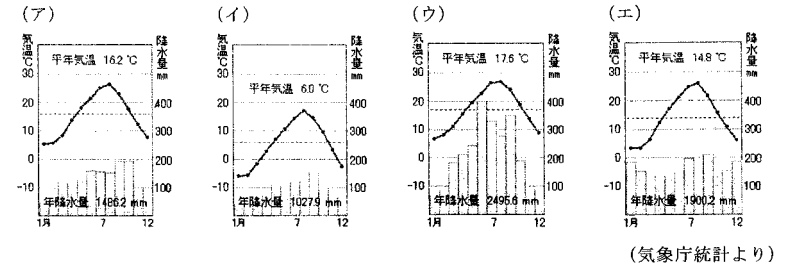


(2009年度 財務省統計より)

- (ア) 電気機械
 (イ) 衣類
 (ウ) 農作物
 (エ) プラスチック・ゴム製品

問6 下線部③に関して、吉野から南に向かう街道は、和歌山県の高野や三重県の伊勢から続く街道とともに世界遺産に登録されています。この街道を何といいますか。漢字で答えなさい。

問7 下線部④に関して、江戸は現在の東京ですが、東京の雨温図を下から1つ選んで、記号で答えなさい。



問8 次の史料(ア)～(エ)はそれぞれいつの時代のものでしょうか。最も適する時代を、問題文中のA～Fから1つずつ選んで、それぞれ記号で答えなさい。なお、同じ記号は二度使用できません。

- (ア)「賀茂川の水と、すぐろくのさいの目と、比叡山延暦寺の僧兵、これだけが私(白河法皇)の意のままにならないものである。」
 (イ)「都はすっかり焼け野原となり、今ではひばりまでが飛んでいる。そのひばりが夕空を上っていくのを見ても涙が落ちて、止めることができないのです。」
 (ウ)「天皇の詔に対しては、必ず謹んでこれに従え。天皇は天であり、臣は地である。」
 (エ)



3 次の文章を読んで、各問いに答えなさい。

古代ギリシアの哲学者アリストテレスは、「人間は社会的動物である」という言葉をのこしました。この言葉はどのような意味でしょうか。私たちの身の回りのことから考えてみましょう。人間は必ずどこかの集団に所属しています。家族、学校、会社、地域社会、国、他にも多種多様な集団が存在し、その中で役割分担がなされています。その集団の運営やルールづくりをすることが「政治」の目的の一つです。私たちに関わりのある「政治」は様々あります。私たちが①選挙を行うことや②国会・内閣・裁判所で行われていること、③国際連合で行われていること、④NGOなどが活動すること、⑤世界平和のために働きかけることなど、これら全てが「政治」です。これらがあってはじめて、私たちの生活や安全が守られているのです。

また、生きていくために必要な食料や日用品、サービスなども、全て自分でまかなうことはきわめて困難です。そのため人間はそれらを、⑥それぞれの役割分担のもとに生産し、流通させ、消費します。これが「経済」であり、各国の経済規模を表す指標としてはおもにGDPが用いられます。現在日本のGDPはアメリカ、(あ)に次いで第3位ですが、2012年には現在第4位の(い)と入れ替わると予想されています(※注)。

人間は一人では生きていけません。まわりの人々と協力してルールを決め、お互いに補い合っ必要のものを生産し、消費します。現代社会の「政治」や「経済」の規模は、アリストテレスの生きていた時代とは大きく異なりますが、このような「政治」と「経済」を大前提として生きる人間の様子を見て、アリストテレスは「人間は社会的動物である」と表現したのでしょうか。

(※注)『IMF推測による世界各国GDPの推移(2007年－2013年)』より

問1 下線部①に関して、一般の国民が行う選挙として間違っているものを、下から1つ選んで、記号で答えなさい。

- (ア) 自分の住んでいる市区町村の首長を選挙で選ぶ。
- (イ) 自分の住んでいる都道府県の知事を選挙で選ぶ。
- (ウ) 国会議員のうち、衆議院議員・参議院議員どちらも選挙で選ぶ。
- (エ) 衆議院議員選挙のときに、最高裁判所長官を選挙で選ぶ。

問2 下線部②に関して、以下の(ア)～(エ)の文章のうち、二重下線部が間違っているものが2つあります。間違っている文章の記号を答え、二重下線部を正しく書き直しなさい。なお、漢字で書かれているものを書き直す場合は漢字で、カタカナで書かれているものを書き直す場合はカタカナで答えなさい。

- (ア) 国会では法律や予算についての審議を行う。いくつかの重要な審議については参議院の議決が優越することが憲法で定められている。
- (イ) 内閣総理大臣は衆議院議員の中から選ばれ、国会によって任命される。
- (ウ) すべての裁判所に、違憲立法審査権が認められている。
- (エ) 政治の権力を行政・立法・司法に分けるとする三権分立は、フランスのモンテスキューが『法の精神』という本の中で主張したものである。

問3 下線部③に関して、国際連合の説明として間違っているものを、下から1つ選んで、記号で答えなさい。

- (ア) 第二次世界大戦後につくられた組織で、190を超える国や地域が加盟している。
- (イ) 世界平和の維持のために安全保障理事会が設置され、アメリカ・イギリス・フランス・ロシア・中国の5つが常任理事国となっている。
- (ウ) 平和維持を目的とする組織のため、紛争の解決には軍事力を一切用いない。
- (エ) 本部はニューヨークにある。

問4 下線部④に関して、NGOを日本語に直したものを、下から1つ選んで、記号で答えなさい。

- (ア) 国連平和維持活動 (イ) 非営利団体 (ウ) 国際通貨基金
- (エ) 非政府組織 (オ) 国内総生産

問5 下線部⑤に関して、日本は唯一の被爆国として、「核のない世界」を目指す運動を世界に発信していく責務があります。

- (1) 2010年8月6日、被爆地の一つである広島市で平和記念式典が開かれ、現役の国連事務総長が初めて出席しました。この事務総長の名前を答えなさい。
- (2) 広島市にある原爆ドームは1996年12月に世界遺産に認定されています。これは、原爆の恐ろしさを伝える「人類の負の遺産」として認定されたものの一つです。2010年8月に、同じく原爆の恐ろしさを伝える「負の遺産」として世界遺産に認定されたものを、下から1つ選んで、記号で答えなさい。なお、()内の国名はその世界遺産がある国です。
 - (ア) アウシュヴィッツ強制収容所(ポーランド共和国)
 - (イ) ゴレ島(セネガル共和国)
 - (ウ) ビキニ環礁(マーシャル諸島共和国)
 - (エ) ロベン島(南アフリカ共和国)

問6 下線部⑥に関して、商品の値段は、生産量や流通量、消費量によって大きく変わってきます。その他の要素を考えない場合、商品の値段が高くなるのはどのような場合ですか。説明しなさい。なお、生産・流通・消費のどの面から解答しても構いません。

問7 問題文中の空欄(あ)・(い)に当てはまる国名を下から1つずつ選んで、それぞれ記号で答えなさい。

- (ア) インド (イ) ブラジル (ウ) アルゼンチン (エ) 韓国 (オ) 中国